

1 حصص مباشرة

1

2 حصص مسجلة

2

3 دورات مكثفة

3

أحصل على بطاقة الإشتراك



دروسكم
منصة التعليم الإلكتروني

1 حصص مباشرة

2 حصص مسجلة

3 دورات مكثفة

أحصل على بطاقة الإشتراك



التمرين الأول

المتابعة الزمنية عن طريق قياس الضغط

دروسكم
منصة التعليم الإلكتروني

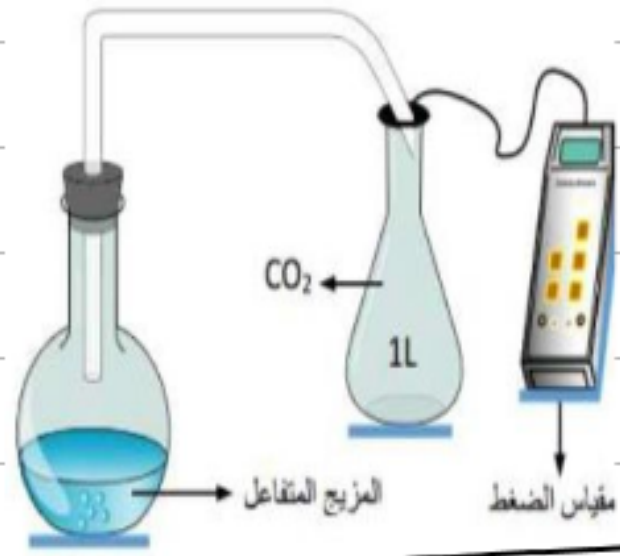
ملف الحصة المباشرة و المسجلة

1 حصص مباشرة

2 حصص مسجلة

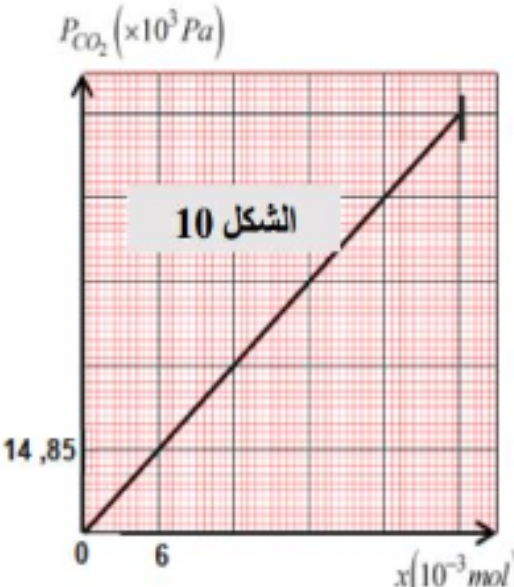
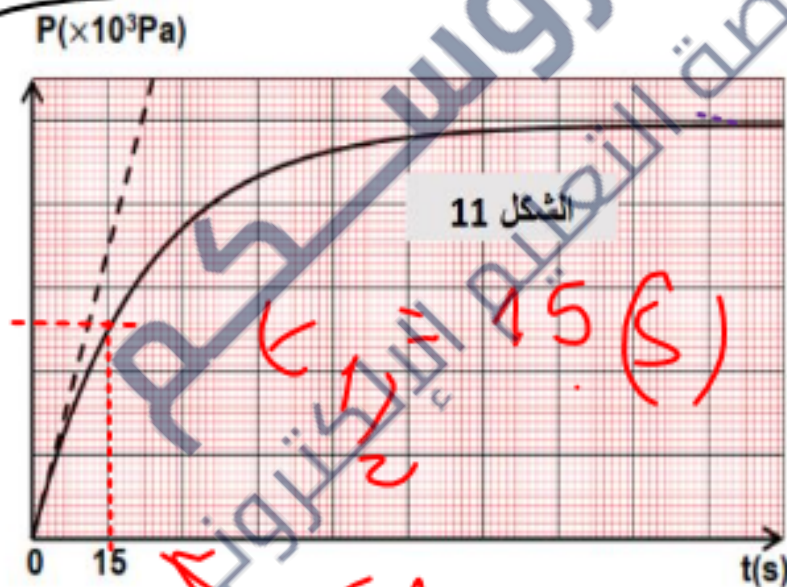
3 دورات مكثفة

أحصل على بطاقة الإشتراك



قام بفوج من التلاميذ بدراسة حركية التفاعل بين كربونات الكالسيوم $CaCO_3(s)$ ومحلل مائي (S_0) لحمض كلور الهيدروجين $(H_3O^+ + Cl^-)$ تركيزه المولي $C_0 = 0,4 mol / L$. يحتوي الطباشير على نسبة $P\%$ من كربونات الكالسيوم. وضعوا عند اللحظة $t = 0$ قطعة مسحوق من الطباشير $m = 3,5 g$ في حجم $V_a = 200 mL$ من المحلول (S_0) . التفاعل تام ومعادلته: $CaCO_3(s) + 2H_3O^+(aq) = CO_2(g) + Ca^{2+}(aq) + 3H_2O(l)$. تمت المتابعة الزمنية بقياس ضغط غاز ثاني أكسيد الكربون $CO_2(g)$ في اناء حجمه $V = 1 L$ ودرجة الحرارة فيه T . الدراسة التجريبية مكنتنا من رسم المنحنى البياني و $P_{CO_2} = f(t)$ و $P_{CO_2} = f(x)$ الموضحة في الشكل - 11 والشكل 12. يجرى التفاعل في درجة حرارة ثابتة.

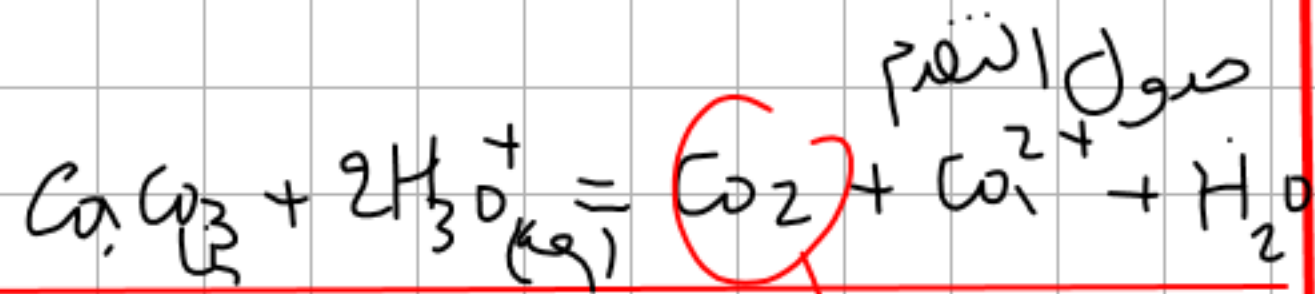
$CO_2 = 40 \cdot C = 12 \cdot 0 = 16$



- 1- أنجز جدولاً لتقدم التفاعل السابق.
- 2- اعتماداً على جدول تقدم التفاعل والمنحنيات البيانية:
 - أجد قيمة التقدم الأعظمي x_{max} .
 - بجد الضغط النهائي $P(CO_2)_f$ داخل الحوجلة، جد درجة حرارة الغاز الموجود في الدورق T .
 - جحدد المتفاعل المحد مع التعليل، ثم احسب كتلة كربونات الكالسيوم في قطعة الطباشير m_0 .
 - 3- احسب النسبة المئوية $(P\%)$ لكربونات الكالسيوم في قطعة الطباشير.

$v_v(t) = \frac{V}{V_n RT} \times \frac{dP}{dt}$ ثم احسب قيمتها عند اللحظة $t = 0$

- 4- بيّن انه لما $t = t_{1/2}$ يمكن كتابة العبارة التالية: $P(CO_2)_{t_{1/2}} = \frac{P(CO_2)_f}{2}$ ، ثم استنتج قيمة $t_{1/2}$.
- 5- بيّن ان السرعة الحجمية للتفاعل تكتب بالشكل: $v_v(t) = \frac{V}{V_n RT} \times \frac{dP}{dt}$ ثم احسب قيمتها عند اللحظة $t = 0$.



$$\frac{1}{2} n_0 - \frac{m_0}{T} \quad \text{CoV}_0 \quad 0 \quad 0 \quad 1$$

$$n_0 - x_f \quad \text{CoV}_0 - 2x_f \quad x_f \quad x_f \quad 1$$

$$n_0 - x_f \quad \text{CoV}_0 - 2x_f \quad x_f \quad x_f \quad 1$$

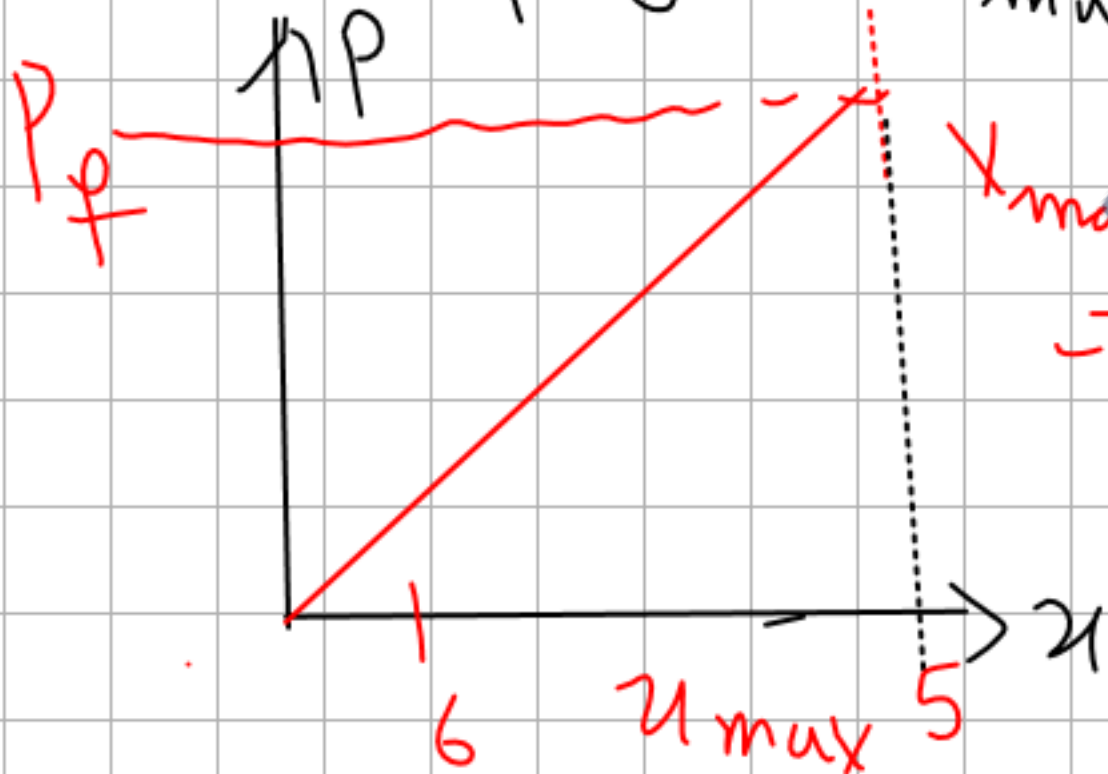
صود التفرم

$$n_{\text{max}} = 5 \times 6 \times 10^{-3} = 3 \times 10^{-3} = 0,03 \text{ mol}$$

$$P(\text{CO}_2) V(\text{CO}_2) = n(\text{CO}_2) R T$$

$$n(\text{CO}_2)_t = x_f$$

النتائج



$$x_{\text{max}} = 5 \times 6 \times 10^{-3} = 0,03 \text{ mol}$$

$$P_f V = n_f R T$$

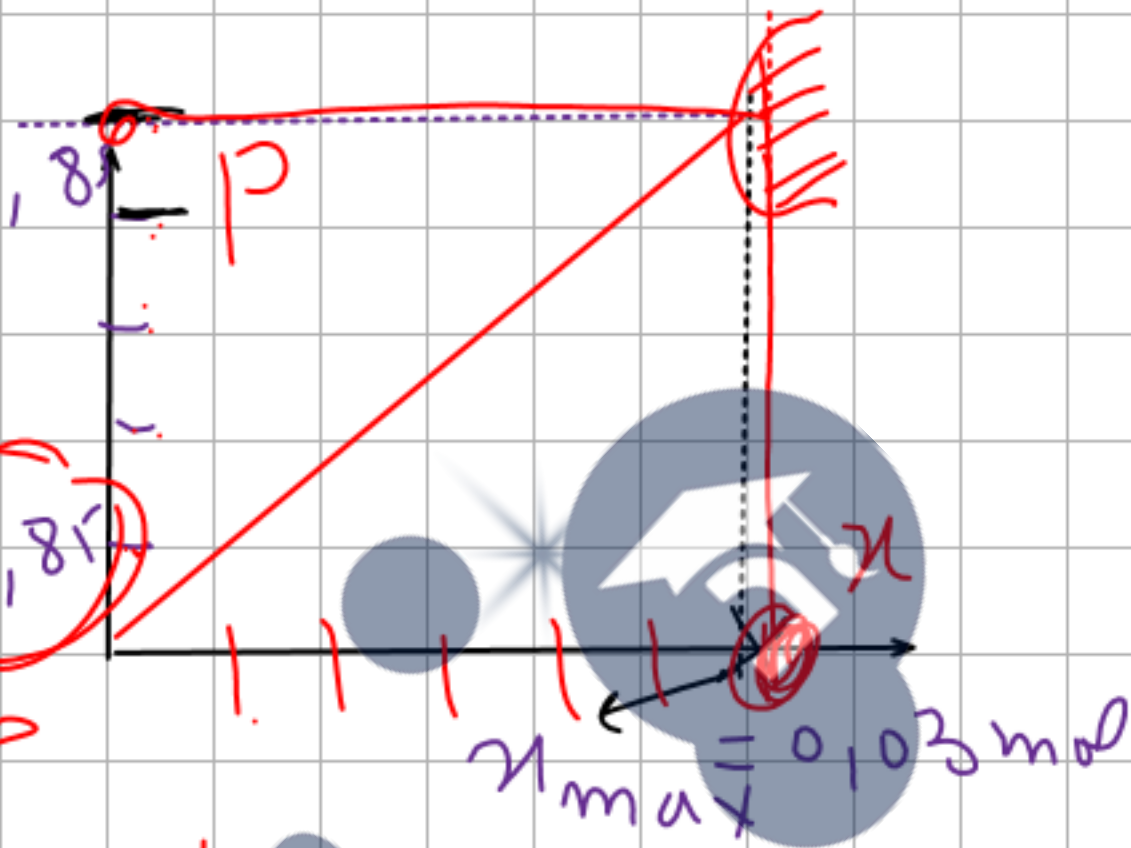
$$n_{\text{CO}_2} = x_f$$

$$P_f = \frac{n_f R T}{V_g}$$

$$P_f = P_{max} = 5(14,8)$$

$$P_f = 74,25 \cdot 10^3 \text{ Pa}$$

حساب د، ن، ا، ب، ت



$$P_{w_2} V_{w_2} = n_{w_2} R T$$

$$T = \frac{P_f \cdot V_{w_2}}{n_f \cdot R}$$

$$T = \frac{74,25 \cdot 10^3 \cdot (1 \cdot 10^{-3})}{(0,03) \cdot (8,31)}$$

لدينا $n_{w_2} = n_t$

$$n_{w_2} \cdot P_f = n_f \cdot P_{w_2}$$


$$T = 297,83 \text{ K}^\circ$$

از اکان CaCO_3 هو ابر

$$T = 297,83 - 273$$

$$= 24,83^\circ \text{C} \approx 25^\circ \text{C}$$

ظرب المتفاعل ابر



$$n_0 - x_f = 0$$

از اکان H_3O^+ هو المتفاعل ابر

$$C_0 = 0,4 \text{ mol/l}$$

$$C_0 V_0 - 2x_{\text{max}} = 0$$

$$x_f = x_{\text{max}} = 0,03$$

$$V_0 = 200 \text{ ml}$$

$$0,4(0,2) - 2(0,03) = 0$$

نالم

$$0,08 - 0,06 = 0,02 \neq 0$$

و اناك و ابر ابر
ابرو هو هو CaCO_3

ازن CaCO_3 هو المتفاعل الآخر

$$P = \frac{3}{3,5} \times 100 = 85,7\%$$

$$n_0 - X_{\max} = 0$$

$$n_0 = X_{\max} = 0,03 \text{ mol}$$

$$M_{\text{CaCO}_3} = 40 + 12 + 3 \times 16$$

$$n_0 = \frac{m_0}{M} \Rightarrow m_0 = n_0 M = 0,03 (100)$$

كثافة

$$M(\text{CaCO}_3) = 40 + 12 + (6 \times 3) =$$

40g, 12, 0, 18

المركب

$$P = \frac{m}{m_1} \times 100$$

الكتلة

$$m_0 = 100 \times 0,03 = 3 \text{ g}$$

الحاد سالم, سم
 $P = f(x)$ في بيان P_f

5 m $\rightarrow P_f$

1 m \rightarrow سلم السلم

$$\text{سلم السلم} = \frac{P_f}{5} = \frac{74,25 \cdot 10^3}{5}$$

$$1 \text{ m} \rightarrow 14,85 \cdot 10^3 \text{ Pa}$$

السرعة التي للتفاعل

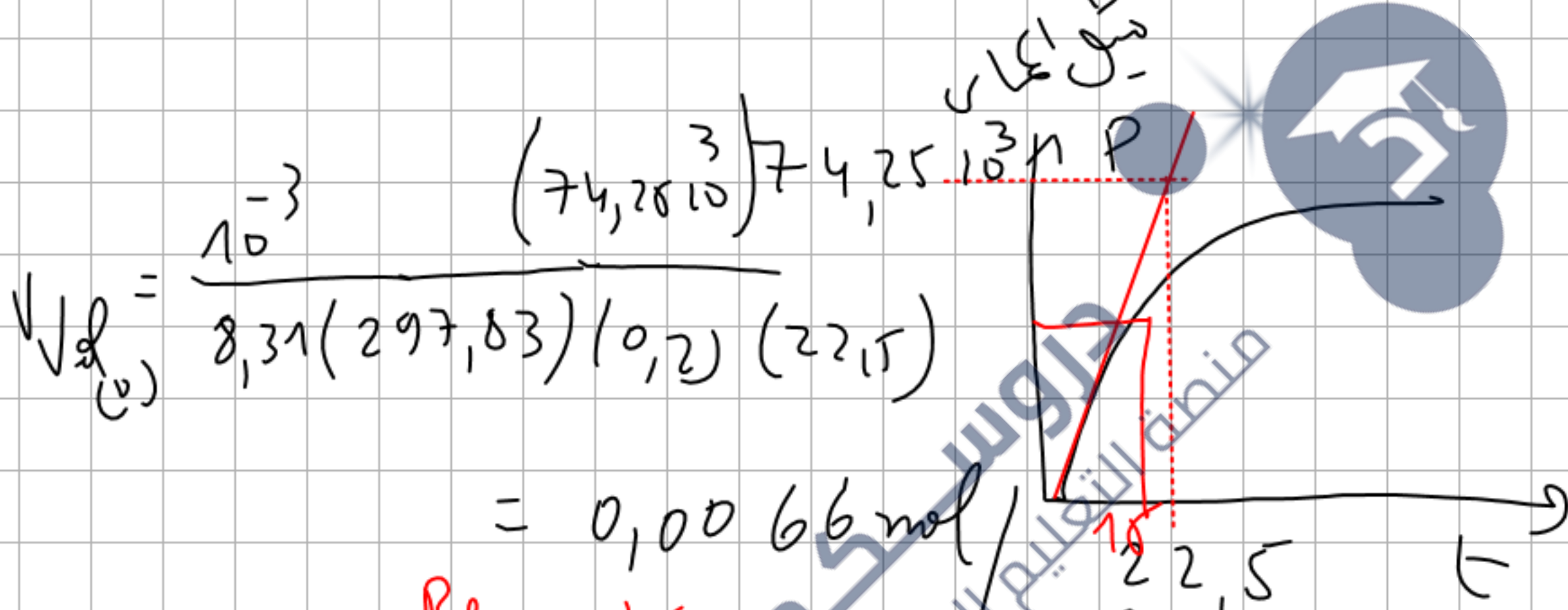
$$n(\omega_2) = \kappa t$$

$$\frac{(P, \omega_2) V_{\omega_2}}{RT} = \kappa t$$

سقف التروبي

$$\frac{dx}{dt} = \frac{V(\omega_2)}{RT} \frac{dp}{dt} = \frac{1}{V} \frac{dx}{dt} = \frac{V_{\omega_2}}{RT} \frac{dp}{dt}$$

$$V_{Vol(0)} = \frac{V_{CO_2}}{RTV} \left(\frac{dP}{dt} \right)_0 = \frac{10^{-3}}{8,31(297,8)} \quad ()$$



$$k_1 = \frac{P}{t} \quad \text{الدقة}$$

$$k_1 = 15 \text{ (s)}$$

$$P_{(\omega_2)} x_{1/2} = \frac{P_f}{2} \quad \text{سواء}$$

$$n(\omega_2)_t = x_t \quad \text{--- ①}$$

تساوي التفاعل

$$n(\omega_2)_f = x_{max} \quad (2T)$$

$$\boxed{\frac{x_{max}}{2} = \frac{n(\omega_2)}{2}}$$

$$n(\omega_2)_{x_{1/2}} = \left(\frac{x_{max}}{2} \right) = \frac{n_{x_{1/2}}}{2-T}$$

$$n(\omega_2)_{t_{1/2}} = \frac{n \omega_2 f}{2}$$



$$P_{t_{1/2}} = \frac{P_f}{2}$$

التمرين الثالث

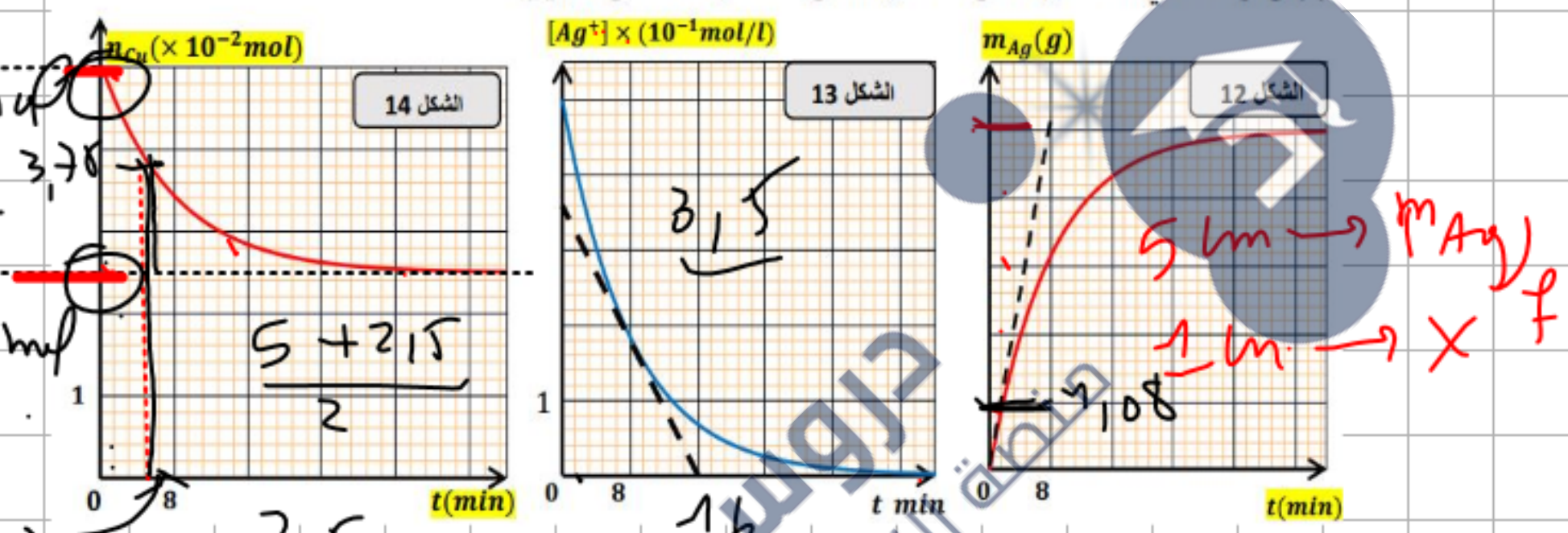
لغرض المتابعة الزمنية لتحول كيميائي بطيئ وتام نغمر في اللحظة $t = 0$ قطعة من معدن النحاس النقي $(Cu_{(s)})$ كتلتها m_0 في محلول (S_0) لنترات الفضة $(Ag^+ + NO_3^-)$ حجمه V_0 وتركيزه المولي C_0 .
المدراسة التجريبية مكنتنا من رسم المنحنيات البيانية $m_{Ag} = f(t)$ و $[Ag^+] = g(t)$ و $n_{Cu} = h(t)$ الموضحة في الشكل 12 والشكل 13 والشكل 14. على الترتيب.

Handwritten notes:

$$n_0(Cu) = 0,05 mol$$

$$n_f(Cu) = 2,5 \times 10^{-2} mol$$

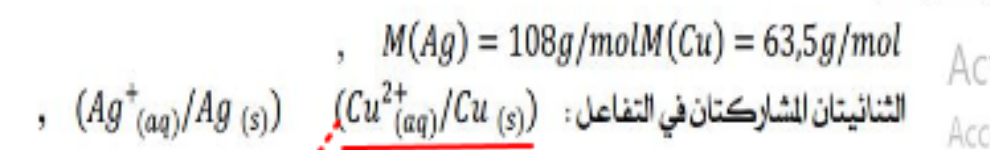
$$f = 0,025 mol$$



Handwritten note:

$$t_{1/2} = 4,8$$

8. أ، بين أن عبارة السرعة الحجمية للتفاعل $v_{vol}(t)$ تكتب بالشكل $v_{vol}(t) = \frac{-1}{2} \times \frac{d[Ag^+](t)}{dt}$
ب) أحسب قيمتها عند اللحظة $t = 8 min$
المعطيات:



1. اكتب المعادلتين النصفيتين الداخليتين في التفاعل.
2. أكتب المعادلة المعبرة عن التفاعل اكسدة-إرجاع للتحويل الكيميائي الحادث.
3. أنشئ جدول تقدم التفاعل.
4. اعتماد على جدول تقدم التفاعل والمنحنيات البيانية:
أ) حدد المتفاعل المحد وقيمة التقدم الأعظمي x_{max} .
ب) جد قيمة كل من المقادير التالية: m_0 و C_0 و V_0 .
ت) جد سلما مناسباً لمحور الترتيب للمنحنى $m_{Ag} = f(t)$.
5. عرف زمن نصف التفاعل.
6. بين أنه لما $t = t_{1/2}$ يمكن كتابة العبارة: $n_{(Cu)}(t_{1/2}) = \frac{n_0(Cu) + n_f(Cu)}{2}$ ثم استنتج قيمة $t_{1/2}$.
7. أ، بين أن عبارة سرعة التفاعل $v(t)$ تكتب بالشكل $v(t) = A \times \frac{dm_{Ag}(t)}{dt}$ حيث A ثابت يطلب إيجاد عبارته.



ملف الحصة المباشرة و المسجلة

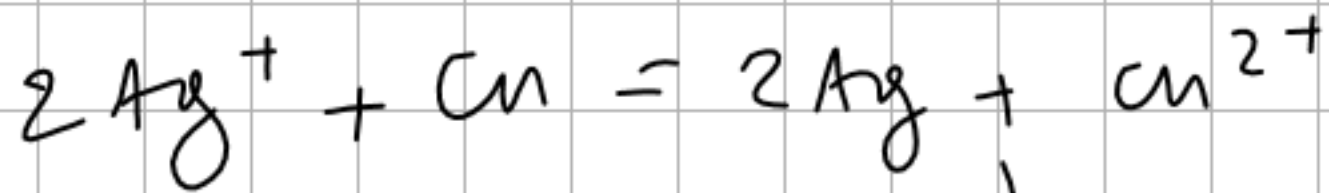
1 حصص مباشرة

2 حصص مسجلة

3 دورات مكثفة

أحصل على بطاقة الإشتراك





	v_2	$C_0 V_0$	$n_0 = \frac{m}{M}$	0	0
je	2	$C_0 V_0 - 2x_f$	$n_0 - x_f$	$2x_f$	x_f
xf	2	$C_0 V_0 - 2x_f$	$n_0 - x_f$	$2x_f$	x_f

$$x_{\text{je}} = x_{\text{xf}} = x_{\text{max}} = 0,025 \text{ mol}$$

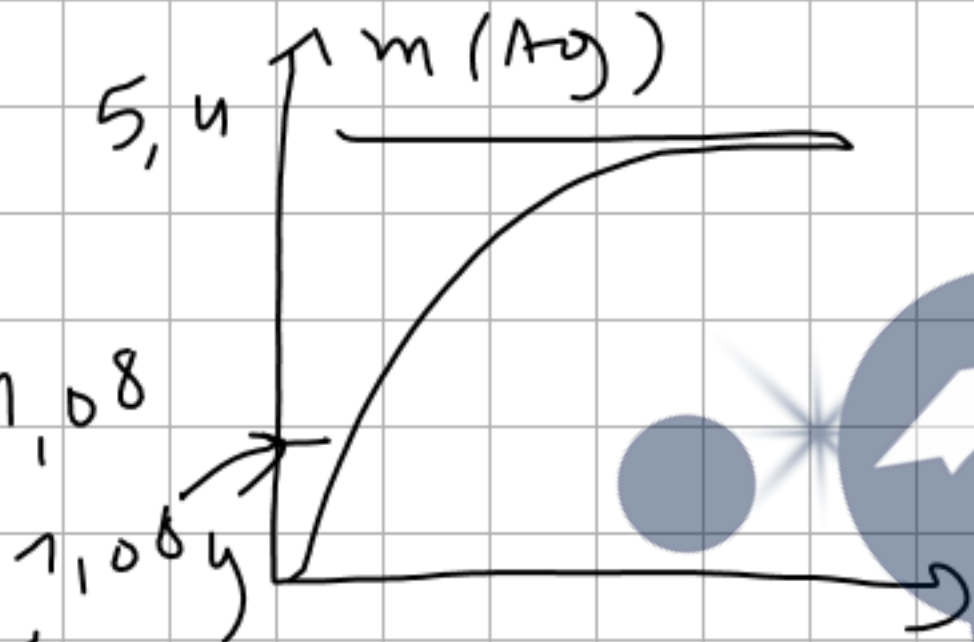
$$n(\text{Ag})_{\text{je}} = 2x_{\text{je}} = \frac{m(\text{Ag})_{\text{je}}}{M}$$

$$m(\text{Ag})_{\text{je}} = 2x_{\text{je}} M = 2(0,025)(108)$$

$$m(\text{Ag})_{\text{je}} = 5,4 \text{ g}$$

$5.4g \rightarrow 5m$
 $\quad \quad \rightarrow 1m$

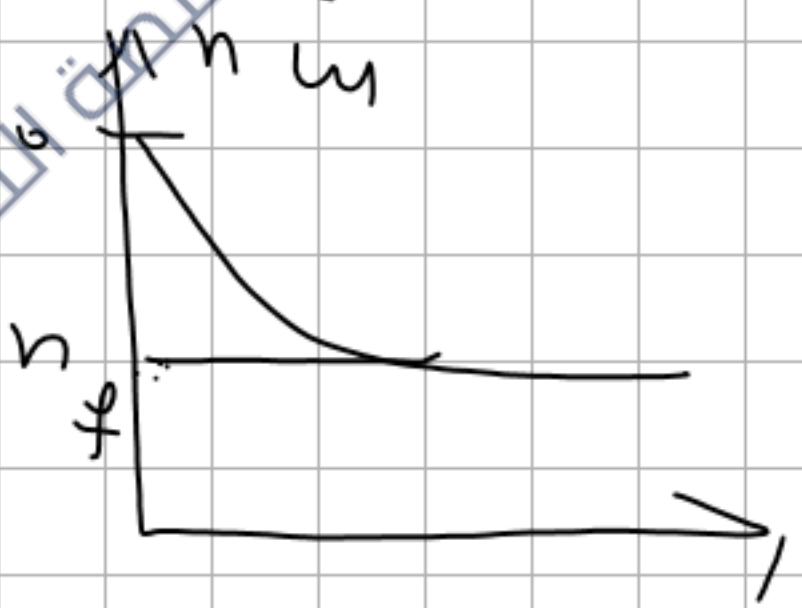
سطر الرقم = $\frac{5.4}{5} = 1.08$



معرفة $\downarrow 1, 2$ هو من بلوغ التفاعل نصف تفرده الثاني

$\left(\frac{2.4}{2}\right)$

$n(t) = n_0 + n_{\infty} - \frac{n_{\infty}}{2} e^{-kt}$



$n(t) = n_0 - X_t$

$n(t) = n_0 - X_{max} e^{-kt}$

$X_{max} = n_0 - n(t)_f$

$$\frac{u_{\max}}{2} = \left(\frac{n_0 - n(u) f}{2} \right)$$

$$n(u)_{t_{1/2}} = n_0 - \left(\frac{u_{\max}}{2} \right) f = n_0 - \left(\frac{n_0 - n(u) f}{2} \right) f$$

$$= \frac{2n_0 - n_0 + n(u) f}{2} = \frac{n_0 + n(u) f}{2}$$

$$t_{1/2} = 4,8 \text{ min}$$

و بعد از آن

$$v = \frac{dx}{dt}$$

$$n(\text{Ag}) = \frac{m(\text{Ag})}{M}$$

$$\frac{dx}{dt} = \frac{1}{M} \frac{dm}{dt}$$

$$v = \frac{1}{M} \frac{dm}{dt}$$

$$v_{\text{vel}} = -\frac{1}{2} \frac{d[\text{Ag}^+]}{dt} \quad \text{سرعان}$$

لدينا سرعة التفاعل

$$n(\text{Ag}^+)_t = C_0 V_0 - 2x_t$$

$$[\text{Ag}^+]_t V_0 = C_0 V_0 - 2x_t$$

$$2x_t = C_0 V_0 - [\text{Ag}^+]_t V_0$$

$$x_t = \left(\frac{C_0 V_0}{2} \right) - \frac{[\text{Ag}^+]_t V_0}{2}$$

$$\frac{dx_t}{dt} = 0 - \frac{V_0}{2} \frac{d[\text{Ag}^+]}{dt}$$

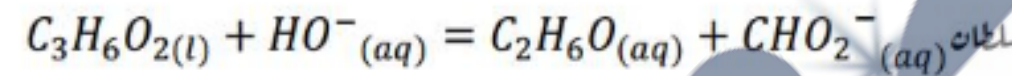
$$v_{\text{vel}} = \frac{1}{V_0} \frac{dx}{dt} = \frac{1}{V_0} \left(\frac{-V_0}{2} \right) \frac{d[\text{Ag}^+]}{dt}$$

$$v_{\text{vel}} = -\frac{1}{2} \frac{d[\text{Ag}^+]}{dt}$$

$$v_{\text{vel}} = -\frac{1}{2} \left(\frac{0.3, 5}{1, 6} \right)$$

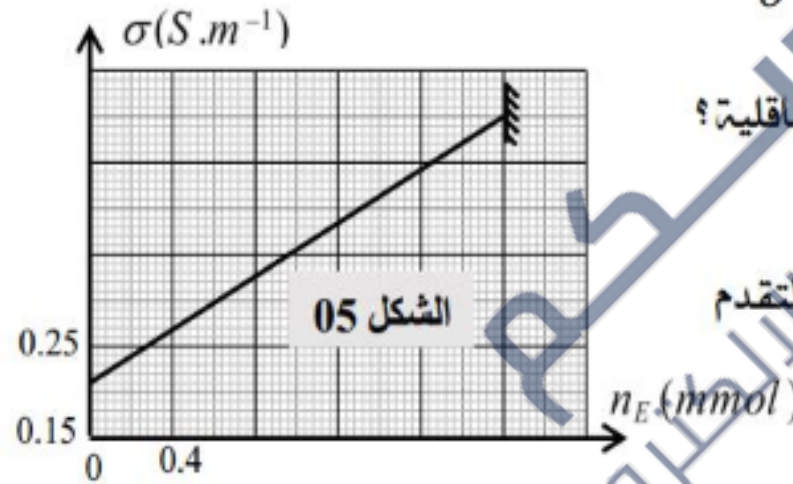
التمرين الرابع (المتابعة الزمنية عن طريق قياس الناقلية)

من أجل متابعة تطور التحول الكيميائي التام والبطيء بين المركب العضوي السائل $C_3H_6O_2$ (الذي نرمز له لاحقا بـ E) وهيدروكسيد الصوديوم $(Na^+ + HO^-)$ والذي نمذجه بالمعادلة التالية:



وضعنا في بيشر حجمًا $V_0 = 100mL$ من هيدروكسيد الصوديوم تركيزه المولي $C_0 = 2.10^{-2} mol / L$ وعند اللحظة $t=0$ ودرجة حرارة $25^\circ C$ أضفنا للبيشر بعض قطرات من المركب العضوي السابق والتي تكافئ كمية مادة n_{E_0} . قمنا بقياس الناقلية النوعية للمزيج المتفاعل من حين لآخر، وعند كل قياس استنتجنا كمية مادة

المركب E حيث $(V_T = V)$ مثلنا بيانياً $\sigma = f(n_E)$ و $\sigma = g(t)$



1- ما هو شرط متابعة تطور تفاعل كيميائي عن طريق قياس الناقلية؟
بماذا تتعلق الناقلية النوعية لمحلول مائي؟

2- أنشئ جدول التقدم للتفاعل وعين المتفاعل المحدد ثم استنتج التقدم الأعظمي x_{max} .

3- اعتماداً على جدول التقدم بين الناقلية في اللحظة تكتب:

$$\sigma = 145n_E + 0.21$$

4- أحسب قيمة الناقلية النوعية عند زمن نصف التفاعل $t_{1/2}$ ثم عينه بيانياً.

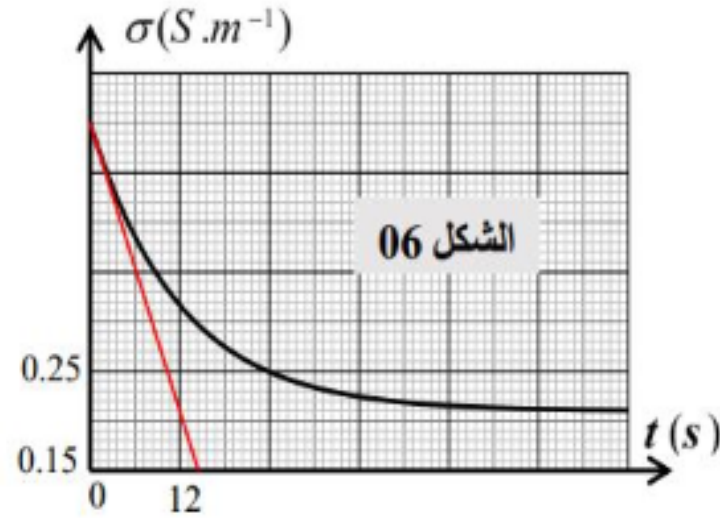
1 حصص مباشرة

2 حصص مسجلة

3 دورات مكثفة

أحصل على بطاقة الإشتراك





5. عرف السرعة الحجمية للتفاعل وأحسبها عند اللحظة $t=0$
6. نعيد التجربة عند درجة حرارته $35^{\circ}C$ ، أجب بصحيح أو خطأ على مايلي:

أ. تزداد قيمة زمن نصف التفاعل.
ب. تنعدم قيمة السرعة الحجمية للتفاعل في مدة أقل.
ج. قيمة الناقلية النوعية النهائية لا تتغير.

$$\lambda_{CHO_2^-} = 5,5 \text{ ms.m}^2.\text{mol}^{-1}, \lambda_{Na^+} = 5 \text{ ms.m}^2.\text{mol}^{-1}, \lambda_{HO^-} = 20 \text{ ms.m}^2.\text{mol}^{-1}$$

دروسكم
منصة التعليم الإلكتروني

دروسكم
منصة التعليم الإلكتروني

ملف الحصة المباشرة و المسجلة

1 حصص مباشرة

2 حصص مسجلة

3 دورات مكثفة

أحصل على بطاقة الإشتراك





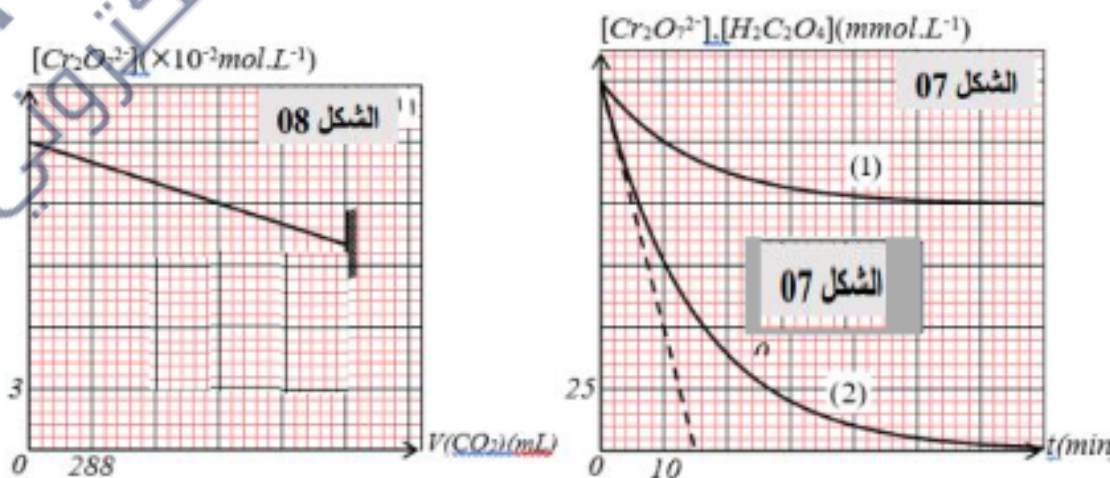
التمرين الخامس (المتابعة الزمنية عن طريق قياس الحجم)

لدراسة التحول الكيميائي بين شوارد البيكرومات $Cr_2O_7^{2-}$ (aq) وحمض الأكساليك $C_2H_2O_4$ (aq) عند درجة حرارة ثابتة $\theta = 25^\circ C$ ، نمزج في اللحظة $t=0$ حجما V_1 من محلول بيكرومات البوتاسيوم $(2K^+ + Cr_2O_7^{2-})$ (aq) تركيزه المولي $C_1 = 0,3 mol.L^{-1}$ مع حجم V_2 من حمض الأكساليك $C_2H_2O_4$ (aq) تركيزه المولي C_2 مع إضافة قطرات من حمض الكبريت المركز $(2H_3O^+ + SO_4^{2-})$ (aq).
الدراسة التجريبية مكنتنا من رسم المنحنيات البيانية التالية: $[Cr_2O_7^{2-}] = f(t)$ و $[C_2H_2O_4] = g(t)$ انظر الشكل 7- و $[Cr_2O_7^{2-}] = h(V_{CO_2})$ انظر الشكل 8.

1. بناء على المعادلتين النصفيتين للأكسدة والإرجاع، أكتب معادلة الأكسدة لإرجاع التحول الكيميائي الحادث
2. ما هو دور حمض الكبريت المركز.
3. أنشئ جدول تقدم التفاعل، ثم عين حجم غاز ثنائي أكسيد الكربون المنطلق عند نهاية التفاعل $V_f(CO_2)$.
4. أوجد العلاقة بين $n(CO_2)$ وتقدم التفاعل x ، ثم أوجد قيمة التقدم الأعظمي x_{max} ثم حدد المتفاعل المحد.
5. حدد المنحنى الموافق لكل من $[Cr_2O_7^{2-}] = f(t)$ و $[C_2H_2O_4] = g(t)$ في الشكل 7- مع التعليل.
6. أ- جد قيمة كل من V_1 و C_2 .
ب- إعتمادا على المنحنى البياني (01) جد قيمة زمن نصف التفاعل $t_{1/2}$.
7. أ- اشرح بين أن عبارة السرعة الحجمية للتفاعل تكتب بالشكل $v_{vol}(t) = -\frac{1}{3} \times \frac{d[H_2C_2O_4](t)}{dt}$ ثم أحسب قيمتها عند اللحظة $t=0$.
ب- استنتج السرعة الحجمية لتشكيل شوارد الكرومات Cr^{3+} (aq) عند نفس اللحظة.
8. جد كمية مادة الغاز المنطلق عند اللحظة $t=10min$ في شرطي التجزئة.

المعطيات:

- الثنائيتان الداخلتان في التفاعل: $(Cr_2O_7^{2-}/Cr^{3+})$ و $(CO_2/H_2C_2O_4)$. الحجم المولي للغازات: $V_M = 24L.mol^{-1}$.



1 حصص مباشرة

1

2 حصص مسجلة

2

3 دورات مكثفة

3

أحصل على بطاقة الإشتراك



دروسكم
منصة التعليم الإلكتروني

1 حصص مباشرة

2 حصص مسجلة

3 دورات مكثفة

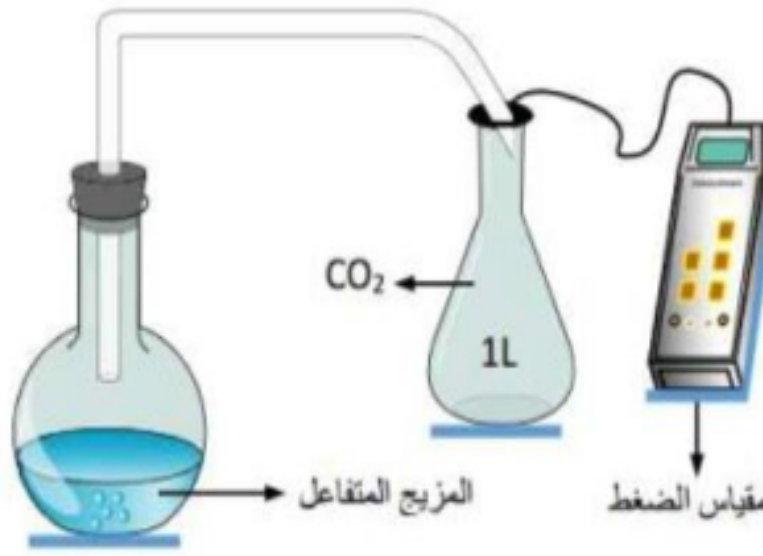
أحصل على بطاقة الإشتراك



دروسكم
منصة التعليم الإلكتروني

التمرين

المتابعة الزمنية عن طريق قياس الضغط



قام بفوج من التلاميذ بدراسة حركية التفاعل بين كربونات الكالسيوم $CaCO_3(s)$ ومحلل مائي (S_0) لحمض كلور الهيدروجين $(H_3O^+ + Cl^-)$ تركيزه المولي $C_0 = 0,4 mol / L$. يحتوي الطباشير على نسبة $P\%$ من كربونات الكالسيوم. وضعوا عند اللحظة $t = 0$ قطعة مسحوق من الطباشير $m = 3,5 g$ في حجم $V_a = 200 mL$ من المحلول (S_0) . التفاعل تام ومعادلته: $CaCO_3(s) + 2H_3O^+(aq) = CO_2(g) + Ca^{2+}(aq) + 3H_2O(l)$. تمت المتابعة الزمنية بقياس ضغط غاز ثاني أكسيد الكربون $CO_2(g)$ في اناء حجمه $V = 1 L$ ودرجة الحرارة فيه T . الدراسة التجريبية مكنتنا من رسم المنحنى البياني و $P_{CO_2} = f(t)$ و $P_{CO_2} = f(x)$ الموضحة في الشكل - 11 والشكل 12. يجري التفاعل في درجة حرارة ثابتة.

1- أ- أنجز جدولاً لتقدم التفاعل السابق.

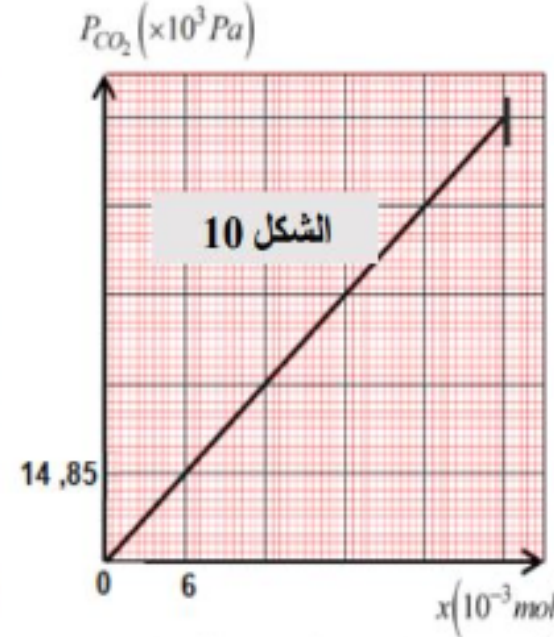
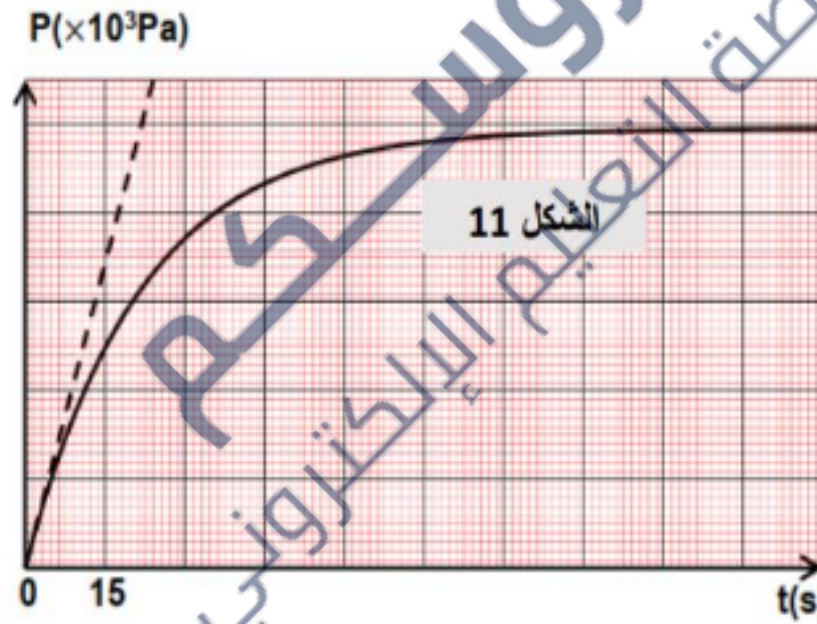
2- اعتماداً على جدول تقدم التفاعل والمنحنيات البيانية:

أجد قيمة التقدم الأعظمي x_{max} .

ب- جد الضغط النهائي $P(CO_2)_f$ داخل الحوجلة، جد درجة حرارة الغاز الموجود في الدورق T .

ج- حدد المتفاعل المحد مع التعليل، ثم احسب كتلة كربونات الكالسيوم في قطعة الطباشير m_0 .

3- احسب النسبة المئوية $(P\%)$ لكربونات الكالسيوم في قطعة الطباشير.



5- بين ان السرعة الحجمية للتفاعل تكتب بالشكل: $v_v(t) = \frac{V}{V_a RT} \times \frac{dP}{dt}$ ، ثم احسب قيمتها عند اللحظة $t = 0$.

بجد سلماً مناسباً لمحور الترتيب للمنحنى $P_{CO_2} = f(t)$.

4- بين انه لما $t = t_{1/2}$ يمكن كتابة العبارة التالية: $P(CO_2)_{t_{1/2}} = \frac{P(CO_2)_f}{2}$ ، ثم استنتج قيمة $t_{1/2}$.

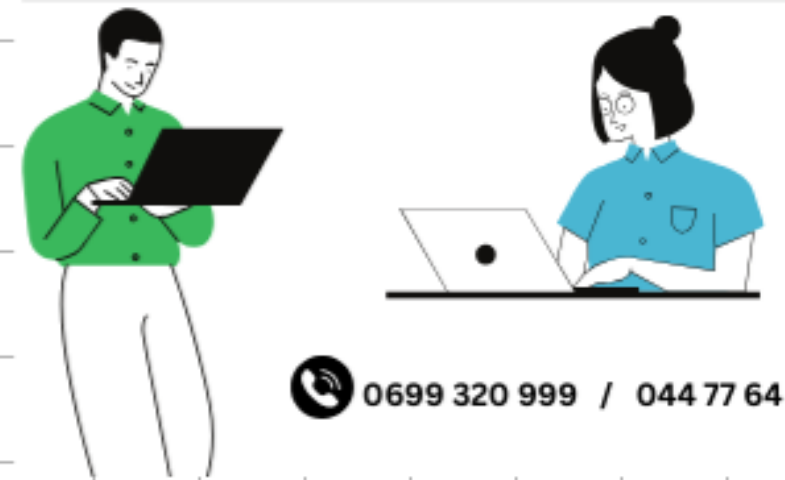
ملف الحصة المباشرة و المسجلة

1 حصص مباشرة

2 حصص مسجلة

3 دورات مكثفة

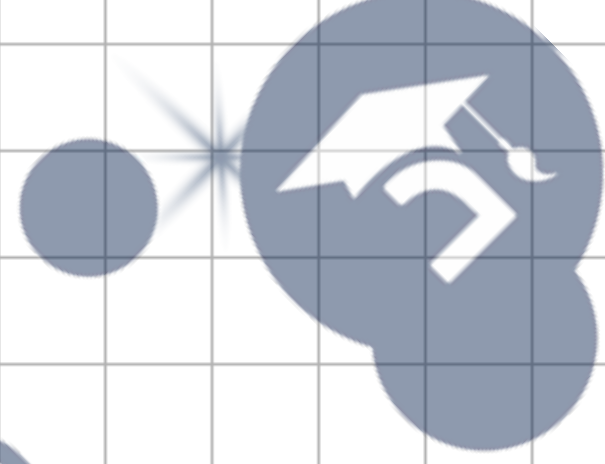
أحصل على بطاقة الإشتراك




جامعة
البحرين
منطقة التعليم الإلكتروني




جامعة
البحرين
منطقة التعليم الإلكتروني



جامعة
البحرين
منطقة التعليم الإلكتروني



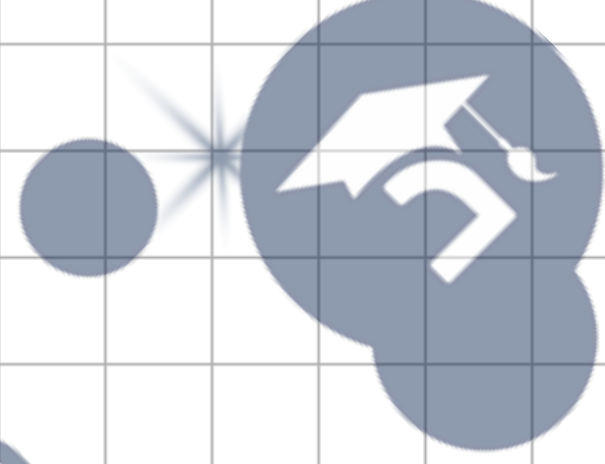
جامعة
البحرين
منطقة التعليم الإلكتروني



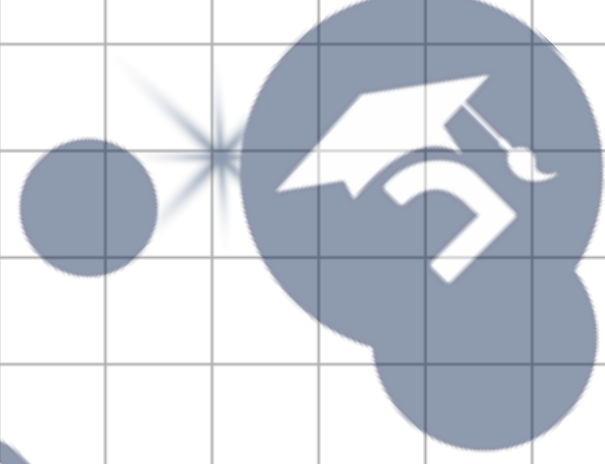
جامعة
البحرين
منطقة التعليم الإلكتروني



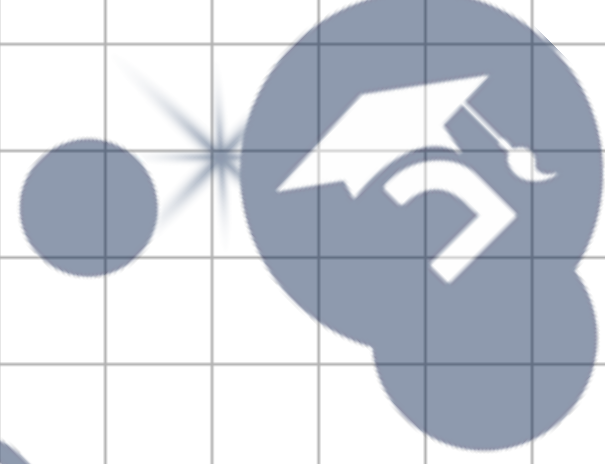
جامعة
البحرين
منطقة التعليم الإلكتروني



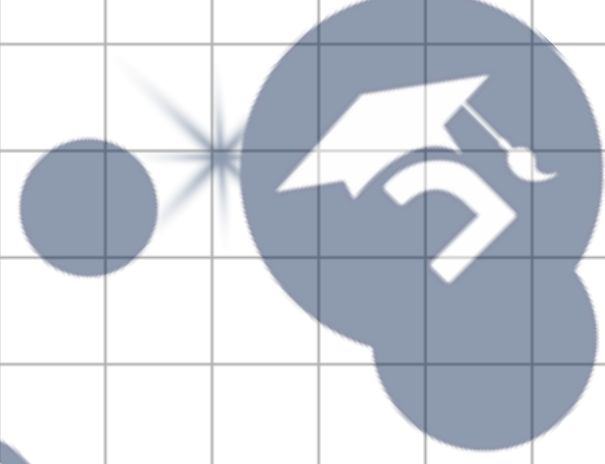
جامعة
البحرين
منطقة التعليم الإلكتروني



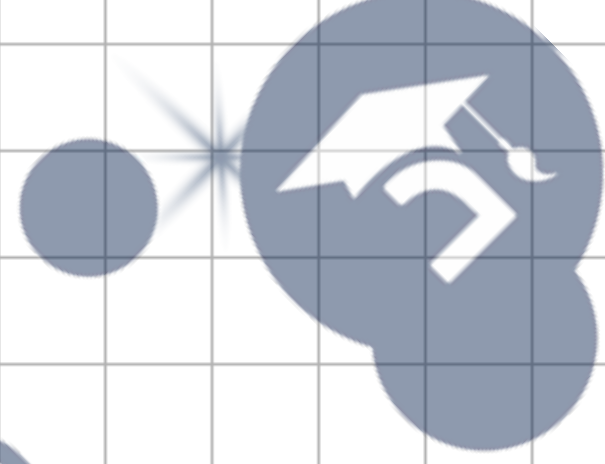
جامعة
البحرين
منطقة التعليم الإلكتروني



جامعة
البحرين
منطقة التعليم الإلكتروني



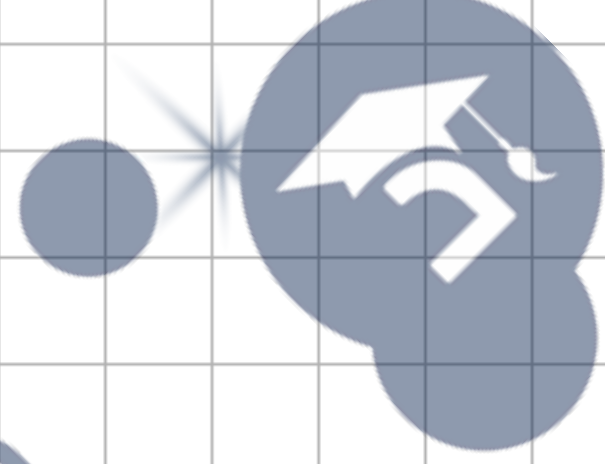
جامعة
البحرين
منطقة التعليم الإلكتروني



جامعة
البحرين
منطقة التعليم الإلكتروني




جامعة
البحرين
منطقة التعليم الإلكتروني



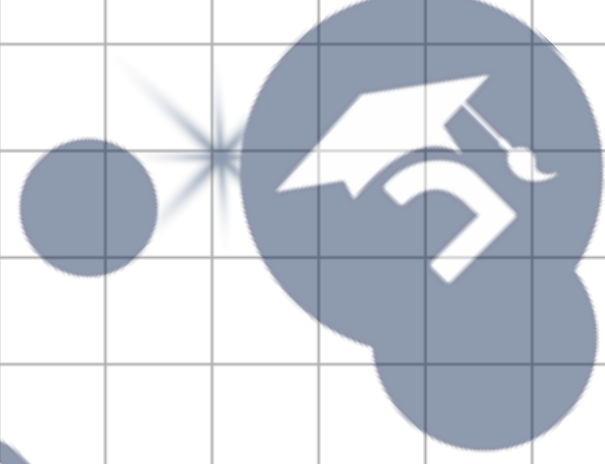
جامعة
البحرين
منطقة التعليم الإلكتروني



جامعة
البحرين
منطقة التعليم الإلكتروني



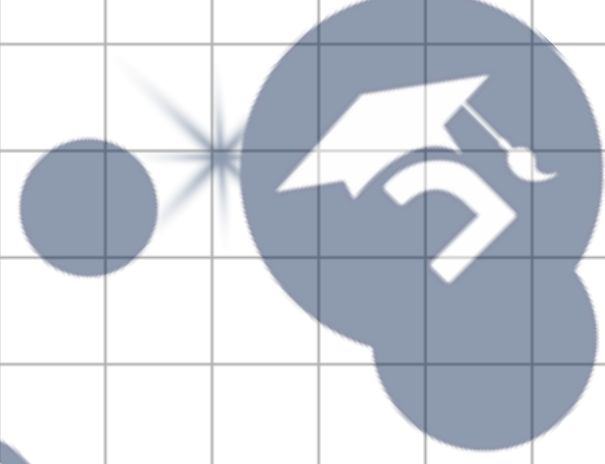
جامعة
البحرين
منطقة التعليم الإلكتروني




جامعة
البحرين
منطقة التعليم الإلكتروني



جامعة
البحرين
منطقة التعليم الإلكتروني



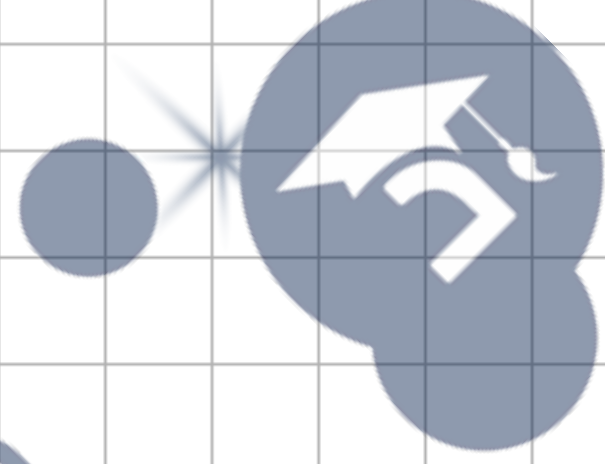
جامعة
البحرين
منطقة التعليم الإلكتروني



جامعة
البحرين
منطقة التعليم الإلكتروني



جامعة
البحرين
منطقة التعليم الإلكتروني



جامعة
البحرين
منطقة التعليم الإلكتروني

