

## المجال التعليمي 2: تحويل الطاقة على مستوى ما فوق البنية الخلوية. الوحدة التعليمية 1: آليات تحويل الطاقة الضوئية إلى طاقة كيميائية كامنة.

### الحصة التعليمية 1: ممر التركيب الضوئي ومراحله.

وضعية الإنطلاق: (التذكير بالمكتسبات)

تقوم النباتات الخضراء بتركيب المادة العضوية بظاهرة التركيب الضوئي، حيث تتم مجموع تفاعلاتها الكيميائية داخل الصانعة الخضراء وفق المعادلة الإجمالية التالية:



التعليمات:

1. حدّد شروط عملية التركيب الضوئي.
2. حدّد شكل الطاقة المحولة والنتيجة في عملية التركيب الضوئي.

الإجابة:

1. شروط عملية التركيب الضوئي هي: الضوء، اليخضور، غاز  $\text{CO}_2$  والماء ( $\text{H}_2\text{O}$ ).
2. شكل الطاقة المحولة هو طاقة ضوئية، وشكل الطاقة الناتجة هو طاقة كيميائية كامنة.

المشكلة: ما هي آليات تحويل الطاقة الضوئية إلى طاقة كيميائية كامنة؟

1 حصص مباشرة

2 حصص مسجلة

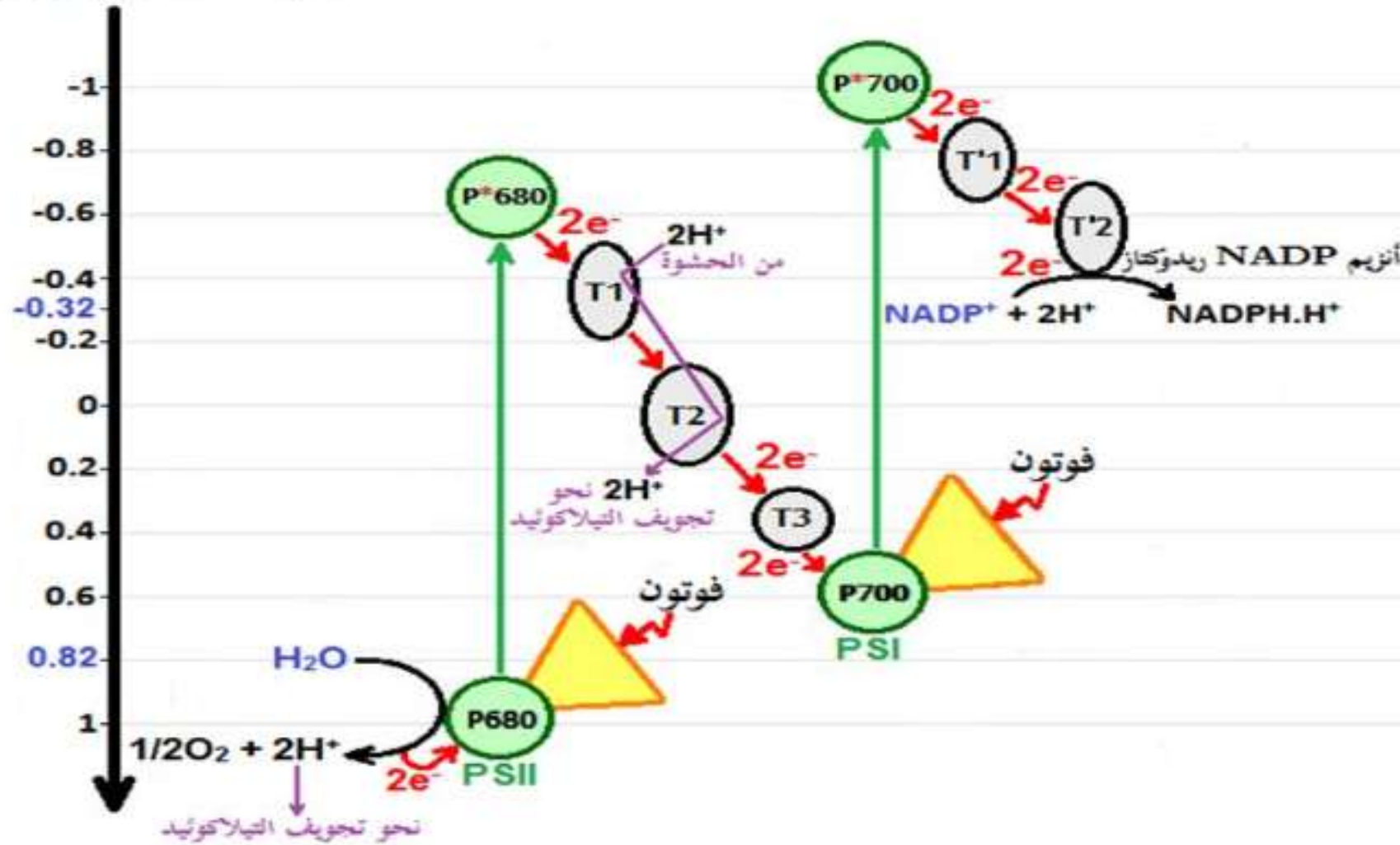
3 دورات مكثفة

أحصل على بطاقة الإشتراك



تمثل الوثيقة (9) مخطط إنتقال الإلكترونات عبر نواقل السلسلة التركيبية الضوئية وفق كمونات الأكسدة والإرجاع ودور اليخضور في ذلك.

كمون أكسدة وإرجاع (فولط)



الوثيقة (9)

التعليمات:

1. بيّن شروط عمل التيلاكوييد وذلك بإستغلالك للوثائق (5)، (6) و(7).
2. اشرح آلية المرحلة الكيموضوئية مُبرزاً التفاعلات المميزة لها ونواتجها وذلك بإستغلالك للوثقتين (8) و(10).

دروسكم  
منصة التعليم الإلكتروني

ملف الحصة المباشرة و المسجلة

حصص مباشرة

1

حصص مسجلة

2

دورات مكثفة

3

أحصل على بطاقة الإشتراك



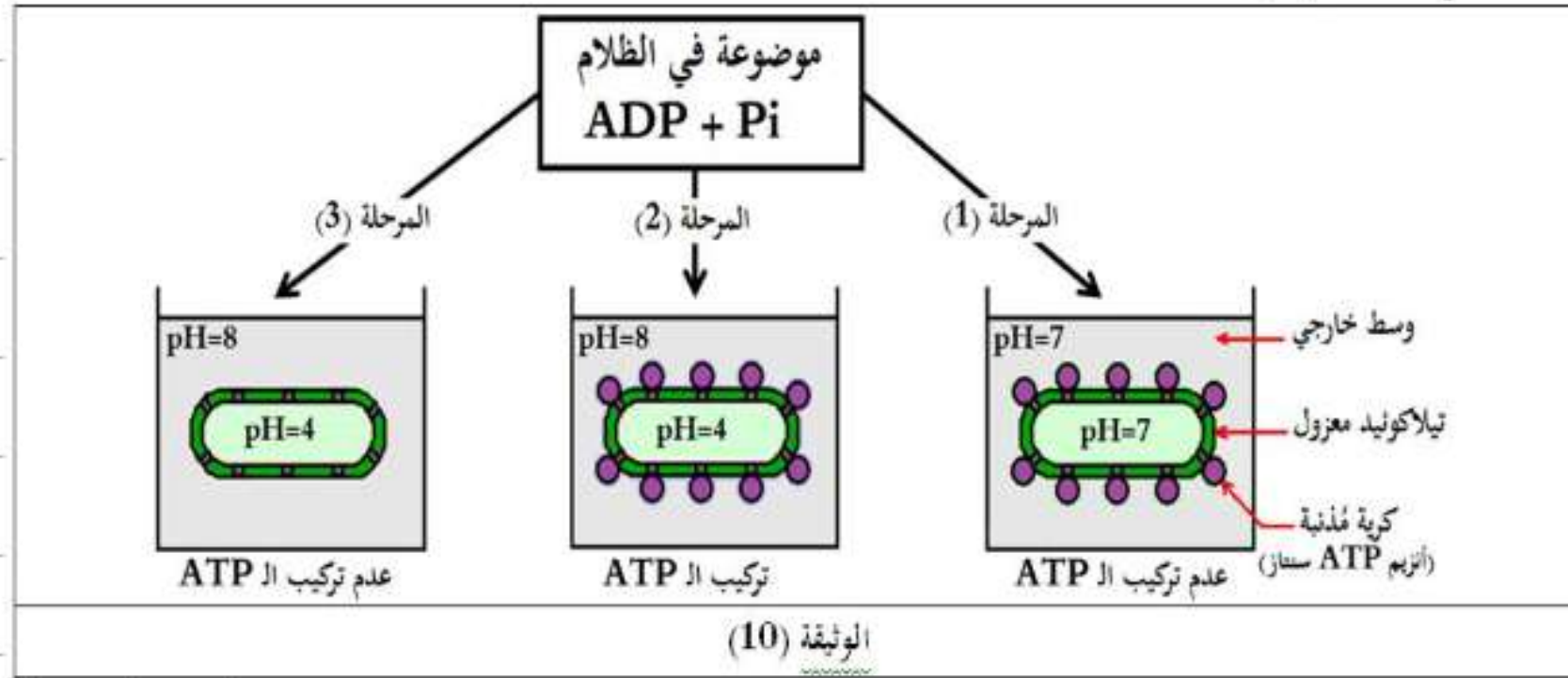
• ملاحظة: إن تركيز البروتونات ( $H^+$ ) يتناسب عكسًا مع الـ pH، حيث:

عندما يكون تركيز البروتونات ( $H^+$ ) في الوسط مرتفع يدل على أن الـ pH الوسط منخفض (وسط حامضي).

عندما يكون تركيز البروتونات ( $H^+$ ) في الوسط منخفض يدل على أن الـ pH الوسط مرتفع (وسط قاعدي).

لمعرفة مصير البروتونات ( $H^+$ ) الناتجة عن التحلل الضوئي للماء والتي تُنقل من الحشوة إلى تجويف التيلاكويد، تُقترح عليك الدراسة التالية:

عُزلت تيلاكويدات بتقنية الطرد المركزي بعد تجزئة الصانعة الخضراء بتعريضها لصدمة حلولية، مراحل التجربة ونتائجها موضحة في الوثيقة (10).



### التعليمات:

1. حدّد شروط وألية تركيب الـ ATP على مستوى التيلاكويد (الكبيس) وذلك باستغلالك للوثيقة (10).
2. اقترح نموذجًا تفسيريًا لألية المرحلة الكيموضوئية مُبينًا التفاعلات المميزة لها ونواتجها إنطلاقًا مما توصلت إليه من هذه الدراسات.

1 حصص مباشرة

2 حصص مسجلة

3 دورات مكثفة

أحصل على بطاقة الإشتراك



## 1. تحديد شروط وآلية تركيب الـ ATP على مستوى التيلاكويد (الكيس):


إستغلال الوثيقة (10): تمثل الوثيقة (10) جدول مراحل تجربة ونتائجها، حيث نلاحظ:

- في المرحلة 1: عند تساوي pH تجويف التيلاكويد و pH الوسط الخارجي لا يتم تركيب الـ ATP.
- في المرحلة 2: عندما يكون pH تجويف التيلاكويد حامضيًا و pH الوسط الخارجي قاعديًا يتم تركيب الـ ATP.
- في المرحلة 3: عندما يكون pH تجويف التيلاكويد حامضيًا و pH الوسط الخارجي قاعديًا مع تخريب الكريات المذبذبة لا يتم تركيب الـ ATP.

### الإستنتاج:

• يتطلب تركيب الـ ATP على مستوى التيلاكويد:

- وجود تدرج في تركيز البروتونات على جانبي غشاء التيلاكويد، حيث تجويف التيلاكويد حامضي (تركيز  $H^+$  مرتفع) وخارجه قاعدي (تركيز  $H^+$  منخفض).
- سلامة الكريات المذبذبة (أنزيم ATP سنتاز).
- آلية تركيب الـ ATP على مستوى التيلاكويد:
- يُصاحب نقل الإلكترونات على طول سلسلة الأكسدة الإرجاعية (السلسلة التركيبية الضوئية)، تراكم البروتونات الناتجة عن أكسدة الماء، وتلك المنقولة من الحشوة باتجاه تجويف التيلاكويد.
- إن تدرج تركيز البروتونات المتولد بين تجويف التيلاكويد وحشوة الصانعة الخضراء ينتشر على شكل سيل من البروتونات الخارجة عبر الـ ATP سنتاز.
- تسمح الطاقة المتحررة من سيل البروتونات الخارجة بفسفرة الـ ADP إلى ATP في وجود الفوسفات اللاعضوي  $P_i$ : إنها الفسفرة الضوئية.



- **ملاحظة:** الغرض من إجراء التجربة في الظلام هو: منع تأثير الضوء المسؤول طبيعيًا على أكسدة الماء لإنتاج البروتونات التي تعمل على تكوين فرق في التركيز، وإثبات أن تركيب الـ ATP من الـ ADP و  $P_i$  مرتبط بفرق تركيز  $H^+$  على جانبي غشاء التيلاكويد (الكيس).

1 حصص مباشرة

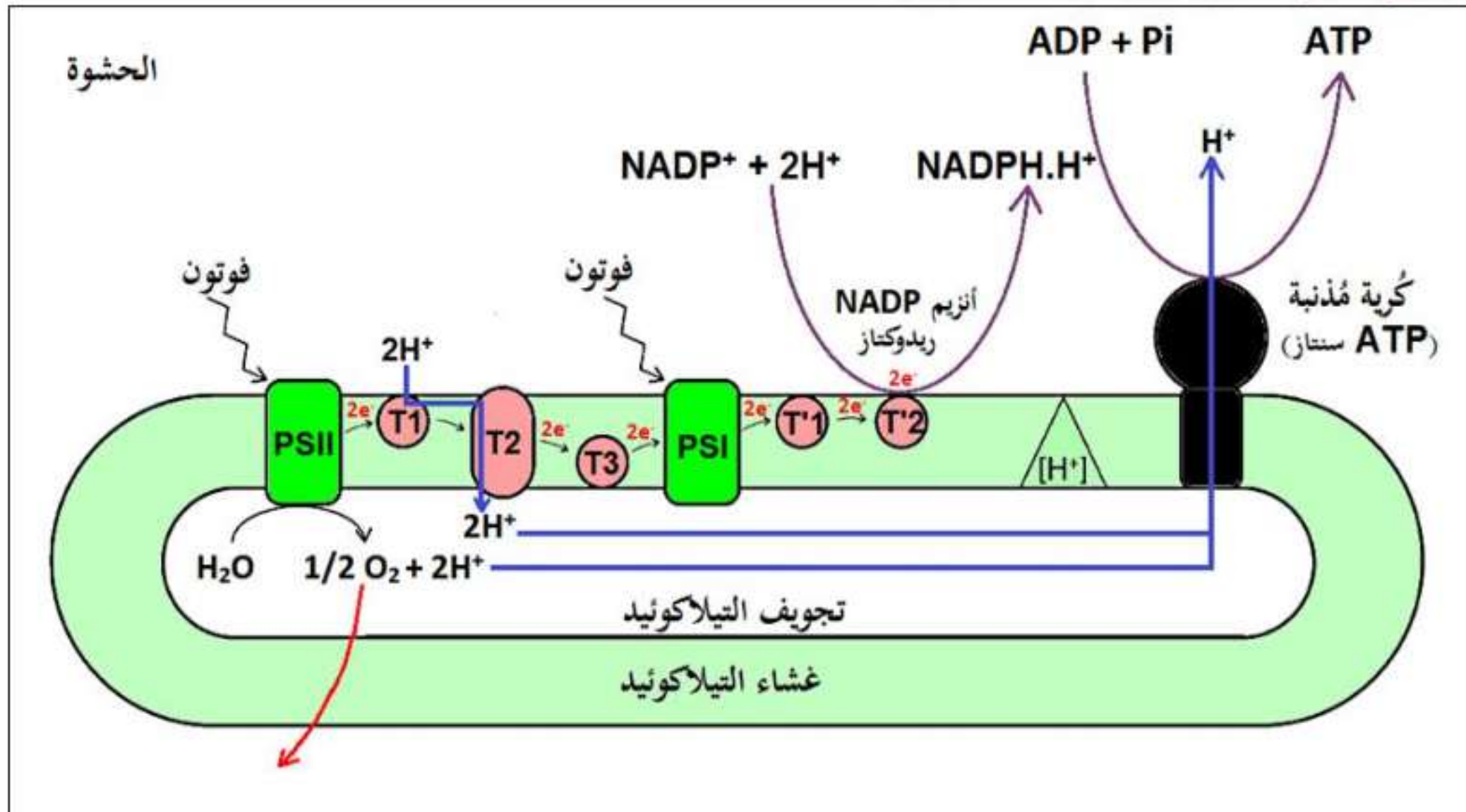
2 حصص مسجلة

3 دورات مكثفة

أحصل على بطاقة الإشتراك



## 2. إقترح نموذج تفسيري لآلية المرحلة الكيموضوئية:



نموذج تفسيري مقترح لآلية المرحلة الكيموضوئية

دروسكم  
منصة التعليم الإلكتروني

ملف الحصة المباشرة و المسجلة

حصص مباشرة

1

حصص مسجلة

2

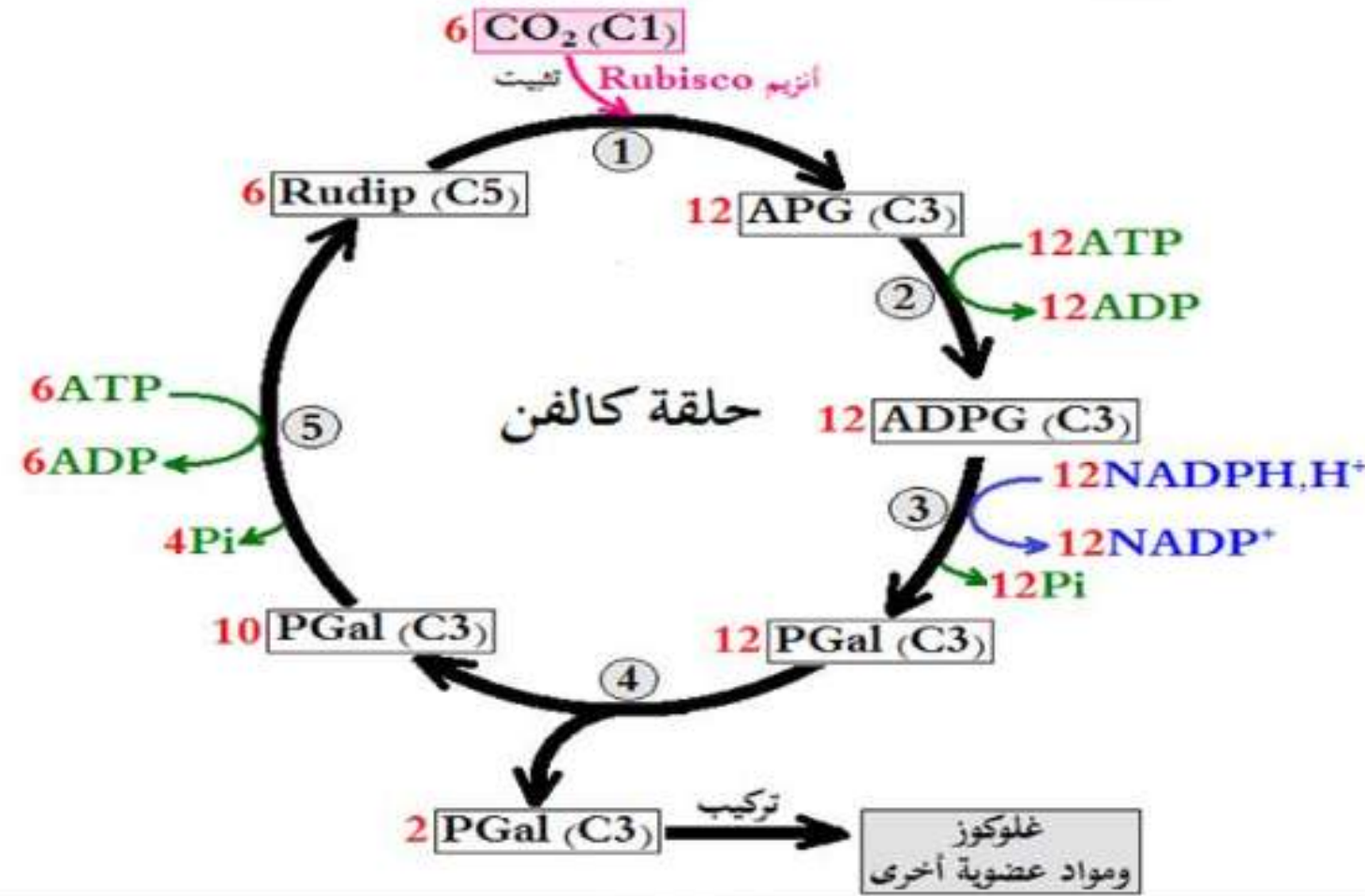
دورات مكثفة

3

أحصل على بطاقة الإشتراك



توصل كالفن ومساعدوه إلى تحديد تفاعلات تثبيت الـ  $CO_2$  والمركبات الوسيطة الناتجة في شكل حلقة تُعرف بحلقة كالفن، تمثل الوثيقة (13) مخطط حلقة كالفن.



الوثيقة (13)

### التعليمات:

1. وضح آلية إرجاع الـ  $CO_2$  وتركيب جزيئات عضوية على مستوى الحشوة وذلك بإستغلالك للشكل (ب) من الوثيقة (11) وشكلي الوثيقة (12).
2. اشرح تفاعلات المرحلة الكيموحيوية وذلك بإستغلالك للوثيقة (13).

دروسكم  
منصة التعليم الإلكتروني

ملف الحصة المباشرة و المسجلة

حصص مباشرة

1

حصص مسجلة

2

دورات مكثفة

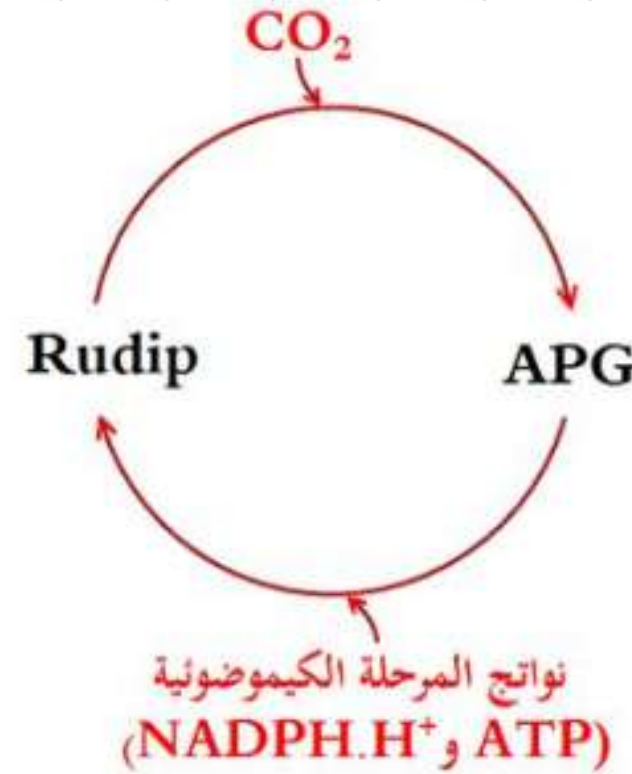
3

أحصل على بطاقة الإشتراك



ومنه:

إن المركبين APG و Rudip يتحولان إلى بعضهما ضمن حلقة يتطلب إستمرارها توفر الـ  $CO_2$  ونواتج المرحلة الكيموضونية، بحيث:  
الـ APG يتركب إنطلاقاً من تثبيت الـ  $CO_2$  على الـ Rudip، والـ Rudip يتركب إنطلاقاً من الـ APG بإستعمال نواتج المرحلة الكيموضونية (ATP و  $NADPH.H^+$ ).



ملف الحصة المباشرة و المسجلة

1 حصص مباشرة

1

2 حصص مسجلة

2

3 دورات مكثفة

3

أحصل على بطاقة الإشتراك





## 2. شرح تفاعلات المرحلة الكيموحيوية:

**إستغلال الوثيقة (13):** تمثل الوثيقة (12) مخطط حلقة كالفن، حيث نلاحظ:

- يُثَبَّت الـ  $CO_2$  على جزيئة خماسية الكربون: الريبولوز ثنائي الفوسفات (Rudip) مُشكلاً مُركب سداسي الكربون الذي ينشطر سريعاً إلى جزيئتين بثلاث ذرات كربون هو حمض الفوسفو غيليسريك (APG)، يُراقب دمج الـ  $CO_2$  بأنزيم الريبولوز ثنائي الفوسفات كربوكسيلاز (أنزيم Rubisco). (المرحلة 1)
- ينشط حمض الفوسفوغيليسريك المؤكسد ثم يُرجع بواسطة الـ ATP و  $NADPH, H^+$  الناتجين عن المرحلة الكيميوضوئية. (المرحلتين 2 و 3)
- يُستخدم جزء من السكريات الثلاثية المرجعة (TP = PGAL) في تجديد الـ Rudip أثناء تفاعلات حلقة كالفن وينسون. (المرحلة 5)
- يُستخدم الجزء الآخر من السكريات المرجعة (TP = PGAL) في تركيب السكريات سداسية الكربون (HP)، الأحماض الأمينية، والدهم. (المرحلة 4)

**الإستنتاج:** إن تفاعلات المرحلة الكيموحيوية تتم على مستوى حشوة الصانعة الخضراء في شكل حلقة تُعرف بحلقة كالفن، حيث يتم خلالها إرجاع

الـ  $CO_2$  بإستعمال نواتج المرحلة الكيميوضوئية (ATP و نواقل مرجعة  $NADPH, H^+$ ) وتركيب المواد العضوية (الغلوكوز (...).

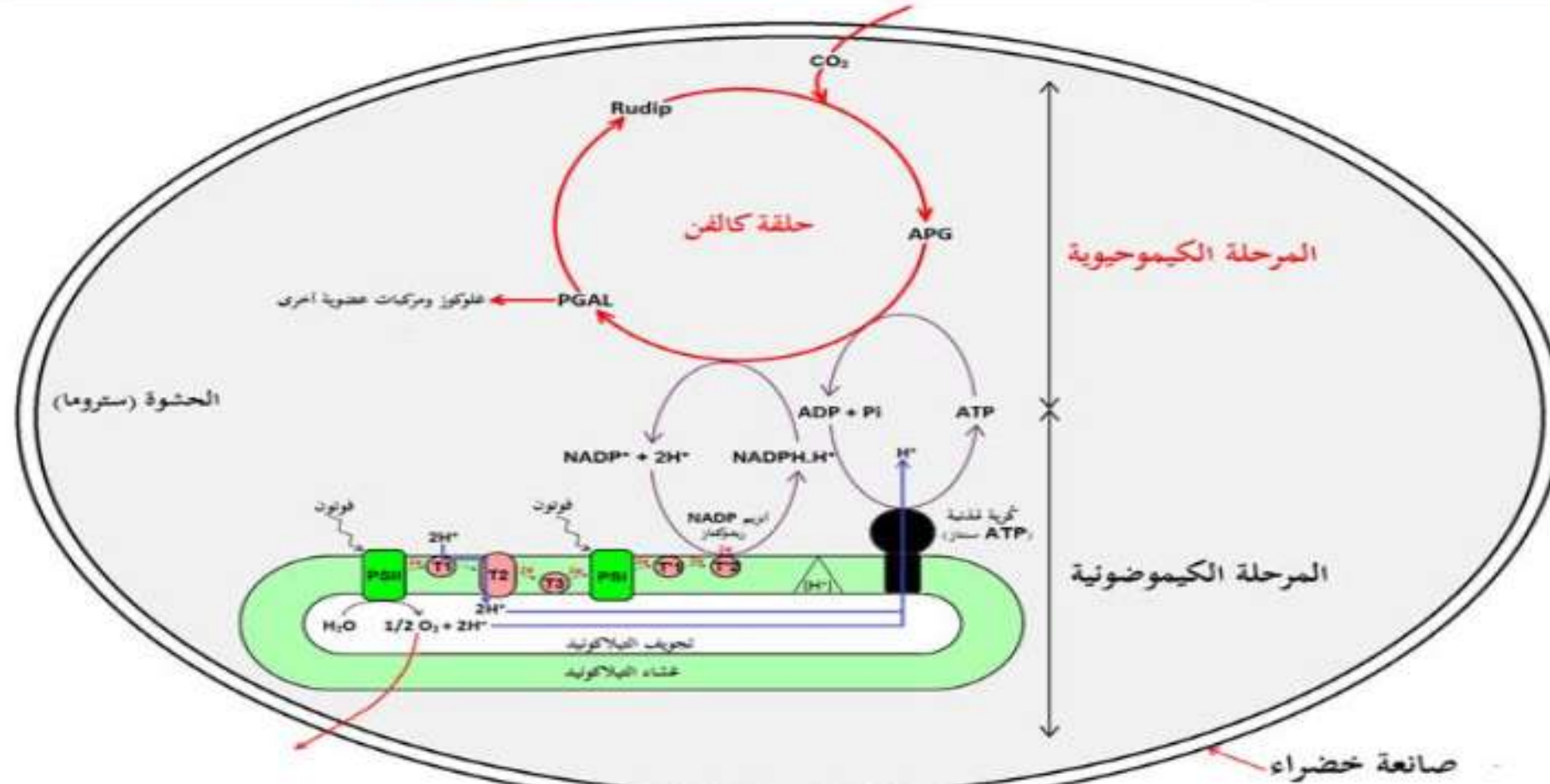
• **ملاحظة:** إن تركيب سكر سداسي واحد (جزيئة 1 من الغلوكوز) وتجديد 6 جزيئات من الـ Rudip يتطلب إستعمال:

18ATP و  $12NADPH, H^+$



### 3. العلاقة بين المرحلتين الكيموضوئية والكيموجيوية:

عند الخلايا النباتية الخضراء تعتبر الصانعة الخضراء ببنيتهما الحجرية المميزة مقر عملية التركيب الضوئي التي تضمن تحويل الطاقة الضوئية إلى طاقة كيميائية آامنة وفق مرحلتين، المرحلة الكيموضوئية التي تحتاج تفاعلاتها للضوء والمرحلة الكيموجيوية التي لا تحتاج تفاعلاتها للضوء، فما هي العلاقة بين المرحلتين الكيموضوئية والكيموجيوية؟  
تمثل الوثيقة (14) رسم تخطيطي يبين التكامل بين المرحلتين الكيموضوئية والكيموجيوية لعملية التركيب الضوئي.



الوثيقة (14)

1 حصص مباشرة

2 حصص مسجلة

3 دورات مكثفة

أحصل على بطاقة الإشتراك



التعليمية:

- أبرز العلاقة بين المرحلتين الكيموضوئية والكيموجيوية وذلك باستغلالك للوثيقة (14).



## إبراز العلاقة بين المرحلتين الكيموضوئية والكيموحيوية:

إستغلال الوثيقة (14): تمثل الوثيقة (14) رسم تخطيطي يُبين التكامل بين المرحلتين الكيموضوئية والكيموحيوية لعملية التركيب الضوئي، حيث نلاحظ:

• أثناء التركيب الضوئي يتم على مستوى الصانعات الخضراء الجمع بين:

- تفاعلات كيموضوئية يكون مقرها التيلاكويد أين يتم تحويل الطاقة الضوئية إلى طاقة كيميائية (ATP و  $NADPH, H^+$ ).

- تفاعلات كيموحيوية يكون مقرها الحشوة أين يتم إرجاع الـ  $CO_2$  إلى كربون عضوي (مواد عضوية) بإستعمال الطاقة الكيميائية (ATP و  $NADPH, H^+$ ) الناتجة من المرحلة الكيموضوئية.

**الإستنتاج:** المرحلتان الكيموضوئية والكيموحيوية تعملان بطريقة إزدواجية وتتكاملان بتجديد وإستعمال الـ ATP والنواقل المرجعة  $NADPH, H$ .

1 حصص مباشرة

2 حصص مسجلة

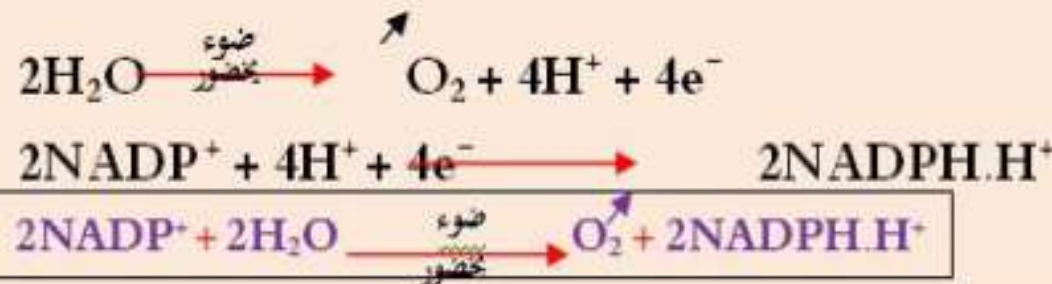
3 دورات مكثفة

أحصل على بطاقة الإشتراك



الخلاصة:

- للصانعة الخضراء بنية حجرية منظمة كالآتي:
- تراكيب غشائية داخلية تُشكل أكياس مُسطحة: الثيلاكويد.
- تجويف داخلي: الحشوة، مُحَددة بغشاء بلاستيدي داخلي، يُضاعف الغشاء البلاستيدي الداخلي بغشاء خارجي، يفصل الغشائين البلاستيدين فضوة بين الغشائين.
- تحوي الأغشية الثيلاكويدية أصبغة التركيب الضوئي (البيخضور، أصبغة أشباه الجزرين) وجهاز أنزيمي بما في ذلك الـ ATP سينتاز.
- تحوي الحشوة مواد أبيضية وسطحية لتركيب المواد العضوية.
- يتم التركيب الضوئي في مرحلتين:
- مرحلة كيموضوية تحتاج إلى ضوء، يتم خلالها طرح الـ  $O_2$ .
- مرحلة كيموحيوية لا تحتاج إلى ضوء، يتم خلالها إرجاع الـ  $CO_2$  وتركيب جزيئات عضوية.
- تشارك جزيئة البيخضور لمركز التفاعل تحت تأثير الفوتونات المقتنصة، مُتخلية عن إلكترون.
- تسترجع جزيئة البيخصور المؤكسدة حالتها المرجعة، وبالتالي قابلية التنبيه إنطلاقاً من الإلكترونات الناتجة عن أكسدة الماء.
- تنتقل الإلكترونات الناتجة عن مركز التفاعل في سلسلة من النواقل مُتزايدة كمون الأكسدة والإجاع.
- إن المستقبل الأخير للإلكترونات الناتجة يدعى النيكوتين أميد أدين ثنائي النيكليوتيد فوسفات  $NADP^+$  الذي يُرجع بواسطة أنزيم  $NADP$  ريدوكتاز حسب التفاعل العام:



1 حصص مباشرة

2 حصص مسجلة

3 دورات مكثفة

أحصل على بطاقة الإشتراك





يُصاحب نقل الإلكترونات على طول سلسلة الأكسدة الإرجاعية، تراكم البروتونات الناتجة عن أكسدة الماء، وتلك المنقولة من الحشوة باتجاه تجويف التيلاكويد.

إن تدرج تركيز البروتونات المتولد بين تجويف التيلاكويد وحشوة الصانعة الخضراء ينتشر على شكل سبيل من البروتونات الخارجة عبر الـ ATP سببًا.

تسمح الطاقة المتحررة من سبيل البروتونات الخارجة بفسفرة الـ ADP إلى ATP في وجود الفوسفات اللاعضوي (Pi): إنهما الفسفرة الضوئية.

يُثبت الـ CO<sub>2</sub> على جزيئة خماسية الكربون: الريبولوز ثنائي الفوسفات (Rudip) مُشكلاً مُركب سداسي الكربون الذي ينشط سريعاً إلى جزيئتين بثلاث ذرات كربون هو حمض الفوسفوغليسريك (APG)، يُراقب دمج الـ CO<sub>2</sub> بأنزيم الريبولوز ثنائي الفوسفات كربوكسيلاز.

ينشط حمض الفوسفوغليسريك المؤكسد ثم يُرجع بواسطة الـ ATP و NADPH.H<sup>+</sup> الناتجين عن المرحلة الكيميوضوئية.

يُستخدم جزء من السكريات الثلاثية المرجعة في تجديد الـ Rudip أثناء تفاعلات حلقة كالفن وينسون.

يُستخدم الجزء الآخر من السكريات المرجعة في تركيب السكريات سداسية الكربون، الأحماض الأمينية، والدهن.

أثناء التركيب الضوئي يتم على مستوى الصانعات الخضراء الجمع بين:

- تفاعلات كيميوضوئية يكون مقرها التيلاكويد أين يتم تحويل الطاقة الضوئية إلى طاقة كيميائية.

- تفاعلات كيميوحيوية يكون مقرها الحشوة أين يتم إرجاع الـ CO<sub>2</sub> إلى كربون عضوي بإستعمال الطاقة الكيميائية (ATP)

و NADPH.H<sup>+</sup> الناتجة من المرحلة الكيميوضوئية.

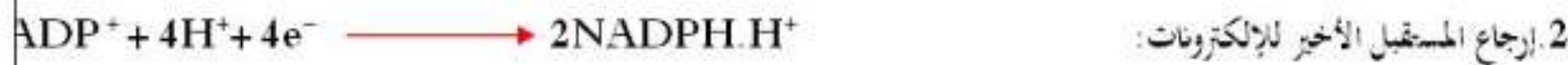
- وضح في نص علمي آلية تحويل الطاقة على مستوى الصناعة الخضراء مُدعمًا إجابتك بمعادلات كيميائية.

النص العلمي:

تم مجموع التفاعلات الكيميائية للتركيب الضوئي داخل الصناعة الخضراء في مرحلتين هما المرحلة الكيميائية والكيموحيوية، فكيف تحدث كل منهما؟

1. المرحلة الكيميائية:

- تتأكسد جزيئة اليخضور لمركز التفاعل تحت تأثير الفوتونات المقننصة، مُتخلية عن إلكترون.
- تسترجع جزيئة اليخضور المؤكسدة حالتها المرجعة، وبالتالي قابلة للتبني إنطلاقًا من الإلكترونات الناتجة عن أكسدة الماء.
- تنتقل الإلكترونات الناتجة عن مركز التفاعل عبر سلسلة من النواقل مُتزايدة كمون الأكسدة والإرجاع.
- إن المستقبل الأخير للإلكترونات الناتجة يدعى  $NADP^+$  الذي يُرجع بواسطة أنزيم  $NADP$  ريدوكتاز.
- يُصاحب نقل الإلكترونات على طول سلسلة الأكسدة الإرجاعية (السلسلة التركيبية الضوئية)، تراكم البروتونات الناتجة عن أكسدة الماء، وتلك المنقولة من الحشوة بإتجاه تجويف الثيلاكويد.
- إن تدرج تركيز البروتونات المتولد بين تجويف الثيلاكويد وحشوة الصناعة الخضراء ينتشر على شكل سيل من البروتونات الخارجة عبر الـ  $ATP$  ستاز.
- تسمح الطاقة المتحررة من سيل البروتونات الخارجة بفسفرة الـ  $ADP$  إلى  $ATP$  في وجود الفوسفات اللاعضوي ( $P_i$ ): إنفا الفسفرة الضوئية.
- المعادلات الكيميائية لمختلف تفاعلات المرحلة الكيميائية:



ملف الحصة المباشرة و المسجلة

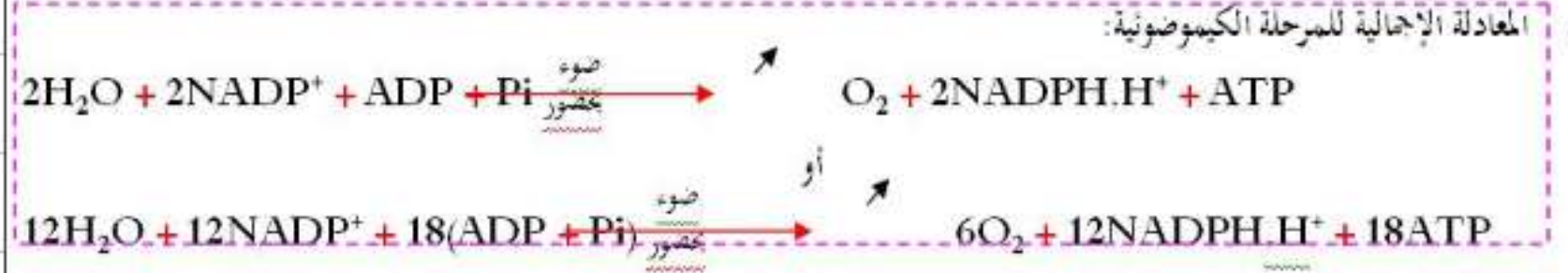
1 حصص مباشرة

2 حصص مسجلة

3 دورات مكثفة


أحصل على بطاقة الإشتراك





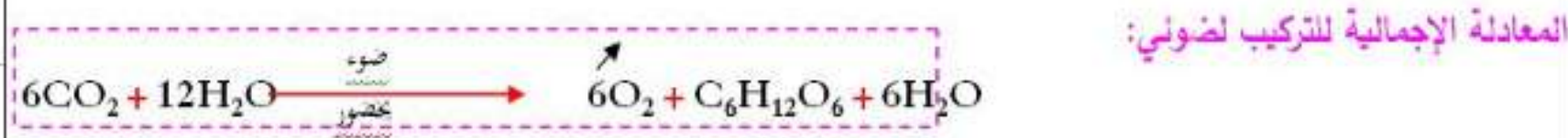
## 2. المرحلة الكيموحيوية:

- يُنْتَبِث الـ  $\text{CO}_2$  على جزيئة خماسية الكربون: الريبولوز ثنائي الفوسفات (Rudip) مُشكلاً مُركب سداسي الكربون الذي ينشط سريعاً إلى جزيئتين بثلاث ذرات كربون هو حمض الفوسفو غيليسريك (APG)، يُراقب دمج الـ  $\text{CO}_2$  بأنزيم الريبولوز ثنائي الفوسفات كربوكسيلاز.
- ينشط حمض الفوسفوغيليسريك المؤكسد ثم يُرجع بواسطة الـ ATP و  $\text{NADPH}\cdot\text{H}^+$  الناتجين عن المرحلة الكيمووضوئية.
- يُستخدم جزء من السكريات الثلاثية المرجعة في تجديد الـ Rudip أثناء تفاعلات حلقة كالفن وبنسون.
- يُستخدم الجزء الآخر من السكريات المرجعة في تركيب السكريات سداسية الكربون، الأحماض الأمينية، والدهن.



أثناء التركيب الضوئي يتم على مستوى الصانعات الخضراء الجمع بين:

- تفاعلات كيمووضوئية يكون مقرها التيلاكويد أين يتم تحويل الطاقة الضوئية إلى طاقة كيميائية.
- تفاعلات كيموحيوية يكون مقرها الحشوة أين يتم إرجاع الـ  $\text{CO}_2$  إلى كربون عضوي بإستعمال الطاقة الكيميائية (ATP و  $\text{NADPH}\cdot\text{H}^+$ ) الناتجة من المرحلة الكيمووضوئية.



1 حصص مباشرة

2 حصص مسجلة

3 دورات مكثفة

أحصل على بطاقة الإشتراك



لنباتات الخضراء القدرة على تركيب المادة العضوية انطلاقاً من المادة المعدنية في وجود الطاقة الضوئية عن طريق عملية التركيب الضوئي حيث يوجد نوعان من النباتات :

النوع الاول يقوم بعملية التركيب الضوئي التقليدي ب C3 (نباتات ثلاثية الكربون)

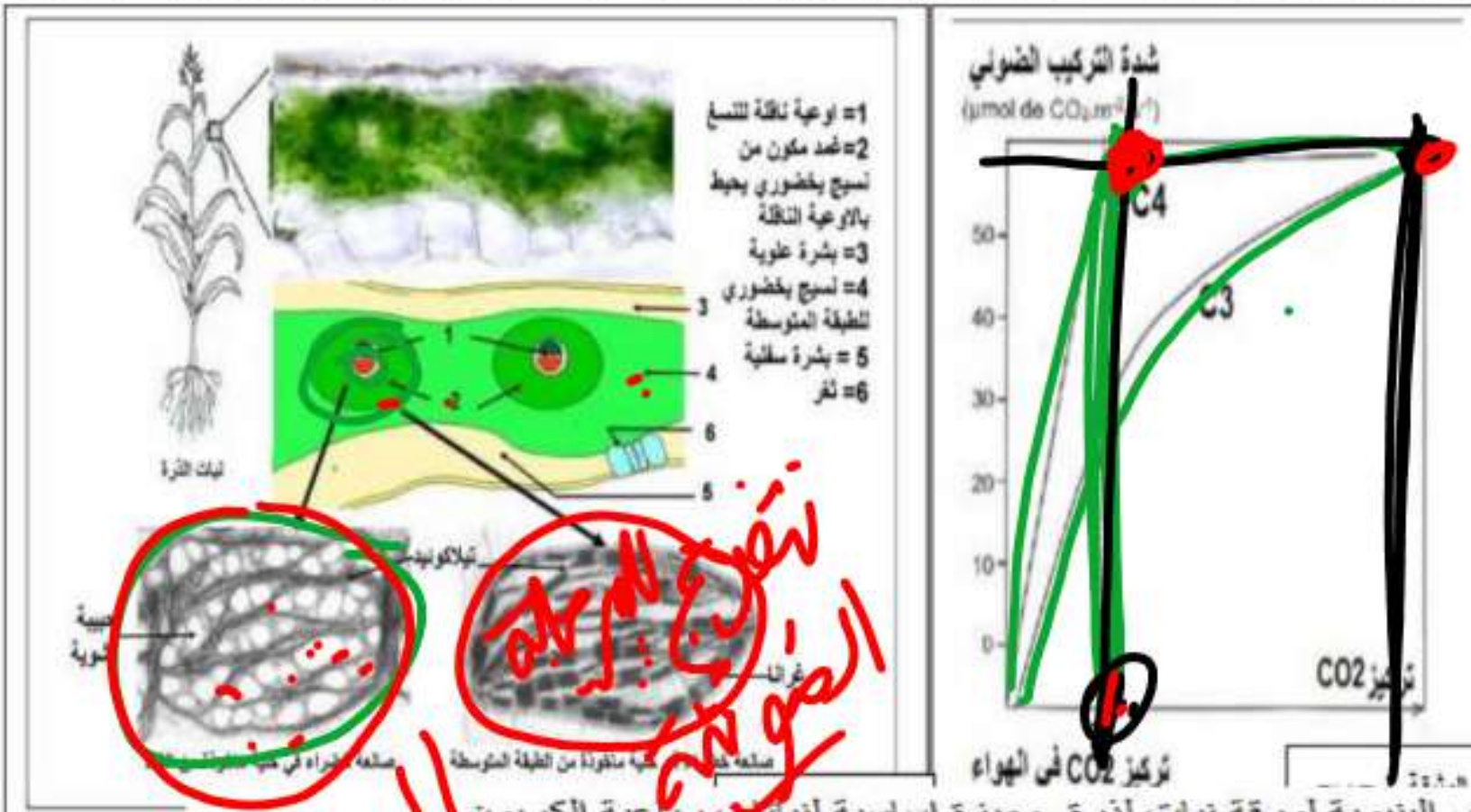
النوع الثاني يقوم بعملية التركيب الضوئي ب C4 :نباتات رباعية الكربون مثل نبات الذرة و التي يكون عندها التركيب الضوئي اكثر فعالية بفضل مجموعة من الخصائص البنوية و الوظيفية .

الجزء الاول:

تمثل ( الوثيقة 1 - ) شدة التركيب الضوئي - رسماً تفسيريًا له .

اما ( الوثيقة 1 - ب ) الكربون و رباعية الك

وثني و ثلاثية



**تفسير الاختلاف**  
**بين النباتات ثلاثية الكربون و رباعية الكربون**  
تحديث في موقعين مختلفين من الورقة .

1/ استخراج من ( للوثيقة 1 ) الخصائص البنوية لورقة نبات ذرة . وميزة اساسية لنباتات رباعية الكربون .  
يفسر العلماء الاختلاف بين النباتات ثلاثية الكربون و رباعية الكربون الى ان مراحل التركيب الضوئي عند هذه النباتات تحدث في موقعين مختلفين من الورقة .  
2/ باستغلالك ( للوثيقة 1 ) و من معلوماتك قدم استدلالاً علمياً لهذا التفسير .



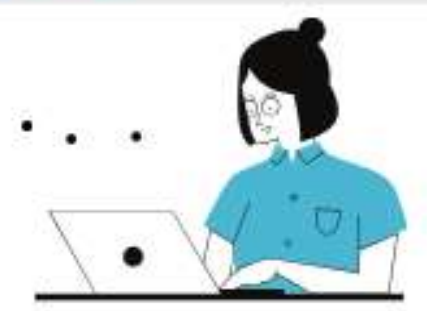
ملف الحصة المباشرة و المسجلة

1 حصص مباشرة

2 حصص مسجلة

3 دورات مكثفة

أحصل على بطاقة الإشتراك



1/ استخرج من (الوثيقة 1) ~~النسب~~ البنيوية لورقة نبات لذرة . وميزة اساسية لنباتات رباعية الكربون .

يفسر العلماء الاختلاف بين النباتات ثلاثية الكربون و رباعية الكربون الى ان مراحل التركيب الضوئي عند هذه الاخيرة تحدث في موقعين مختلفين من الورقة .

2/ بلستغللك (للوثيقة 1) و من معلوماتك قدم استدلالا علميا لهذا التفسير .

الجزء الثاني : من اجل تحديد الخصائص الوظيفية لنباتات رباعية الكربون و الذي يميزها عن النباتات الاخرى تجري الدراسة التالية:

بينت نتائج البحث عن الانزيمات النباتية على مستوى الخلايا اليخضورية وجود نوعين من الانزيمات RUBISCO و PEPc (phosphoenolpyruvate carboxylase) حيث مكنت تقنية التصوير الاشعاعي الذاتي من تحديد موقع هذا الاخير في ورقة نبات رباعي الكربون كما هو موضح في الوثيقة (2-1) اما الوثيقة (2-ب) فتمثل جدولاً يلخص الفرق بين الانزيمين

RUBISCO	PEPc	الانزيمات النباتية
النباتات ثلاثية الكربون و رباعية الكربون	النباتات رباعية الكربون	وجودها في النباتات الخضراء
مركب ثلاثي الكربون	مركب رباعي الكربون	الركيزة الناتج
450	70	ثابت Mikaelis Menten (مول/ل)
علاقة Mikaelis Menten تترجم الالفة بين الانزيم و الركيزة ، حيث كلما زادت قيمة الثابت قلت فاعلية الانزيم في تحفيز التفاعل		

الوثيقة 2-ب

الوثيقة 2-أ

خلية القصد  
نوعية ناقة  
خلية الطبقة المتوسطة  
النقاط السوداء تمثل تركز الاشعاع

PEPc

مميز كبير

1 حصص مباشرة

2 حصص مسجلة

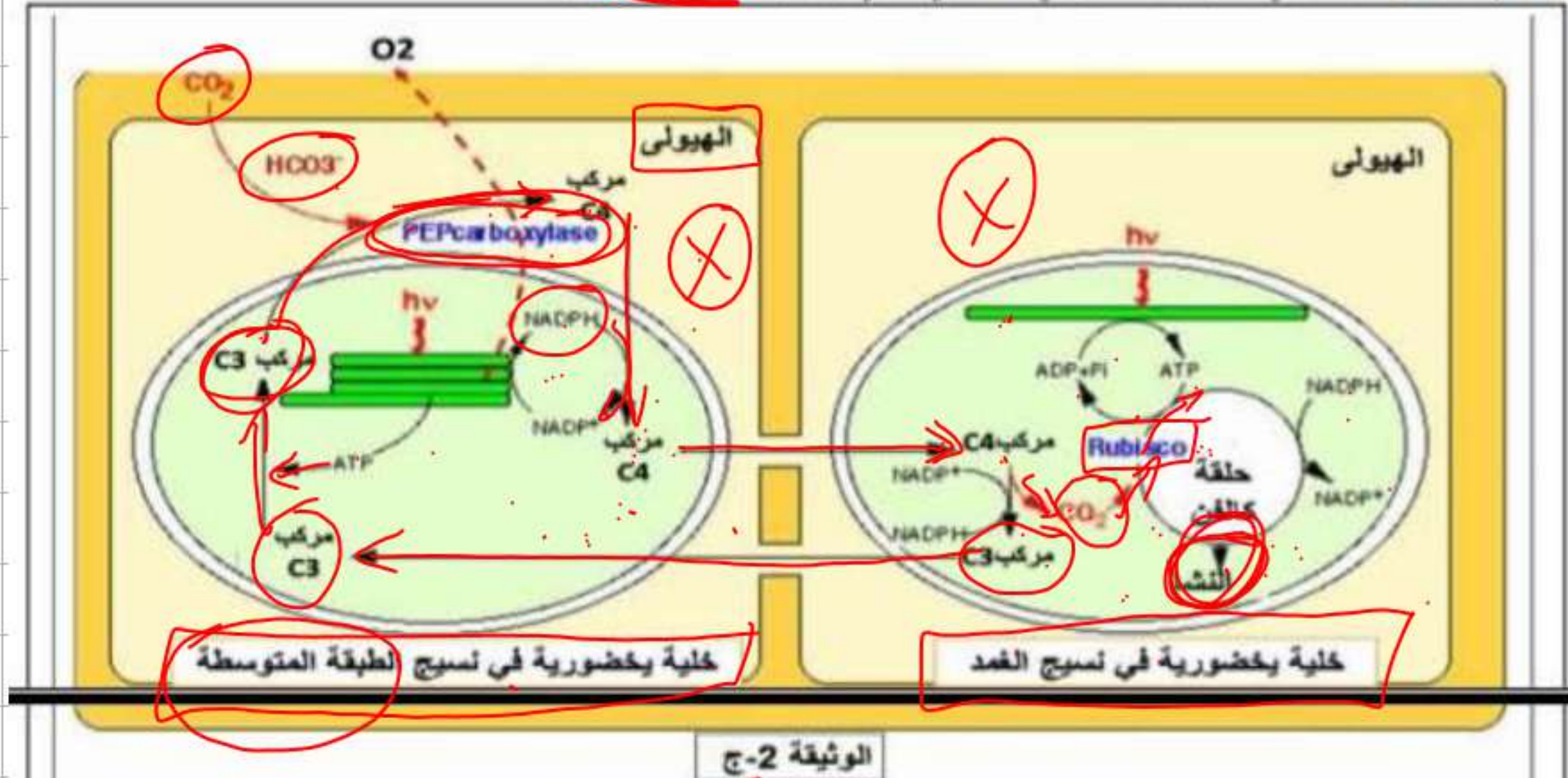
3 دورات مكثفة

أحصل على بطاقة الإشتراك





أظهر Hatch و Slack في عام 1970 أنه في بعض النباتات كان المركب العضوي الأول المتكون من ثاني أكسيد الكربون عبارة عن جزيئ C4 (مالات) (اسبرتات) كما هو موضح في الوثيقة (2ج) و ليس حمض الفوسفوغليسريك (PGA) كما هو الحال في التركيب الضوئي التقليدي الذي أظهره كالفن و بنسون



- باستغلالك المعطيات المقدمة في اشكال الوثيقة (2) اشرح سبب تميز نباتات رباعية الكربون بالكفاءة العالية في عملية التركيب الضوئي مقارنة بالنباتات ثلاثية الكربون.

1 حصص مباشرة

2 حصص مسجلة

3 دورات مكثفة

أحصل على بطاقة الإشتراك





1/ استخراج من (للوثيقة 1 ) الخصائص البنيوية لورقة نبات لذرة . وميزة اساسية لنباتات رباعية الكربون

### الوثيقة (1 ا)

تتكون الورقة الخضراء لنبات الذرة من طبقتي بشرة علوية و بشرة سفلية بها ثغور بينهما طبقة متوسطة من خلايا اليخضورية تتوسطها خلايا يخورية تشكل غمد يحيط بالاوعية الناقلة لنسغ .

\_ تتميز الخلايا اليخضورية للطبقة المتوسطة بصانعات خضراء غنية جيدا بالغرانا و هي كيمسات مكدسة تصطف بين الصفائح الحشوية و غياب الحبيبات النشوية ، اما الخلايا اليخضورية للغمد فتتميز بوجود صانعات خضراء لا تضم غرانا بل صفائح حشوية و غنية جدا بالحبيبات النشوية .

### الوثيقة (1 ب):

كلما زاد تركيز ال CO2 ، تتزايد شدة التركيب الضوئي عند كل من النوعين للنباتات ثلاثية الكربون و رباعية الكربون ، الا ان هذه الاخيرة تتزايد عندها الشدة بوتيرة اسرع حيث تصل عند تركيز ال CO2 الطبيعي في الهواء الى قيمة عالية جدا ( اكثر من 60 مك مول من CO2/م2/ثا) مقارنة بالنباتات ثلاثية الكربون التي لا تتجاوز نصف القيمة السابقة.

الاستنتاج: النباتات رباعية الكربون لها كيزة اساسية انها ذات كفاءة عالية في تثبيت ال CO2 حتى في حالة التركيز الضعيف منه .

### 2- تقديم الاستدلال العلمي للتفسير

الخلايا اليخضورية في الطبقة المتوسطة تقوم بتفاعل كيموضوئي بشدة كبيرة و الدليل على ذلك انها غنية بالغرانا اي تراكيب غشائية تيلاكويدية كثيرة ، و لكنها لا تقوم بالتفاعل الكيموحيوي و الدليل على ذلك غياب الحبيبات النشوية .

الخلايا اليخضورية في الغمد : تقوم بالتفاعل الكيموحيوي بشدة كبيرة و الدليل ذلك غناها بلاحبيبات النشوية . اما التفاعل الكيموضوئي فضعيف جيدا لغياب الغرانا ووجود الصفائح الحشوية فقط.



**استغلال الوثيقة 2:** ابراز الخصائص الوظيفية للنباتات رباعية الكربون مما يسمح بتفسير الكفاءة العالية في عملية التركيب الضوئي .

**الوثيقة 2 - أ :** نتائج متابعة الإشعاع في الانزيم ال PEPc في الخلايا اليخضورية لورقة نبات الذرة:  
- نلاحظ ظهور و تركز الإشعاع على مستوى الخلايا اليخضورية للطبقة المتوسطة و غيابه في خلايا الغمد

**الاستنتاج:** انزيم PEPc يتواجد في خلايا الطبقة المتوسطة فقط و لا يوجد في خلايا الغمد .

**الوثيقة (2 - ب):** جدول يلخص الفرق بين الانزيمات النباتية عند النباتات ثلاثية الكربون و رباعية الكربون :

- انزيم PEPc يميز C4 ولا يتواجد عند نباتات ال C3 بيت ال يقوم بتثبيت CO2 و ناتج التفاعل المركب رباعي الكربون ، يتميز بفاعلية كبيرة جدا في تثبيت ال CO2
- انزيم ال RUBISCO يتواجد عند كلا النوعين من النباتات ، يقوم بتثبيت ال CO2 و ناتج التفاعل المركب ثلاثي الكربون ، يتميز بفاعلية اقل في تثبيت ال CO2 مقارنة ب لانزيم PEPc الذي تفوق فاعليته RUBISCO
- **الوثيقة (2-ج):** رسم تخطيطي يوضح تفاعلات الكيمائية التي تحدث على مستوى الخلايا اليخضورية للنبات رباعي الكربون .
- **على مستوى خلية يخضورية في نسيج الطبقة المتوسطة:**  
على مستوى كبيسات داخل الصانعات الخضراء يحدث التفاعل الكيموضوئي بانتاج NADPH.H+ ATP مع انطلاق O2 وعلى مستوى الهيولى يتم تثبيت ال CO2 على مركب C3 بتدخل انزيم PEPc لينتج مركب C4 ينفذ الى لستروما الصانعة الخضراء و يتم ارجاعه الى مركب C4 اخر باكسدة NADPH.H+ اما ال ATP فتستعمل في تجديد المستقبل الاول ل CO2 انطلاقا من مركب C3 يتشكل في الصانعة الخضراء للخلية اليخضورية في نسيج الغمد .
- ينتقل C4 بعدها من الطبقة المتوسطة الى نسيج الغمد .

**على مستوى الخلية اليخضورية في نسيج الغمد:**

على مستوى ستروما الصانعة الخضراء يتم اكسدة C4 الى C3 بتحرير ال CO2 (نزع ال CO2) و بارجاع NADP+ الى NADPH.H+ . ثم يعود C3 الى نسيج الطبقة المتوسطة .

يدخل ال CO2 في حلقة كالفن حيث يثبته انزيم RUBISCO ويتم نمجه في المادة العضوية باستهلاك ال ATP التي تتركب على مستوى اغشية الصفائح الحشوية و NADPH.H+ المرجع و هذا ما يسمح بتركيب النشاء

## التركيب: سبب تميز نباتات رباعية الكربون بالكفاءة العالية في عملية التركيب الضوئي مقارنة بالنباتات ثلاثية الكربون.

تعود الكفاءة العالية لنباتات رباعية الكربون في عملية التركيب الضوئي الى وجود نوعين من الانسجة لكل منهما مجموعة من الخصائص البنوية و الوظيفية تتمثل في

خلايا الطبقة المتوسطة: تتميز بوجود الصانعات الخضراء الغنية بالكبيسات و التي تضمن اقتناص كمية كبيرة من الطاقة الضوئية و انتاج كمية كبيرة من ال ATP و NADPH.H+ بفضل التفاعل الكيمووضوئي ، ووجود انزيم PEPC ذي الكفاءة العالية في تثبيت ال و تشكيل مركب رباعي C4

خلايا الغمد: تتميز بوجود صانعات خضراء تحتوي على تنزيم RUBISCO الذي يثبت ال CO2 المنقول عبر C4 و حدوث التفاعل الكيموحيوي الذي يؤدي الى تركيب النشاء .

1 حصص مباشرة

2 حصص مسجلة

3 دورات مكثفة

أحصل على بطاقة الإشتراك

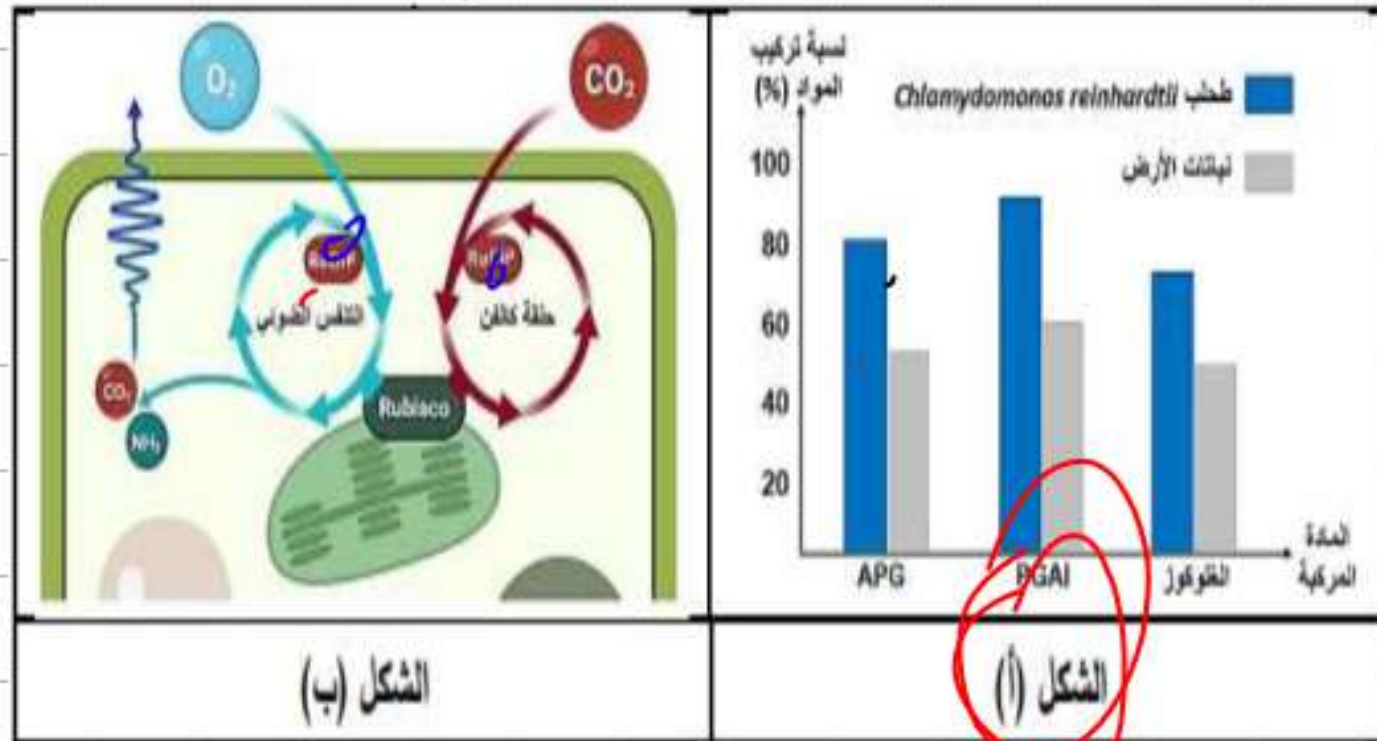


تقوم نباتات الأرض بتثبيت ثاني أكسيد الكربون الجوي و دمجه في المادة العضوية في إطار ظاهرة التركيب الضوئي، و هذه العملية هي ما يوفر قاعدة الاحتياجات الغذائية لجميع الكائنات الحية.

الجزء الأول:

وجد الباحثون أن النباتات لا تستغل ثاني أكسيد الكربون بشكل مثالي و هذا ما ينعكس سلباً على الإنتاجية و لمعرفة سبب ذلك أجروا عليها دراسة مقارنة مع طحلب مائي قادر على التركيب الضوئي يدعى Chlamydomonas reinhardtii نقدمها لك في أشكال الوثيقة (1)، حيث:

- الشكل (أ) يمثل كميات المواد المركبة خلال تفاعلات حلقة كالفن في كل من الطحلب المائي و نباتات الأرض.
- الشكل (ب) يبرز التفاعلات التي يقوم بها إنزيم Rubisco في الصانعات الخضراء لنباتات الأرض، حيث وجد أنه إضافة إلى تثبيت الـ  $CO_2$  فإن له القدرة على تثبيت الـ  $O_2$  كذلك ضمن سلسلة تفاعلات تدعى التنفس الضوئي.
- يوضح الشكل (ج) معدلات تفاعل إنزيم Rubisco مع كل من  $CO_2$  و  $O_2$  في الطحلب و نباتات الأرض.



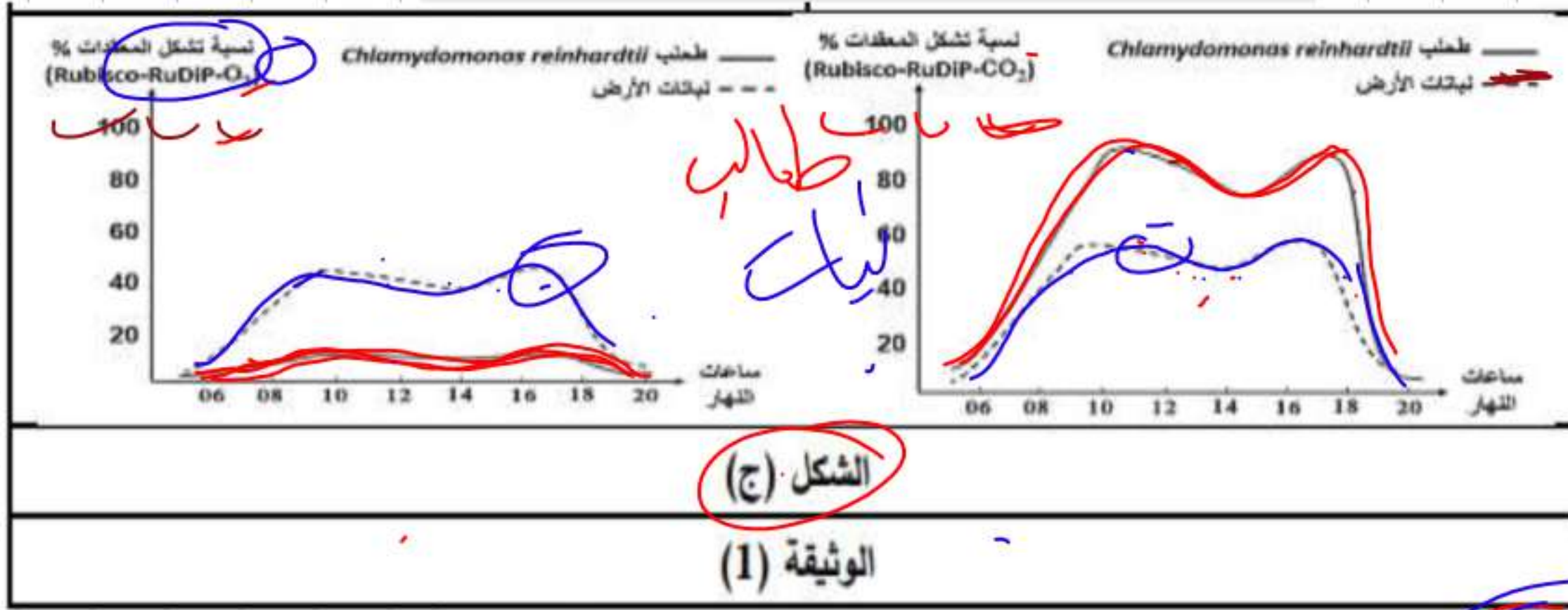
1 حصص مباشرة

2 حصص مسجلة

3 دورات مكثفة

أحصل على بطاقة الإشتراك





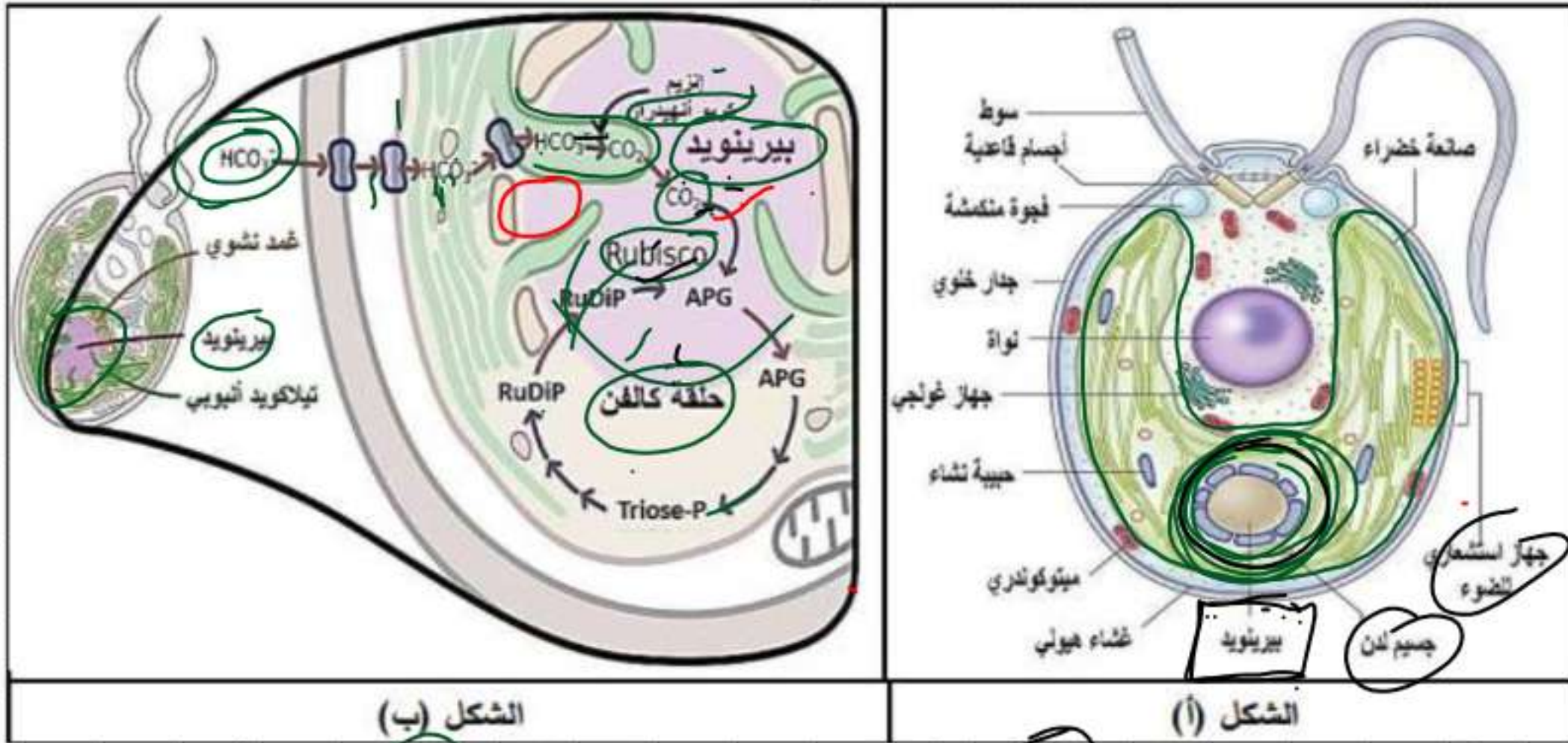
- 1- باستغلال أشكال الوثيقة (1)، استخرج سبب ضعف إنتاجية نباتات الأرض.
  - 2- بالاعتماد على ما توصلت إليه في الشكل (ج)، صغ المشكل العلمي المطروح.
- الجزء الثاني:

- للإجابة عن المشكل المطروح نقترح عليك أشكال الوثيقة (2)، حيث:
- الشكل (أ) يمثل رسماً تخطيطياً لما فوق بنية الطحلب المائي *Chlamydomonas reinhardtii*.
  - الشكل (ب) يبين خطوات تقنية تركيز ثاني أكسيد الكربون CCM التي يقوم بها الطحلب المائي لإنتاج غذائه انطلاقاً من  $CO_2$  الذي يكون منحلًا في الماء في شكل بيكربونات  $HCO_3^-$ .
  - الشكل (ج) يمثل نمذجة لطريقة توزيع إنزيم Rubisco في كل من الطحلب و نباتات الأرض.





ملف الحصة المباشرة و المسجلة



الشكل (ب)

الشكل (أ)

حصص مباشرة

1

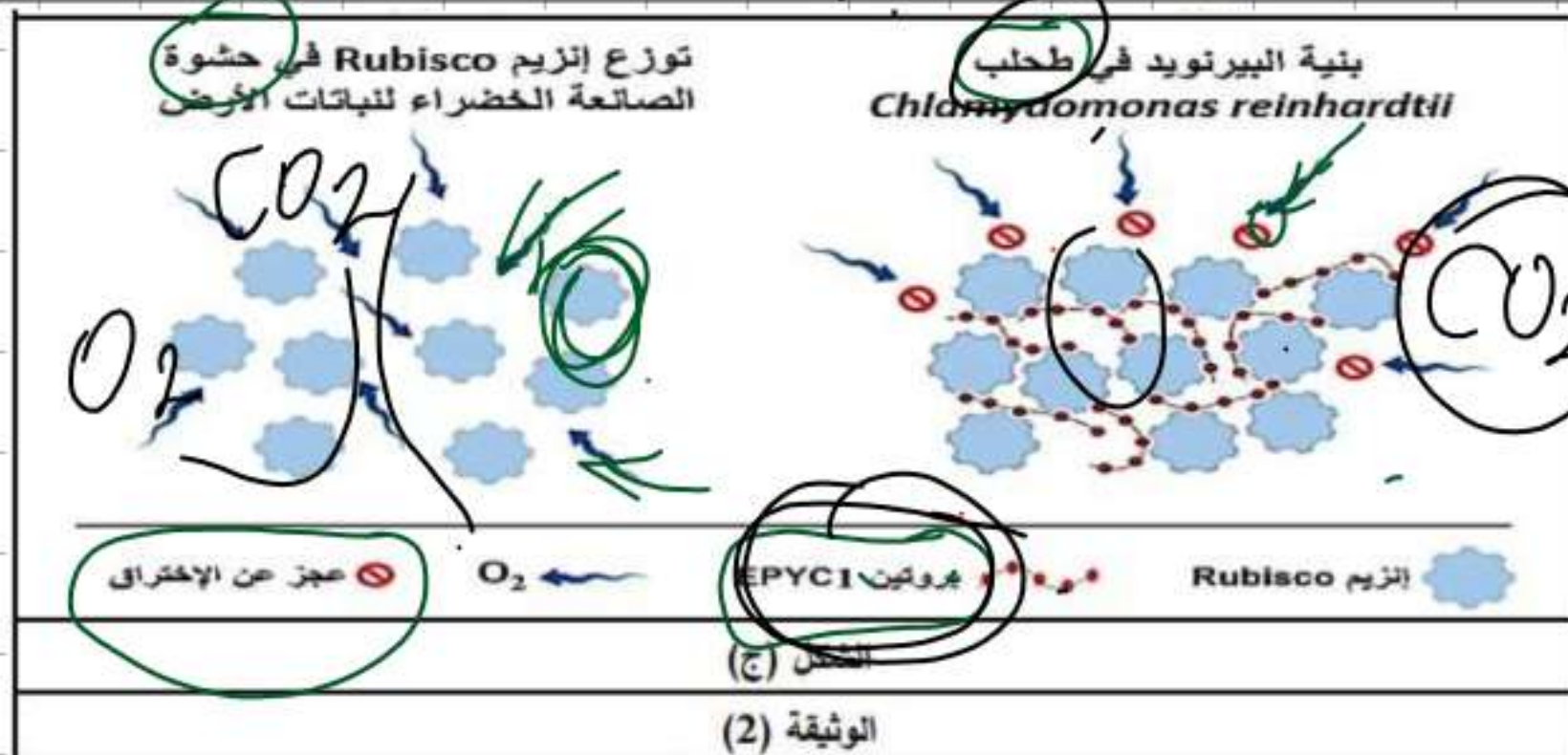
حصص مسجلة

2

دورات مكثفة

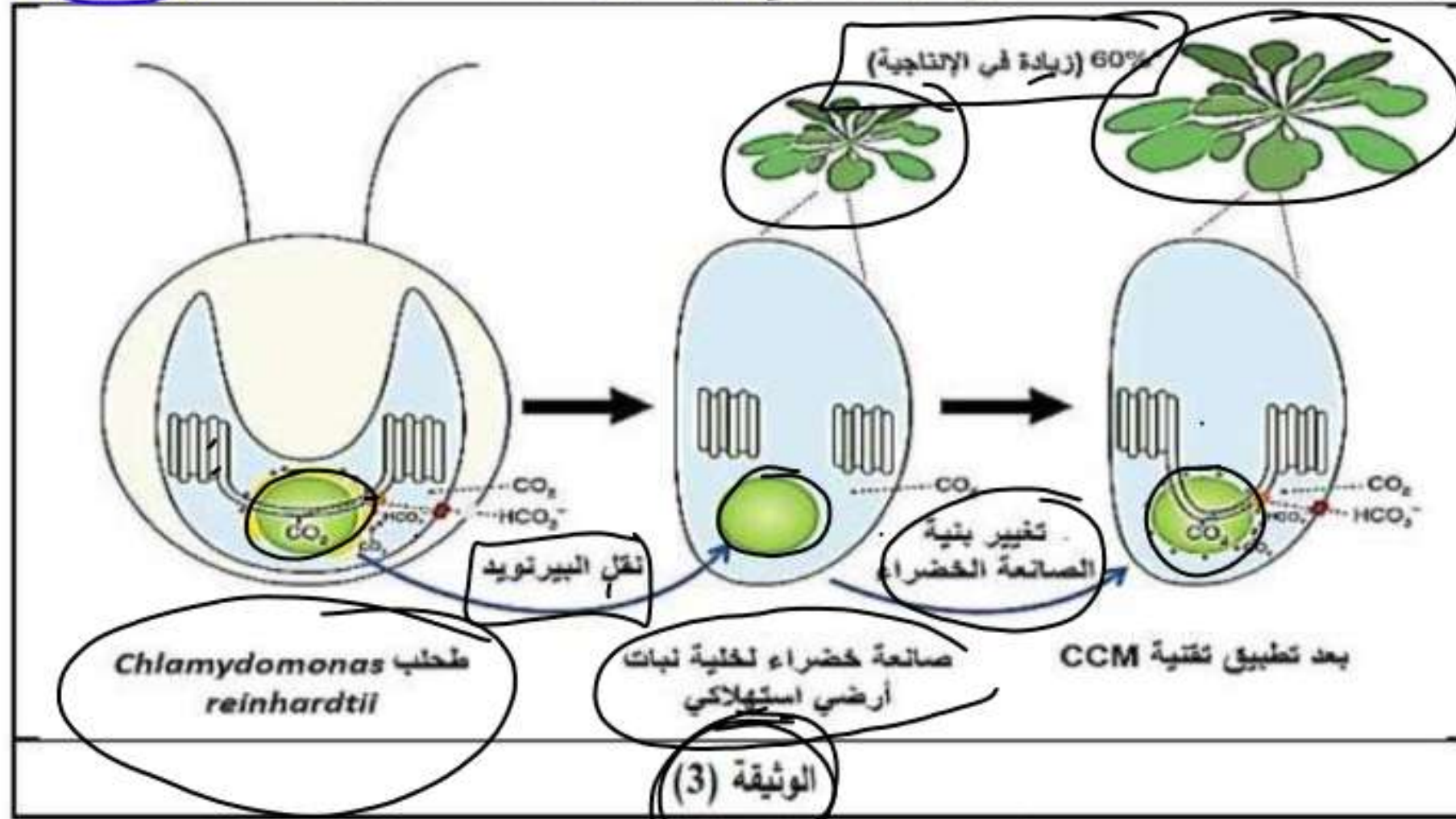
3

أحصل على بطاقة الإشتراك





سعى الباحثون لاستغلال تقنية CCM التي يقوم بها الطحلب في تحسين إنتاجية نباتات الأرض كما تبينه الوثيقة (3):



- 1- باستغلال معطيات الوثيقة (2)، أجب عن المشكل المطروح.
- 2- وضع سبب اهتمام الباحثين بهذا الطحلب المائي بالاعتماد على الوثيقة (3).



## حل التمرين 5



الجزء الأول:

1. استخراج سبب ضعف إنتاجية نباتات الأرض:

- استغلال الشكل (أ): يمثل أعمدة بيانية توضح كميات المواد المركبة خلال تفاعلات حلقة ك في كل من الطحلب المائي و نباتات الأرض، حيث:
  - يركب الطحلب نسبة أكبر من APG (80%) مقارنة مع نباتات الأرض (50%).
  - يركب الطحلب نسبة أكبر من PGAI (90%) مقارنة مع نباتات الأرض (60%).
  - يركب الطحلب نسبة أكبر من الغلوكوز (70%) مقارنة مع نباتات الأرض (50%).
- الاستنتاج: الطحلب المائي ذو إنتاجية أكبر للمركبات الوسطية في تفاعلات حلقة كالفن من نباتات الأرض.

- استغلال الشكل (ب): يمثل نمذجة للتفاعلات التي يقوم بها إنزيم Rubisco في حشوة الصانعات الخضراء لنباتات الأرض، حيث:

نلاحظ أن إنزيم Rubisco يقوم بالتفاعل مع ركيزتين:

- $CO_2$  الذي يثبت على مركب RuDiP ضمن تفاعلات حلقة كالفن لإنتاج السكريات.
- $O_2$  الذي يثبت كذلك على RuDiP ضمن تفاعلات التنفس الضوئي التي ينتج عنها  $NH_3$  و انطلاق  $CO_2$ .

- الاستنتاج: إنزيم Rubisco قادر على تثبيت كل من  $CO_2$  و  $O_2$  في حشوة الصانعات الخضراء لنباتات الأرض.

- استغلال الشكل (ج): يمثل منحنيات تظهر تغيرات نسبة تشكل المعقدات (RuDiP-Rubisco- $CO_2$ ) و المعقدات (RuDiP-Rubisco- $O_2$ ) في كل من الطحلب و نباتات الأرض، حيث:

- نسبة تشكل المعقدات (RuDiP-Rubisco- $CO_2$ ):

- ترتفع بداية من الساعة (06) لكن بنسبة أكبر عند الطحلب حيث تصل إلى 90% عند الساعة (10) بينما تصل إلى 60% فقط عند النباتات، ثم تتخفض ببطء خلال ساعات منتصف النهار حتى تصل إلى 80% للطحلب و 50% للنباتات لتعود للارتفاع مجددا بعد الساعة (03) ثم تتخفض بشكل سريع حتى الانعدام عند الساعة (20) مساءً.

- نسبة تشكل المعقدات (RuDiP-Rubisco- $O_2$ ):

- ترتفع بداية من الساعة (06) بنسبة أكبر عند النباتات حيث تصل إلى 50% عند الساعة (10)، من ثم تتخفض ببطء خلال ساعات منتصف النهار حتى تصل إلى 40% لتعود للارتفاع مجددا بعد الساعة (03) ثم تتخفض بشكل سريع حتى الانعدام عند الساعة (20) مساءً، بينما لا تتجاوز نسبة 20% عند الطحلب طيلة ساعات النهار.

- الاستنتاج: يتميز إنزيم Rubisco عند الطحلب بكفاءة (فعالية) كبيرة في تثبيت  $CO_2$  و ضعف في تثبيت  $O_2$  على عكس إنزيم Rubisco عند نباتات الأرض الذي يتميز بكفاءة أقل في تثبيت  $CO_2$  و أكبر في تثبيت  $O_2$ .

\* و منه:

نقص كفاءة (فعالية) إنزيم Rubisco في تثبيت  $CO_2$  عند نباتات الأرض أدى إلى تقليل إنتاج المواد الوسطية لتفاعلات حلقة كالفن و بالتالي إنتاج كمية أقل من المثالية للغلوكوز الذي يستعمل في نمو النباتات، مما أدى إلى تقليل إنتاجيتها.

2. صياغة المشكل العلمي المطروح:

- من الشكل (ج): لاحظنا أن إنزيم Rubisco عند الطحلب ذو كفاءة عالية في تثبيت  $CO_2$  مقارنة بنباتات الأرض و العكس في حالة تثبيت  $O_2$ ، مما يقودنا للتساؤل:

\* ما سبب هذا الاختلاف؟



## الجزء الثاني:

### 1. الإجابة عن المشكل المطروح:

- استغلال الشكل (أ): يمثل رسماً تخطيطياً للطحلب المائي *Chlaydomonas reinhardtii*، حيث يظهر أن هذا الطحلب:
  - كانن وحيد الخلية حقيقي النواة محاط بغشاء هولي داخلي و جدار خلوي ينبعث منه سوطان بارزان.
  - الهولي تحتوي على مجموعة متنوعة من العضيات (ميتوكوندريات، نواة، أجهزة غولجي، فجوتان منكمشتان، جسامان قاعديان ملتصقان في قاعدتي السوطين، صانعة خضراء).
  - الصانعة الخضراء ضخمة و متطورة تحتوي على مجموعة من البنيات متوزعة بشكل مختلف (بيرينويد في المركز، جسيمات لندة متفرقة، جهاز استشعاري للضوء ملتصق بالغلاف، حبيبات نشاء أغلبها متمركز حول البيرينويد)، كما تحتوي الصانعة على شبكة كثيفة من التيلاكويدات.
  - الاستنتاج: بنية الطحلب المائي تسمح له بالقيام بالتركيب الضوئي.
- استغلال الشكل (ب): يمثل رسماً تخطيطياً وظيفياً لجزء من الطحلب المائي يبرز خطوات آلية CCM التي يقوم بها لإنتاج غذائه انطلاقاً من  $CO_2$  المنحل في الماء في شكل  $HCO_3^-$  حيث:
  - ينفذ  $HCO_3^-$  عبر قنوات إلى داخل الطحلب ثم إلى داخل الصانعة الخضراء ثم إلى داخل تيلاكويد أنبوبي، هذا الأخير يخترق البيرينويد.
  - داخل التيلاكويد و يتدخل إنزيم كربوانهيدراز يتحول  $HCO_3^-$  إلى  $CO_2$ .
  - يخرج  $CO_2$  من التيلاكويد إلى البيرينويد أين يتواجد إنزيم Rubisco الذي يثبت على APG ليدخل في تفاعلات حلقة كالفن المنتجة للسكريات.
  - الاستنتاج: الطحلب المائي قادر على اقتناص البيكربونات من الماء و تحويلها إلى  $CO_2$  يستعمله في إنتاج غذائه.

- استغلال الشكل (ج): يمثل نمذجة لطريقة توزع إنزيمات Rubisco في كل من الطحلب و نباتات الأرض، حيث:
  - عند النباتات: تكون الإنزيمات متوزعة بشكل حر في حشوة الصانعة الخضراء مع وجود فراغات بينها تسمح لها بوصول  $O_2$  إليها.
  - عند الطحلب: تكون الإنزيمات مرتبطة ببعضها بواسطة بروتينات EPYC1 مما يخلق الفراغات بينها و يمنع وصول  $O_2$  إلى الإنزيمات.
  - الاستنتاج: تمنع بنية البيرينويد (وجود بروتينات EPYC1) المميزة تثبيت إنزيم Rubisco لـ  $O_2$ .
- \* و منه:
  - سبب الاختلاف و تفوق الطحلب على النباتات في كفاءة تثبيت  $CO_2$  هو:
    - قدرته على تحويل اقتناص البيكربونات من الماء و تحويلها إلى  $CO_2$ .
    - احتواؤه على بنية تميزه عن النباتات و المتمثلة في البيرينويد المتكون من بروتينات EPYC1 تربط إنزيمات Rubisco ببعضها و تمنع وصول  $O_2$  إليها.
    - عدم وصول  $O_2$  إلى Rubisco يمنع منافسته لـ  $CO_2$  الذي يصل بسهولة عبر التيلاكويدات الأنبوبية التي تخترق البيرينويد.

### 2. توضيح سبب اهتمام الباحثين بهذا الطحلب:

- استغلال الوثيقة (3): تمثل رسماً تخطيطياً وظيفياً يظهر آلية تحسين إنتاجية نباتات الأرض بتقنية CCM الخاصة بالطحلب حيث:
  - في البداية، تم نقل البيرينويد من الطحلب إلى حشوة الصانعة الخضراء لنبات أرضي استهلاكي.
  - بعد ذلك تم تغيير بنية الصانعة الخضراء بحيث يخترق البيرينويد اثنان من التيلاكويدات.
  - عقب هذه التغييرات تصبح بنية الصانعة الخضراء للنبات مشابهة لمثلثاتها عند الطحلب، و هذا ما يسمح لها بالقيام بآلية CCM في تثبيت  $CO_2$ ، مما يرفع في الإنتاجية بنسبة 60%.
- \* و منه:

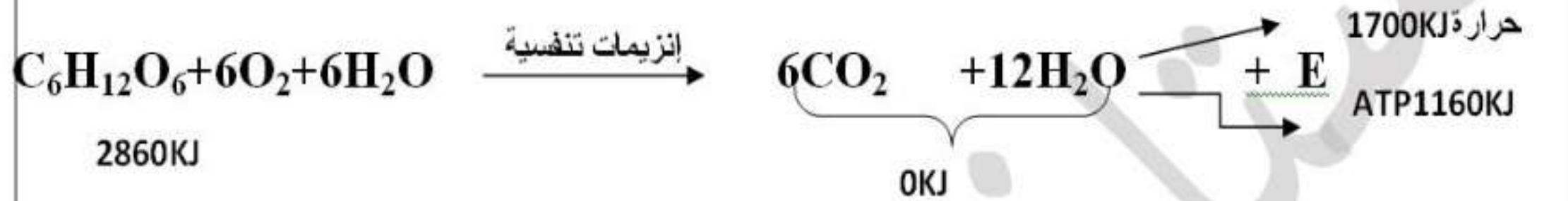
سبب اهتمام الباحثين بهذا الطحلب هو قدرته على تثبيت  $CO_2$  بطريقة أكثر كفاءة بفضب احتوائه على البيرينويد الذي يمكن نقله إلى النباتات الاستهلاكية مما يرفع من إنتاجتها و يحسن المحاصيل.

المجال التعلمي الثالث: التحولات الطاقوية  
الوحدة التعليمية الثانية: آليات تحويل الطاقة الكيميائية الكامنة في الجزيئات العضوية إلى ATP في الوسط الهوائي  
النشاط التعليمي: مقر الأكسدة الخلوية

مدخل الوحدة:

تحتوي المواد العضوية المركبة أثناء عملية التركيب الضوئي على طاقة كيميائية كامنة في روابطها الكيميائية، هذه الأخيرة يتم هدمها لاستخراج ما بها من طاقة وتحويلها إلى طاقة قابلة للإستعمال ATP تستعملها الخلايا الحية في مختلف نشاطاتها الحيوية. عن طريق التنفس في وجود  $O_2$  ، التخمر في غياب  $O_2$

تلخص المعادلة الإجمالية الآتية ظاهرة الهدم الكلي لجزيئة الجلوكوز (التنفس)



التعليمة: استنتج من المعادلة مفهوم التنفس أهمية الظاهرة

1 حصص مباشرة

2 حصص مسجلة

3 دورات مكثفة

أحصل على بطاقة الإشتراك





## الإجابة:

التنفس ظاهرة حيوية يتم خلالها هدم المادة العضوية كلياً وتحويل الطاقة الكيميائية الكامنة في الجزيئات العضوية إلى ATP وجزء يضيع على شكل حرارة.

الأهمية: أنتج طاقة قابلة للاستعمال في مختلف نشاطات الخلية

## المشكل:

ماهي الليات تحويل الطاقة الكيميائية الكامنة في الجزيئات العضوية إلى ATP ؟

## 1- إظهار مقر الأكسدة التنفسية:

السند: التجربة + الوثيقة 207 / 01 + الوثيقة 02 . 03 / 208 التعليمية: بين مقر الأكسدة التنفسية باستغلال الوثائق.

### الإجابة

نلاحظ تلون حبيبات باللون الأخضر في الوسط الهوائي وهذا يدل على حدوث أكسدة الملون داخل على مستواها .  
أي أن على مستوى هذه العضيات تحدث عملية الأكسدة  
بينما عدم تلون أخضر الجانوس في الوسط اللاهوائي يدل على عدم وجود العضيات المسؤولة عن ذلك.

ومن خلايا الخميرة على عضيات تتم فيها عملية الأكسدة يرتبط تواجدتها بتهوية الوسط.

تجربة: نقوم بتحضير مزرعتين من خميرة الخبز في إناءين مختلفين ، يحتوي كل منهما على محلول سكري ، نسد الإناء الأول بإحكام ، ونقوم بتهوية الإناء الثاني باستمرار ، بعد مدة زمنية ، نأخذ عينة من كل إناء ونعالجها بمحلول أخضر الجانوس الذي يعتبر ملونا حيويا ، حيث يكون أخضرا في الحالة المؤكسدة وشفافا في الحالة المرجعة . كانت النتائج المتحصل عليها كالتالي :  
ظهور حبيبات ملونة بالأخضر في الخلايا المأخوذة من الوسط الهوائي وعدم ظهورها في الوسط اللاهوائي .

ملف الحصة المباشرة و المسجلة

1 حصص مباشرة

2 حصص مسجلة

3 دورات مكثفة

أحصل على بطاقة الإشتراك



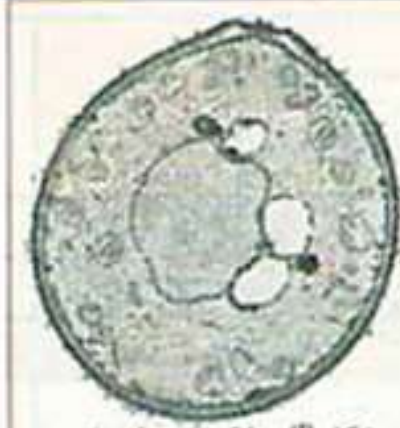


### الوثيقة 01

بمقارنة بنية خلايا الخميرة المأخوذة من وسط هوائي  
وآخر لاهوائي نجد أن:  
خلايا الخميرة المأخوذة من وسط هوائي تحتوي على  
عدد كبير من الميتوكوندري المتطورة تتميز بحجم  
كبير وأعراف نامية، في حين تكون شبه غائبة في  
الوسط اللاهوائي (عدد قليل من الميتوكوندري)  
وتتميز بحجم صغير وأعراف ضامرة).  
اذن وجود الميتوكوندري وتطورها مرتبط بتهوية  
الوسط



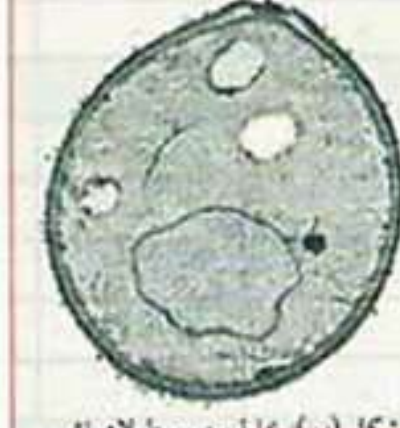
شكل (أ): رسم تفسيري لخلية من وسط هوائي



شكل (أ): خلية من وسط هوائي



شكل (ب): رسم تفسيري لخلية من وسط لاهوائي

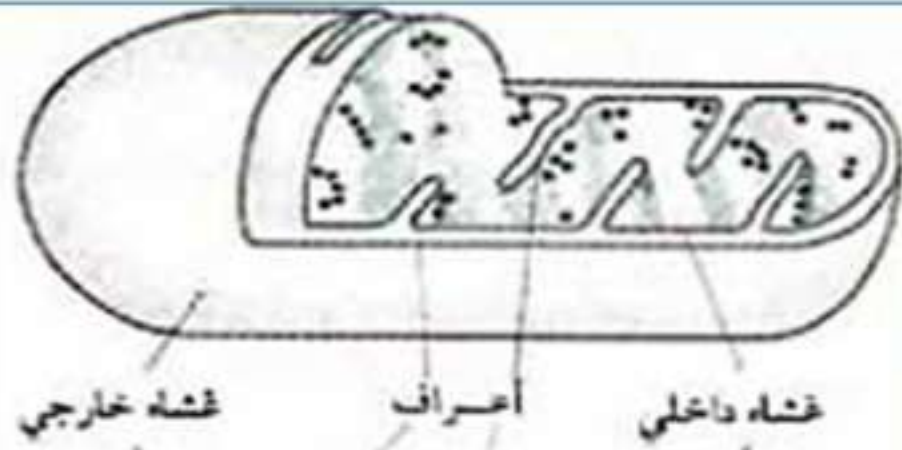


شكل (ب): خلية من وسط لاهوائي

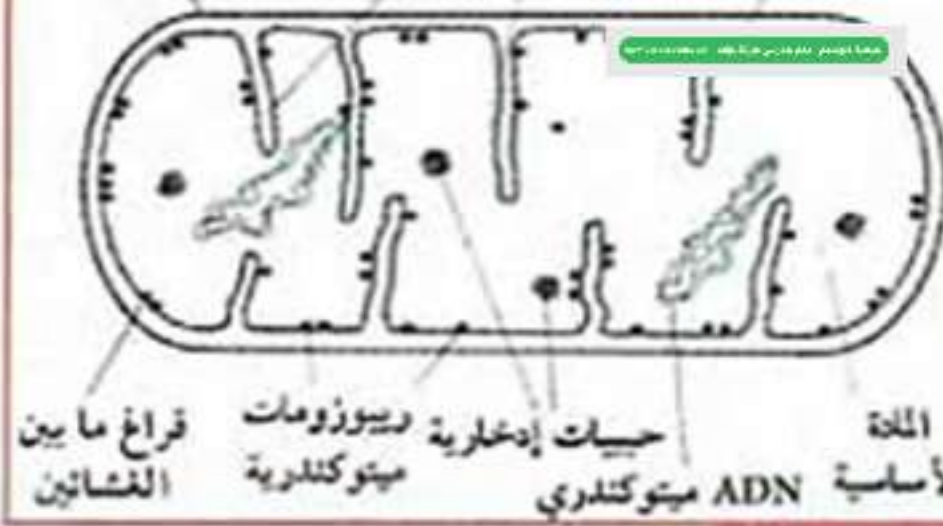
الوثيقة (1) خلايا الخميرة كما تبدو تحت المجهر الإلكتروني النافذ



الوثيقة (2) صورة بلجهر الإلكتروني النافذ لمقطع في ميتوكوندرية



غشاء داخلي  
أعراف  
غشاء خارجي



المادة الأساسية  
ADN ميتوكلندري  
حيات إدخارية ريبوزومات  
ميتوكلندرية  
قراغ ما بين الغشائين

الوثيقة (3) رسم تخطيطي للميتوكوندرية

### وصف بنية الميتوكوندرية واستنتاج مميزات بنيوية

للميتوكوندرية عضوية ذات شكل عصوي محاطة بغشائين داخليين وخارجيين بينهما فراغ بين غشائين ،

يرسل الغشاء الداخلي إنتشاءات تكون عمودية على المحور

للميتوكوندرية هيالأعراف الميتوكوندرية ويحصر مادة أساسية

تحتوي على ريبوزومات و DNA ومواد ادخارية .

اذن للميتوكوندرية بنية حجيرية حيث تتكون من حجرتين وهي :

الفراغ بين الغشائين والمادة الأساسية.

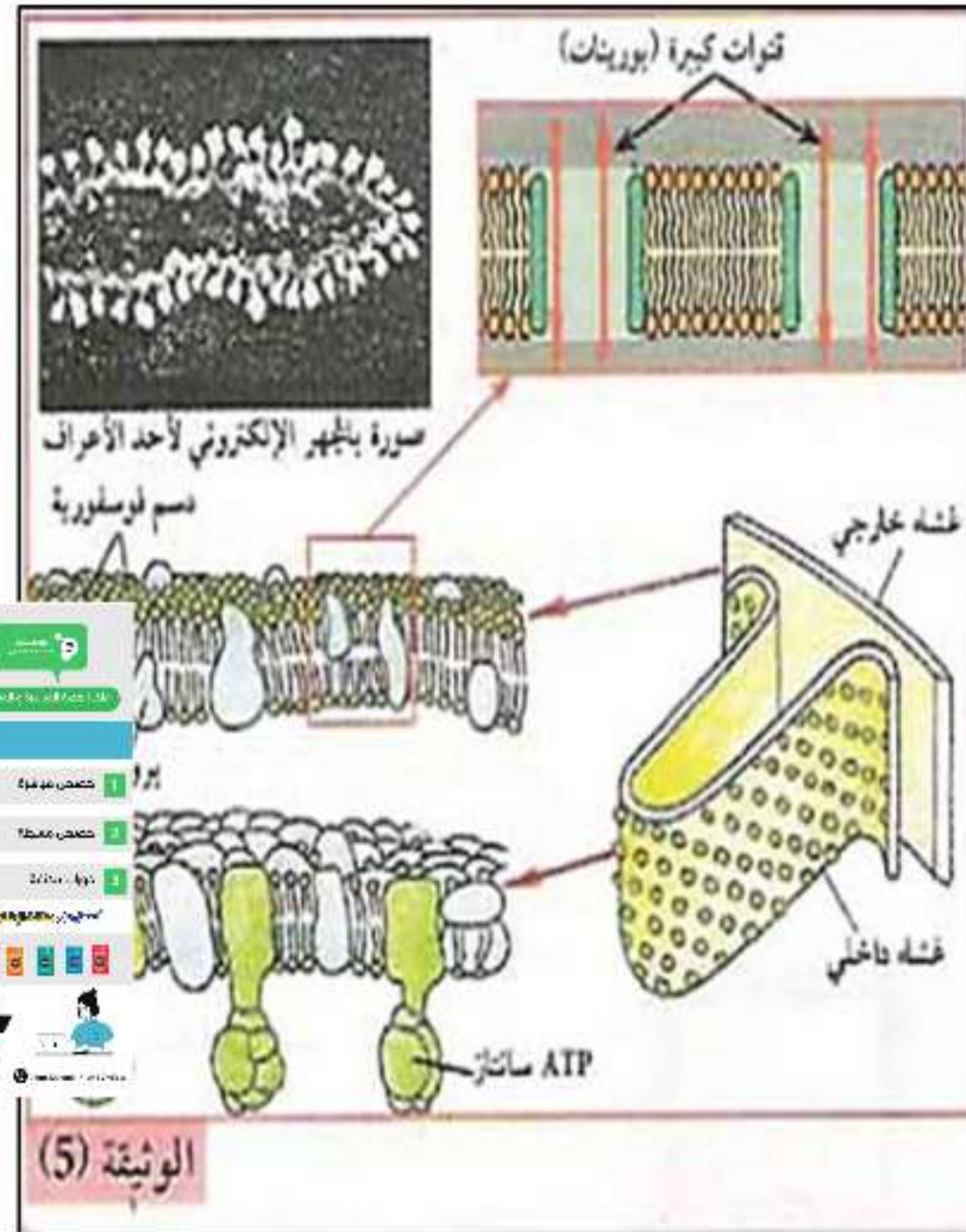
ومنه في وجود  $O_2$  تكون الميتوكوندرية ذات بنية متطورة (حجم كبير واعراف نامية) فتكون وظيفية في حين تكون في غياب  $O_2$  ضامرة فتكون غير وظيفية وبالتالي الميتوكوندرية هي مقر الأوكسدة التنفسية.

## 2- التركيب الكيموحيوي للميتوكوندريا

السند: الوثيقة 04 / 05 / 208 . 209

التعليمة: أثبت اختلاف دور الغشاء الداخلي و المادة الأساسية للميتوكوندريا في سيرورة عملية التنفس .

الميتوكوندريا		المقر	نوع المادة
المادة الأساسية			
الغشاء الداخلي	الغشاء الخارجي	الهيولى	
+	+		البروتينات في الغشاء
+	+		الدهن في الغشاء
مواد الأيض			
		+	حمض البيروفيك
		-	الغلوكوز
		+	أستيل
البروتينات والإنزيمات			
-	+	+	نازعات الهيدروجين
-	-	+	نازعات الهيدروجين والكربوكسيل
-	+	-	نواقل الإلكترونات
-	+	-	ATP Synthase
-	+	-	مضخات البروتونات
+ موجود - غير موجود			
الوثيقة (1)			





بمقارنة التركيب الكيميائي للغشاء الداخلي والخارجي نجد أن تركيب الغشاء الخارجي يتكون من نسبة قليلة من البروتينات 50% تتمثل أساساً في البورينات في حين يحتوي الغشاء الداخلي على نسبة مرتفعة من البروتينات 80% وهذا يدل على أنه مقر لتفاعلات كيموحيوية هامة ، حيث يحتوي على أنزيمات نازعات الهيدروجين، نواقل الإلكترونات أي مقر لتفاعلات أكسدة وإرجاع ، انزيم ATPSynthase فهو يدل على دوره في تصنيع ATP وتوجد مضخات البروتونات.

أما المادة الأساسية تحتوي على نسبة قليلة من أنزيمات وهي نازعات الهيدروجين و نازعات الهيدروجين والكربوكسيل. تحتوي على عوامل مساعدة مؤكسدة ( $NAD^+$  و  $FAD$ ). كما تحتوي على مواد الأيض وهي نواتج هدم الجلوكوز (حمض البيروفيك وأستيل مرافق الأنزيم أ) أي أن المادة الأساسية هي مقر هدم المادة العضوية. ومنه يختلف التركيب الكيميائي لكل من المادة الأساسية والغشاء الداخلي هذا يدل على اختلاف دورهما في عملية التنفس.

### 3- طبيعة التفاعلات الكيميائية لعملية التنفس:

يمكن تلخيص التفاعلات الكيميائية للتنفس في الآتي:



تعليمية: حدد نوع التفاعلين (1) و (2) و (3)؟

الإجابة: التفاعل 1: هو تفاعل أكسدة ، أما تفاعل 2: هو تفاعل إرجاع

الاستنتاج: تفاعلات ظاهرة التنفس هي تفاعلات إرجاع.

خلاصة: يتم هدم الركيزة العضوية داخل الميتوكوندريا في ذات بنية حجرية

- يتميز الغشاء الداخلي للميتوكوندريا بوجود نواقل البروتونات و/ أو الإلكترونات التي تشكل سلاسل الأكسدة و الإرجاع و وجود الـ ATP سنتيتاز.

- تحتوي المادة الأساسية على عدة أنزيمات من نوع نازعات ثاني أكسيد الكربون ، نازعات الهيدروجين ، التي تستعمل عوامل مساعدة مؤكسدة ( $NAD^+$  و  $FAD$ ) ، و الـ ATP

## النشاط التعليمي 2: التحلل السكري

**وضعية الانطلاق:** تتم عملية التنفس داخل الميتوكوندري، حيث يتم أكسدة مادة الأيض للحصول على طاقة

1- مراحل هدم مادة الأيض في الميتوكوندري:

السند: الوثيقة 02/210 + الوثيقة 04/212

التعليمية:

وضح مراحل هدم مادة الأيض المستعملة من طرف

الميتوكوندري على مستوى الهيولى

الإجابة:

الوثيقة 02

قبل إضافة الجلوكوز نلاحظ أن كمية الأكسجين ثابتة في حدود 7.2 ملغ/لتر (عدم استهلاك الأكسجين).

عند إضافة الجلوكوز تبقى كمية الأكسجين ثابتة بنفس القيمة.

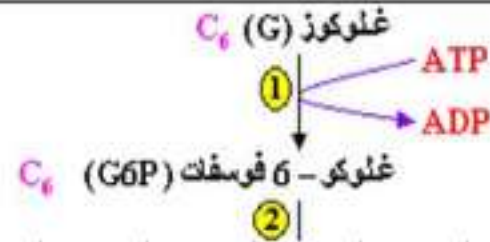
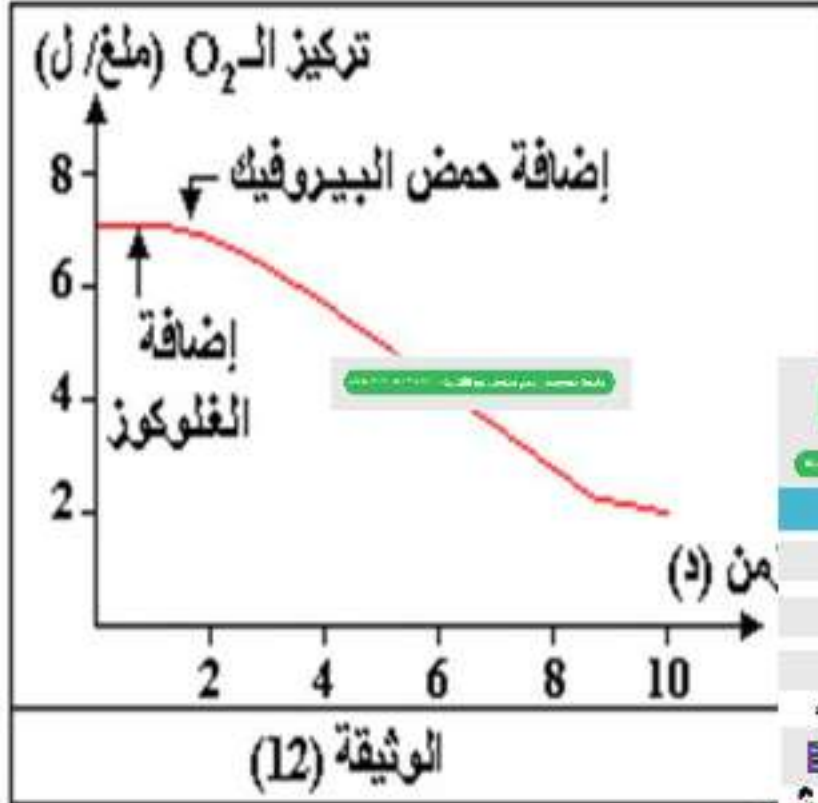
بعد إضافة حمض البيروفيك نلاحظ تناقص كبير في كمية الأ

في الوسط من 7.2 ملغ/لتر إلى أن تصل 2 ملغ/لتر بعد 10 دقائق

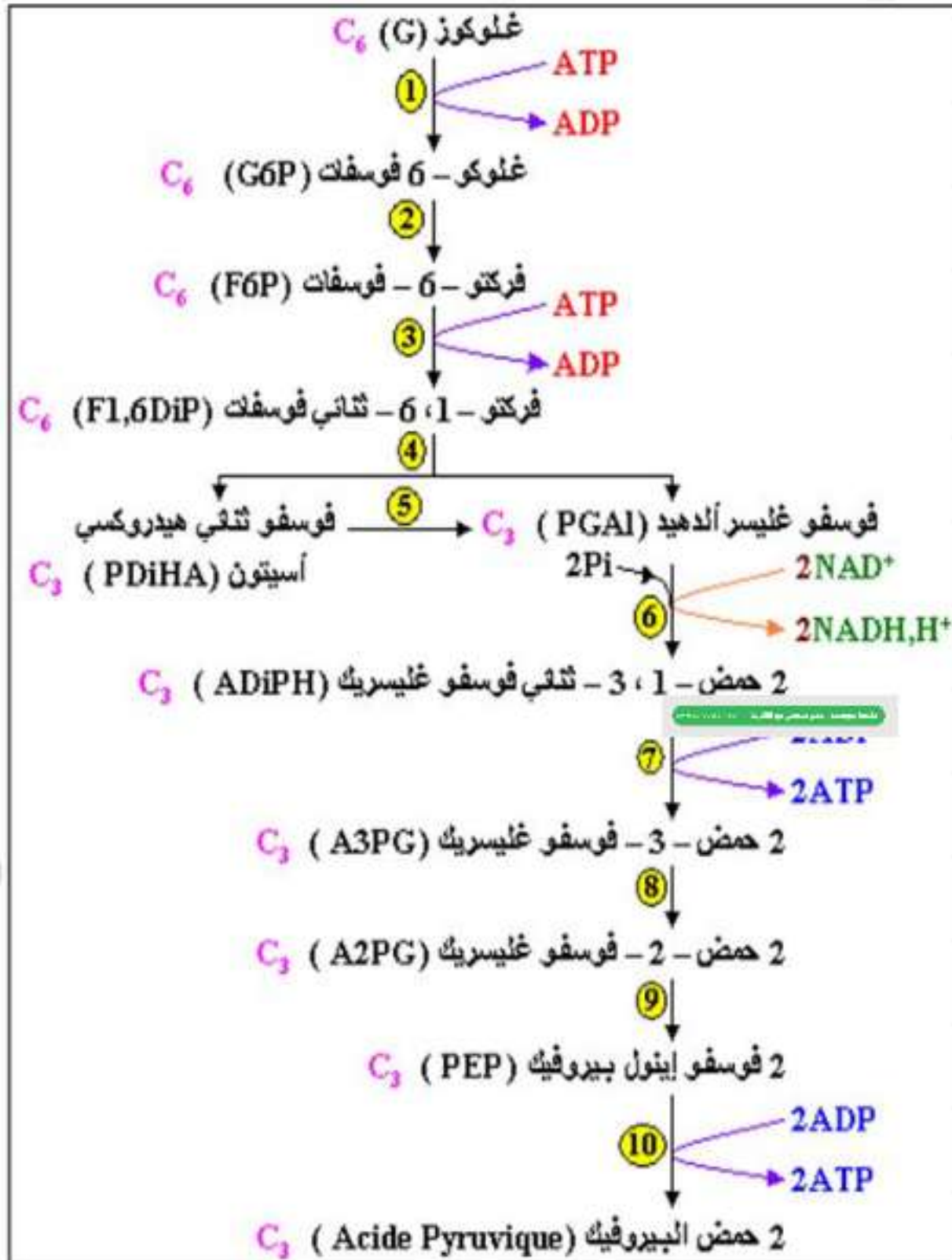
من إضافة حمض البيروفيك.

الاستنتاج : يتم استهلاك الأكسجين من طرف

الميتوكوندري في وجود حمض البيروفيك.



## الوثيقة 04: تمثل مراحل التحلل السكري



1- تتم فسفرة الغلوكوز في وجود  $Pi$  الناتج من اماهة الـ ATP

2- يتماكب الغلوكوز P-6 الى الفركتوز P-6

3- يتم فسفرة الفركتوز P-6 في وجود  $Pi$  الناتج من اماهة الـ ATP لينتج الفركتوز-1-6 ثنائي فوسفات

4- ينشطر الفركتوز-1-6 ثنائي فوسفات لينتج

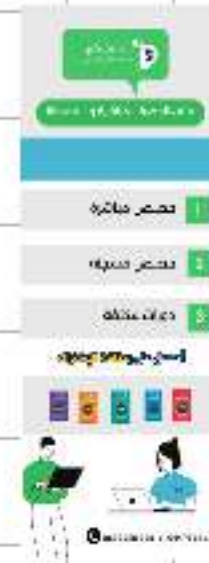
فوسفو غليسر الهيد و فوسفو ثنائي هيدروكسي اسيتون.

5- فوسفو ثنائي هيدروكسي اسيتون يتماكب الى فوسفو غليسر الهيد

6- تتم أكسدة جزئيتين من فوسفو غليسر الهيد في وجود  $2NAD^+$  و فسفرته في وجود  $2Pi$  لينتج 2

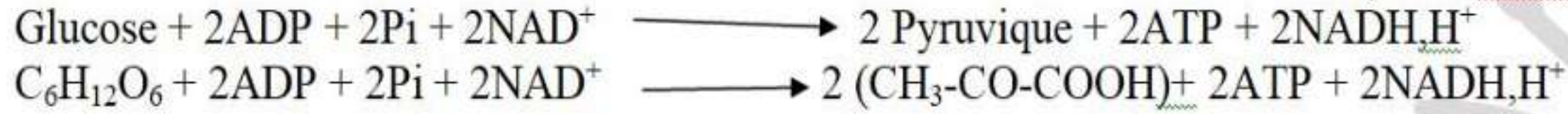
حمض 1-3 ثنائي فوسفو غليسيريك

7- يتم إزالة فوسفور من 2 حمض 1-3 ثنائي فوسفو غليسير



- 8- يتماكب 2 حمض 3 فوسفو غليسريك الى 2 حمض 2 فوسفو غليسريك
- 9- يتماكب 2 حمض 2 فوسفو غليسريك الى 2 فوسفو اينولبيروفيك (PEP2)
- 10- يتم إزالة فوسفور من 2 فوسفو اينولبيروفيك (PEP2) لينتج 2 حمض البيروفيك

### معادلة التحلل السكري :



### خلاصة:

على مستوى الهيولى:

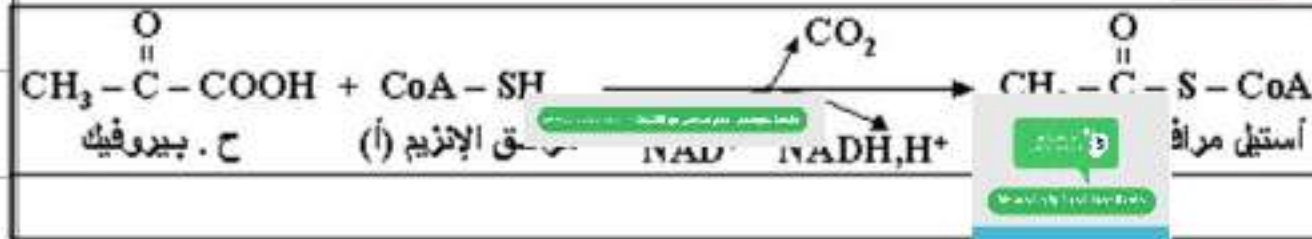
يستعمل الغلوكوز من طرف الخلية على شكل (C6-P) الذي يُهدم إلى جزئيتين من حمض (C3) خلال ظاهرة كيمو حيوية التحلل السكري (الغلوكزة)

**النشاط التعليمي 3 : تدم حمض البيروفيك (حلقة كريبس)**

### النشاط التعليمي 3 : مراحل هدم حمض البيروفيك (حلقة كربيس)

وضعية الانطلاق: يهدم حمض البيروفيك في وجود الـ  $O_2$  على مستوى المادة الأساسية للميتوكوندري وفق سلسلة من التفاعلات

المشكلة : ماهي مراحل هدم حمض البيروفيك على مستوى المادة الأساسية



البحث والتقصي:  
1- مراحل هدم حمض البيروفيك:

تعليمية: 1- استخراج مراحل هدم حمض البر



الإجابة:

## 1 مراحل هدم حمض البيروفيك في الميتوكوندري

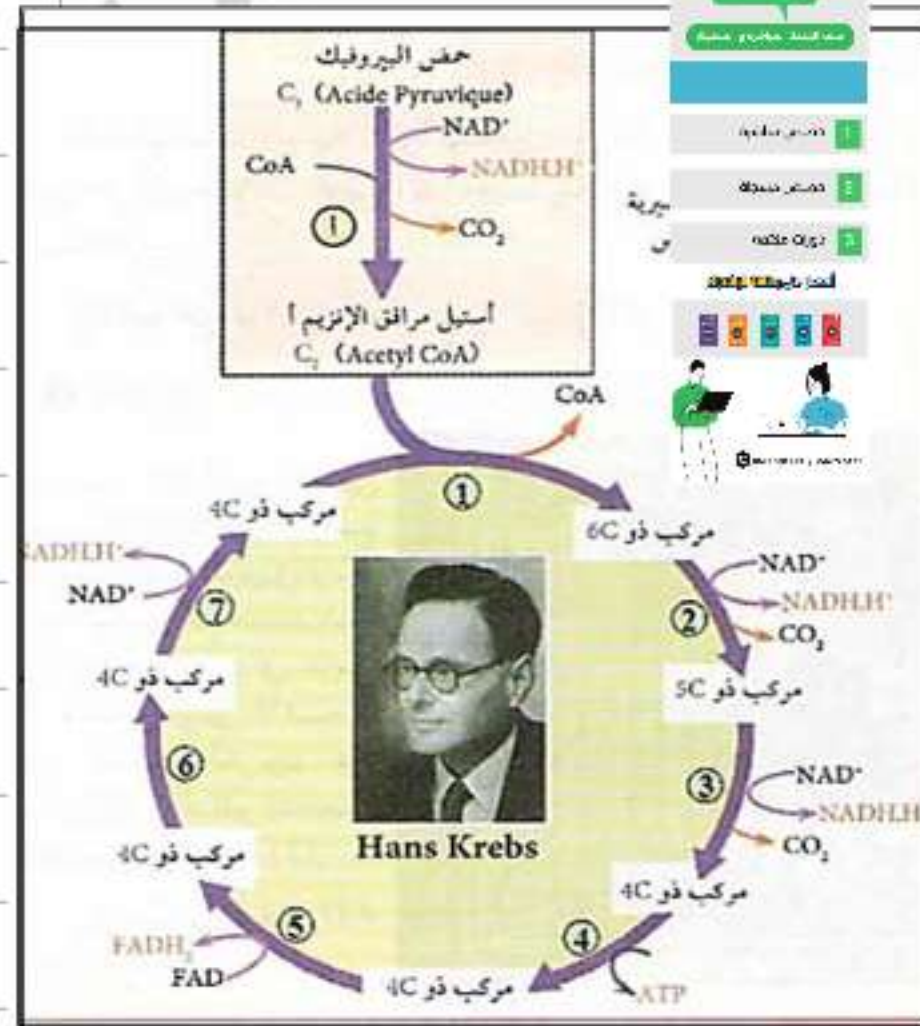
1- تحول حمض البيروفيك إلى أستيل مرافق الإنزيم (أ) يتم بواسطة معقد إنزيمي كبير يقوم بنزع الهيدروجين وثاني أكسيد الكربون.

يعتبر هذا التفاعل خطوة تحضيرية للمرحلة اللاحقة (حلقة كريبس) لذلك تدرج عادة مع حلقة كريبس

## 2- تفاعلات حلقة كريبس:

يشار كأستيل مرافق الإنزيم (أ) هذا الأخير في سلسلة من التفاعلات بشكل دورة تدعى "حلقة كريبس" وذلك بتدخل

إنزيمات نازعات الكربوكسيل والهيدروجين أو إنزيمات نازعات



التفاعل 1 : تثبيت أستيل مرافق الإنزيم (أ) على مركب رباعي الكربون.

التفاعل 2 : يتم فيه عملية نزع كربوكسيل وأكسدة وهو ما يسمى بنزع الكربوكسيل التأكسدية *décarboxylation oxidative*، إرجاع +NAD

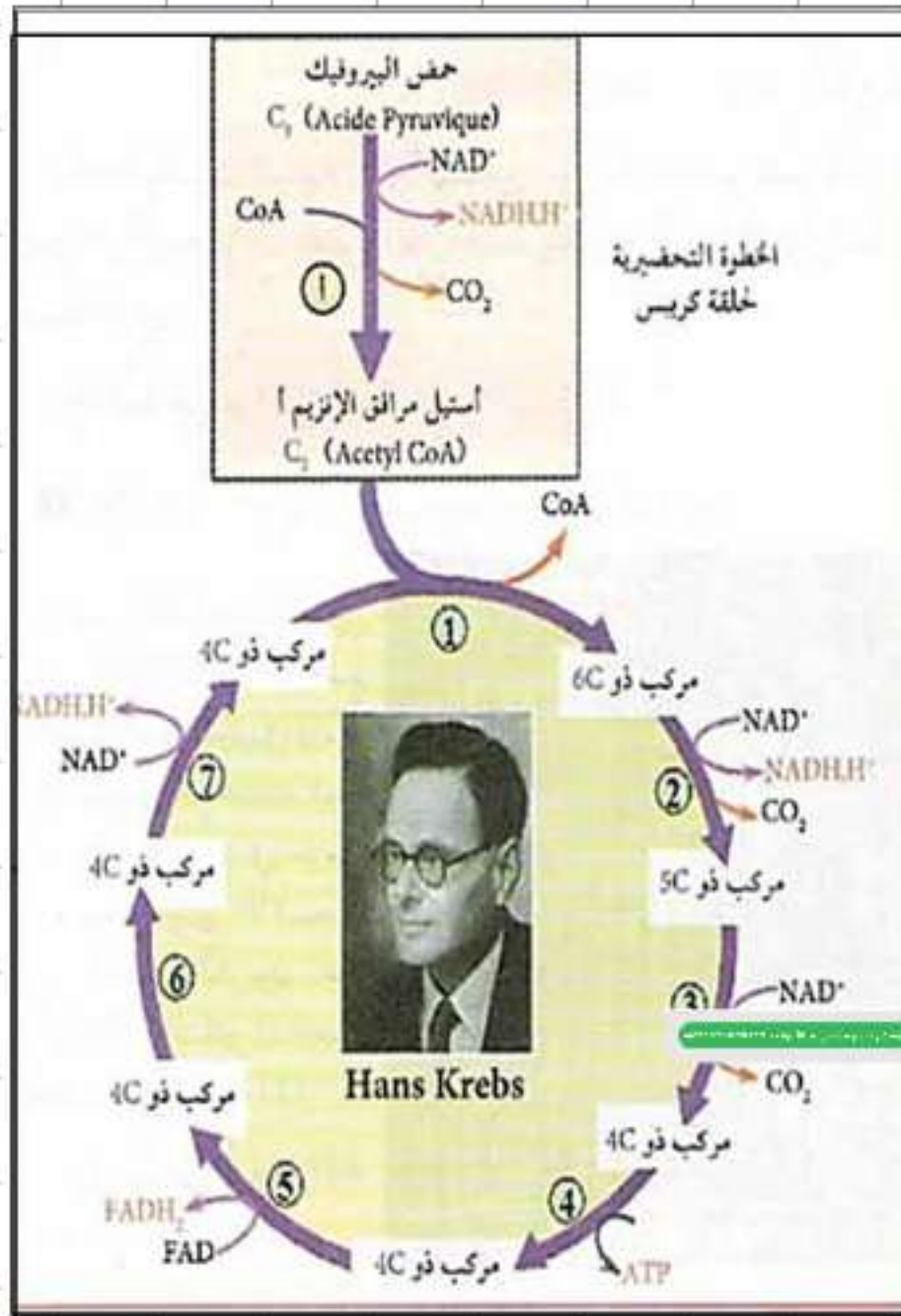
التفاعل 3 : نزع الكربوكسيل التأكسدية (أكسدة في وجود +NAD و نزع CO<sub>2</sub>)، إرجاع +NAD.

التفاعل 4 : تركيب ATP (فسفرة ADP)

التفاعل 5 : تفاعل نزع الهيدروجين (أكسدة) لمركب رباعي الكربون.

التفاعل 6 : تفاعل تماكب.

التفاعل 7 : تفاعل أكسدة لمركب رباعي الكربون وإرجاع المرافق الإنزيمي FAD.



**التفاعل 1 :** تثبيت أستيل مرافق الإنزيم (أ) على مركب رباعي الكربون.

**التفاعل 2 :** يتم فيه عملية نزع كربوكسيل وأكسدة وهو ما يسمى décarboxylation oxydative بنزع الكربوكسيل التأكسدية، ارجاع  $+NAD$

**التفاعل 3 :** نزع الكربوكسيل التأكسدية


(أكسدة في وجود  $+NAD$  و نزع  $CO_2$ )، ارجاع  $+NAD$ .

**التفاعل 4 :** تركيب ATP (فسفرة ADP)

**التفاعل 5 :** تفاعل نزع الهيدروجين (أكسدة) لمركب رباعي الكربون .

**التفاعل 6 :** تفاعل تماكب.

**التفاعل 7 :** تفاعل أكسدة لمركب رباعي المرافق الإنزيمي FAD. ارجاع



**التعليمة 2:- استنتاج الحصيلة الأولية للتسري وحلقة كريبس انطلاقا من جزيئة غلوكوز واحدة**

المرحلة	ATP	+NADH,H	FADH2	CO2
التحلل السكري	2	2	0	0
خطوة تحضيرية	0	2	0	2
حلقة كريبس	2	6	2	4
المجموع	4	10	2	6

الحصيلة الاولية للتحلل السكري وحلقة كريبس انطلاقا من جزيئة واحدة من الغلوكوز:  
الحصيلة هي : 4 ATP ، 10 جزيئات +NADH,H و جزيئين من FADH2 و 6 جزيئات من CO2 .

### خلاصة:

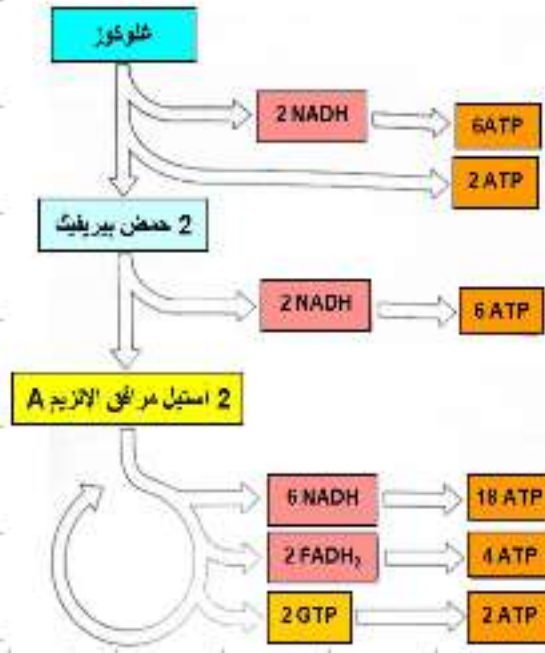
على مستوى الميتوكوندري:  
- ينفذ حمض البيروفيك إلى الميتوكوندري في وجود ثنائي الأوكسجين لينتج سلسلة من التفاعلات:  
▪ نزع ثاني أكسيد الكربون  
▪ نزع الهيدروجين  
وجملة هذه التفاعلات تشكل حلقة كريبس يتم خلالها تجديد المركب C<sub>4</sub> إلى ADE في وجود الفوسفور اللاعضوي (Pi)





## مصير النواقل المرجعة : الفسفرة التأكسدية

### la phosphorylation oxydative

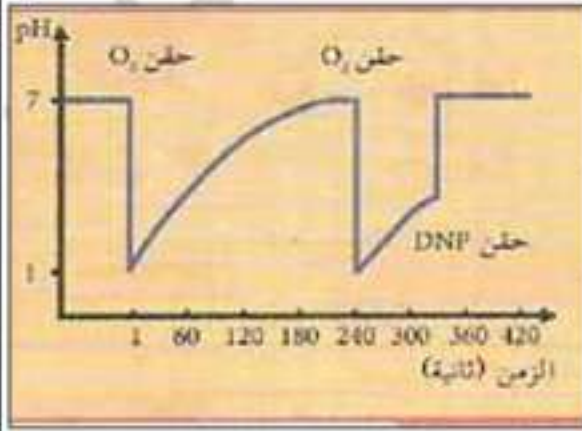
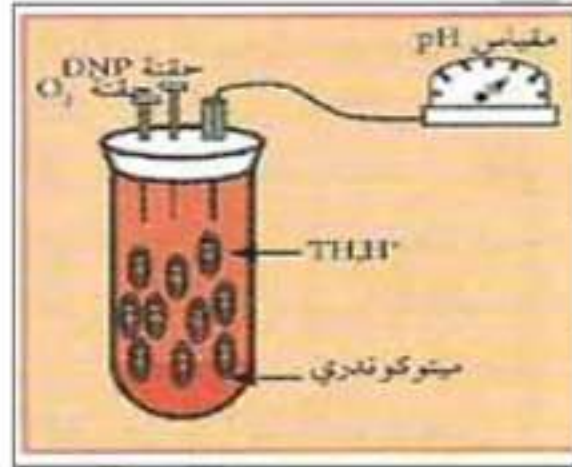


لاحظنا أن تفكيك مول من الغلوكوز ينتج عنه 10 مول  $NADH, H^+$  و 02 مول  $FADH_2$ ، فما مصير هذه النواقل المرجعة؟ و كيف يتم توفير النواقل الضرورية لإستمرار تفكيك الغلوكوز؟

الشكل المقابل يمثل بعد تخطيطية مراحل تجربة و نتائجها. فعند تجزئة الغشاء الداخلي للميتوكوندريا بالأمواج فوق الصوتية ultra-son تنغلق مقلوبة تكون فيها وضعية الكريات نحو المحيط و الأذنان نحو المركز.

هذه الحويصلات تبقى قادرة على تركيب الـ ATP؛

## النشاط التعلمي 4: الفسفرة التأكسدية



**وضعية الانطلاق:**  
إن معظم الطاقة الناتجة من مراحل عملية التنفس الخلوي السابقة تكون في صورة إلكترونات غنية بالطاقة محمولة على المرافقات الإنزيمية المرجعة  $FADH_2$  و  $NADH.H^+$  يتم استخراج هذه الطاقة وتحويلها إلى الصورة القابلة للاستعمال ATP عند أكسدة هذه المرافقات وفق تفاعلات الفسفرة التأكسدية.

**المشكلة التعلمية:** ما هو مقر تفاعلات الفسفرة التأكسدية؟

**الفرضيات:**

الغشاء الداخلي للميتوكوندري

البيحث وناقصي:

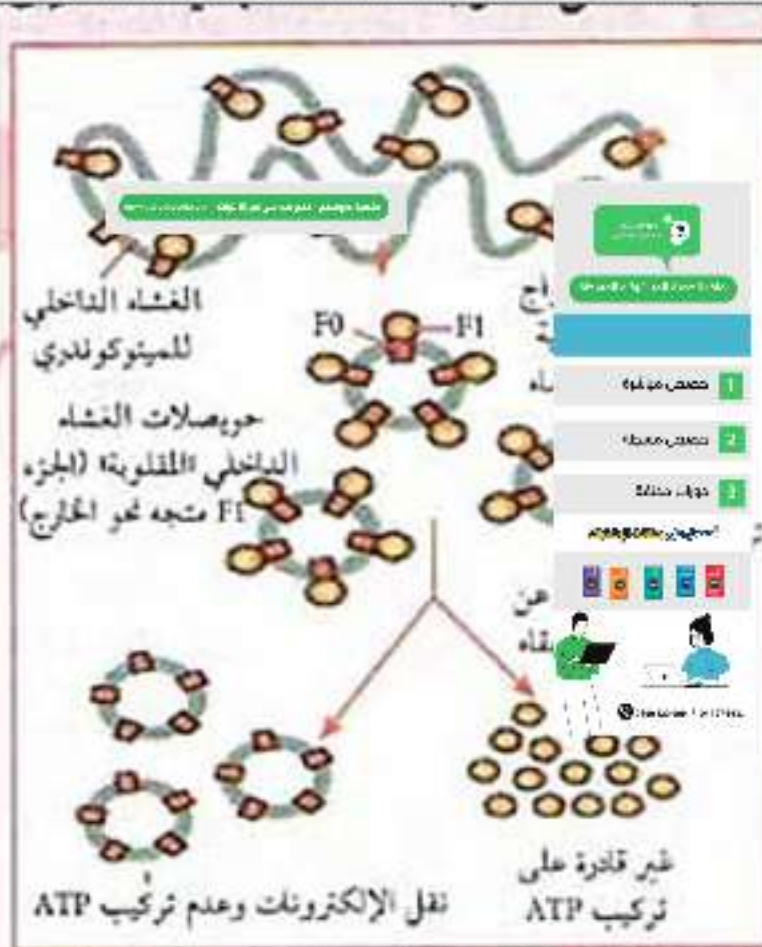
1- دور الغشاء الداخلي للميتوكوندري:

التجربة 01: الوثيقة 01/ 2015، التجربة 02: الوثيقة 02/

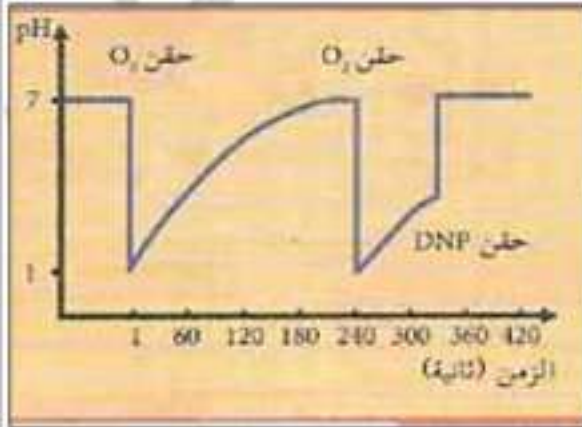
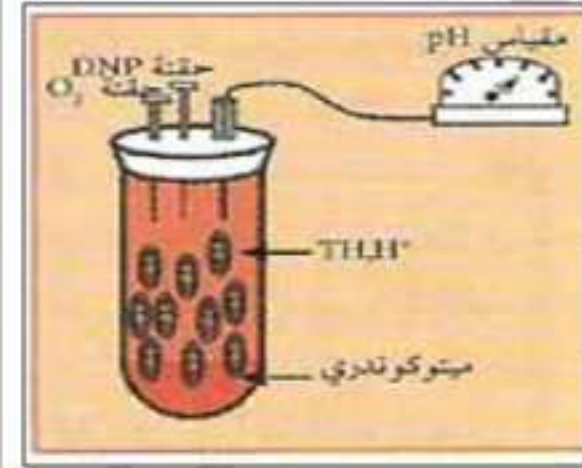
215، التجربة 03: الوثيقة 03/ 216، الوثيقة 04/ 216

التعليمة 1: أبرز دور الغشاء الداخلي للميتوكوندري في

أكسدة المرافقات الإنزيمية المرجعة وتركيب ATP



**الوثيقة (1) نتائج التجارب على الحويصلات الناتجة من الغشاء الداخلي للميتوكوندريا**



## الوثيقة 2:

يمثل تغيرات قيمة الوسط الخارجي في شروط تجريبية مختلفة:  
 قبل حقن  $O_2$  في الوسط الخارجي يكون PH الوسط ثابتا (PH=7).  
 عند إضافة  $O_2$  نلاحظ انخفاض سريع لـ pH خارج الميتوكوندري  
 (زيادة تركيز البروتونات +H) وهذا راجع إلى أكسدة  $THH$ .



ثم ترتفع قيمة PH تدريجيا (ببطء) إلى القيمة الأصلية بعد نفاذ الأكسجين  
 نتيجة عودة البروتونات تدريجيا إلى المادة الأساسية للميتوكوندري فيتناقص  
 تركيز البروتونات في الوسط الخارجي (تزايد قيمة PH).

عند حقن مادة DNP إلى انخفاض سريع في تركيز البروتونات (تزايد سريع في قيمة PH).  
 DNP يعمل على إدخال البروتونات عبر الغشاء الداخلي للميتوكوندري يتم نقل الإلكترون  
 أنن على الغشاء الداخلي للميتوكوندري يتم نقل الإلكترون

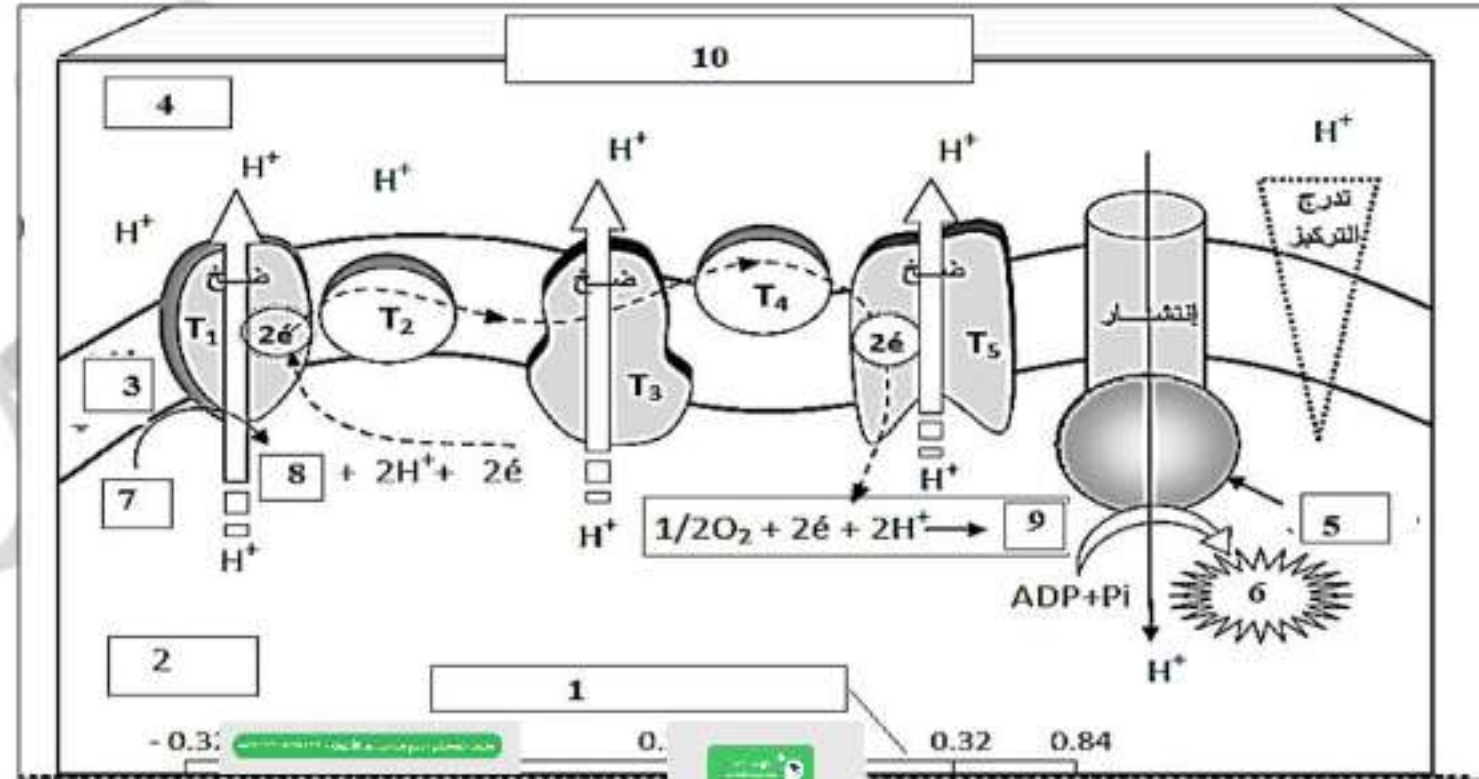
ATP وض:



## الوثيقة 3:

التجارب	PH الداخلي	PH الخار	كربات المذبذبة	الملاحظات
1	7	7	نعم	عدم فسفرة الـ ADP
2	4	7	نعم	فسفرة الـ ADP
3	4	7	لا	عدم فسفرة الـ ADP

شروط تركيب ATP: وجود فرق في تركيز +H بين الوسط الخارجي والداخلي للميتوكوندري (تركيز البروتونات مرتفع في الوسط الداخلي للحوصلة المقلوقة).  
 وجود الكرية المذبذبة (إنزيم ATP Synthase).  
 توفر  $ADP+P_i$



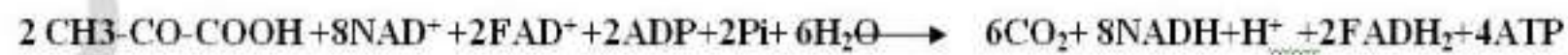
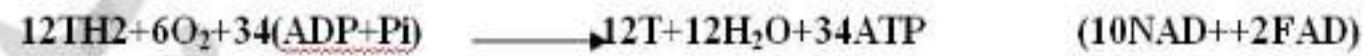
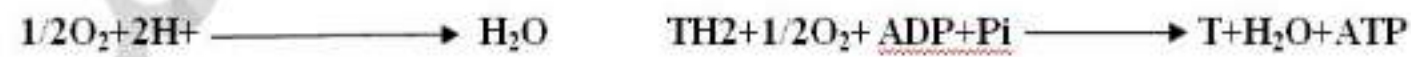
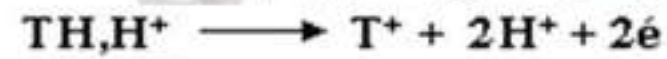
على مستوى عرف الميتوكوندريا تخضع  
 . تتأكسد هذه النواقل محررة إلكترونات  
 . تنتقل هذه الإلكترونات عبر نواة  
 الهواء ، حيث تسمح تلك التفاعلات  
 الغشائية ، فيرتفع تركيزها فيه على  
 . يؤدي فرق التركيز في البروتونات  
 حسب التدرج في التركيز محررة ط  
 بين التحولات التالية :  
 $T + H^+ \rightarrow T^+ + 2H^+ + 2e^-$   
 لكمون الأكسدة والإرجاع المتزايد حتى استقبالها نهائيا من  
 يونات من المادة الأساسية نحو الفراغ بين  $O_2$  قبل ال  
 الأساسية.  
 عبر الكرات المذبذبة من الفراغ بين الغشائين إلى الحشوة  
 سيط إنزيم تر ATP Synthase  
 $ADP + Pi + E \rightarrow ATP$

ومنه على مستوى الغشاء الداخلي تسمح تفاعلات الأكسدة و الإرجاع التي تتم على طول السلسلة  
 التنفسية بضخ البروتونات من المادة الأساسية نحو الفراغ بين الغشائين مولدا بذلك تدرجا للبروتونات  
 في هذا المستوى.  
 - تسمح الطاقة المتحررة من سيل البروتونات بفسفرة ADP إلى ATP في وجود الفوسفات  
 اللاعضوي (Pi) في مستوى الكرات المذبذبة إنها الفسفرة التأكسدية.  
 التعليم 2:- أحسب الحصيلة الطاقوية القابلة للاستعمال (عدد الـ ATP) الناتجة من هدم جزيئة غلوكوز  
 مع العلم أن الطاقة المتحررة من أكسدة  $NADH.H^+$  تعادل 3ATP أما الـ  $FADH_2$  فتعادل 2ATP

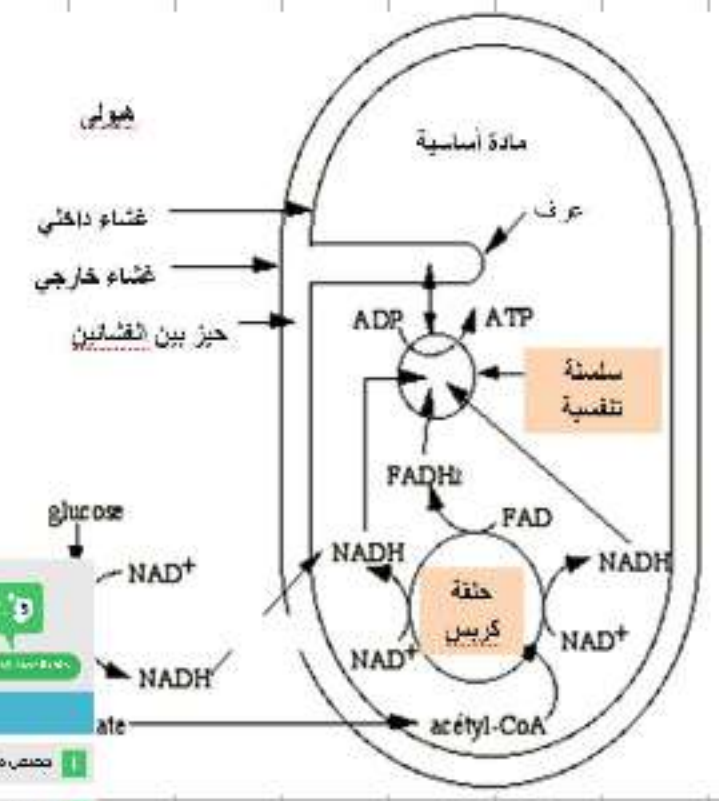
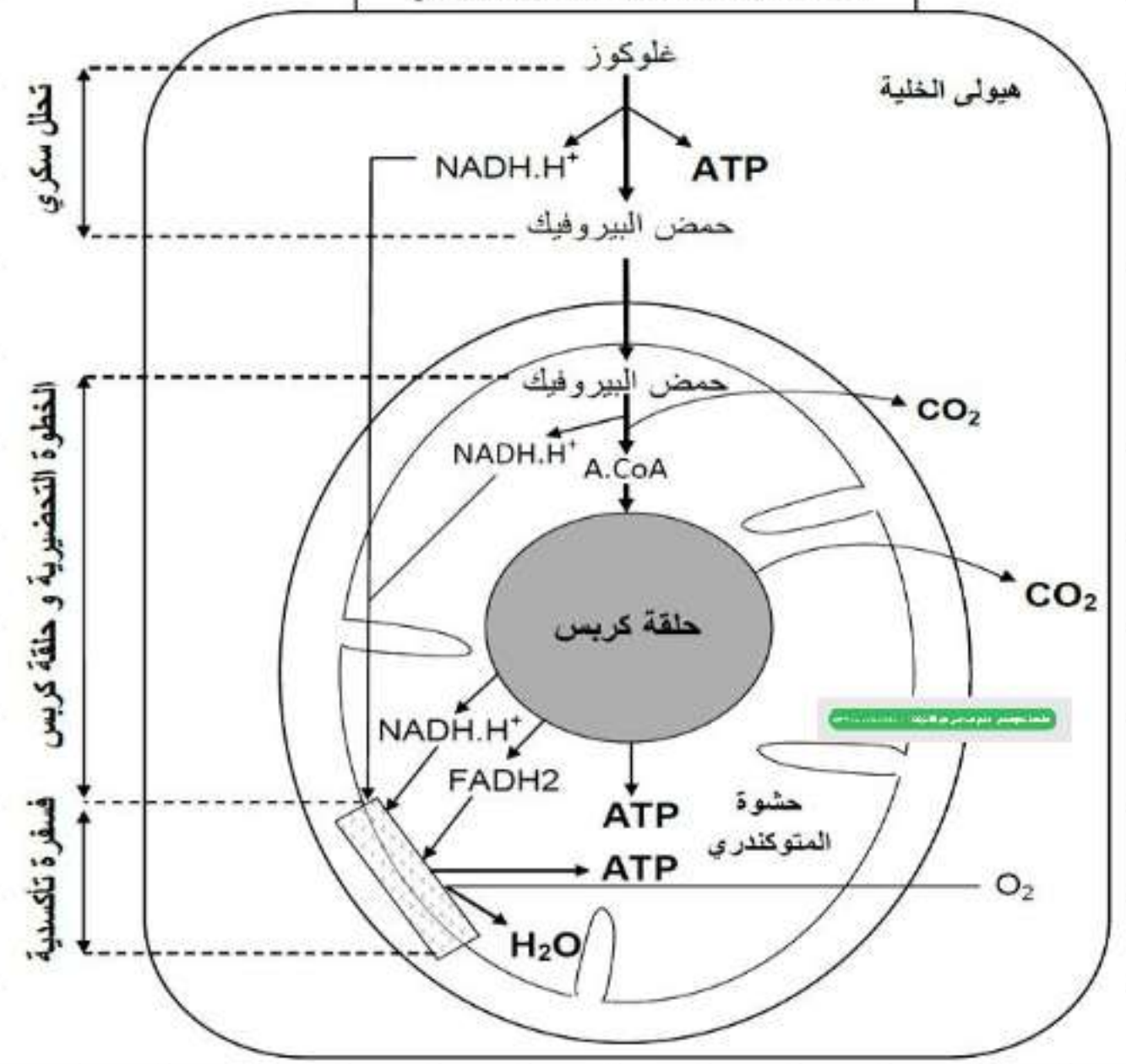
$$\begin{aligned}
 \cdot \text{ATP } 30 &= (\text{ATP } 3 = \text{NADH}_2 \text{ كل } 1) \times 3 \times 10 = \text{NADH}_2 (10) - \\
 \cdot \text{ATP } 4 &= (\text{ATP } 2 = \text{FADH}_2 \text{ كل } 1) \times 2 \times 2 = \text{FADH}_2 (2) - \\
 \cdot \text{ATP } (4) &-
 \end{aligned}$$

إن : الحصيلة الطاقةية الناتجة من هدم جزيئة غلوكوز هي 38 جزيئة ATP .  
حوصلة:

1- انطلاقا من معادلات مراحل هدم الغلوكوز في الوسط الهوائي لخص عملية التنفس بمعادلة إجمالية



## مخطط مراحل عملية التنفس الهوائي



glucose

NAD<sup>+</sup>

NADH

ate

acetyl-CoA

1. تحضير مادة

2. تحضير مادة

3. دورة كريبس

4. سلسلة تنفسية

5. سلسلة تنفسية

6. سلسلة تنفسية

7. سلسلة تنفسية

8. سلسلة تنفسية

9. سلسلة تنفسية

10. سلسلة تنفسية

11. سلسلة تنفسية

12. سلسلة تنفسية

13. سلسلة تنفسية

14. سلسلة تنفسية

15. سلسلة تنفسية

16. سلسلة تنفسية

17. سلسلة تنفسية

18. سلسلة تنفسية

19. سلسلة تنفسية

20. سلسلة تنفسية

21. سلسلة تنفسية

22. سلسلة تنفسية

23. سلسلة تنفسية

24. سلسلة تنفسية

25. سلسلة تنفسية

26. سلسلة تنفسية

27. سلسلة تنفسية

28. سلسلة تنفسية

29. سلسلة تنفسية

30. سلسلة تنفسية

31. سلسلة تنفسية

32. سلسلة تنفسية

33. سلسلة تنفسية

34. سلسلة تنفسية

35. سلسلة تنفسية

36. سلسلة تنفسية

37. سلسلة تنفسية

38. سلسلة تنفسية

39. سلسلة تنفسية

40. سلسلة تنفسية

41. سلسلة تنفسية

42. سلسلة تنفسية

43. سلسلة تنفسية

44. سلسلة تنفسية

45. سلسلة تنفسية

46. سلسلة تنفسية

47. سلسلة تنفسية

48. سلسلة تنفسية

49. سلسلة تنفسية

50. سلسلة تنفسية

51. سلسلة تنفسية

52. سلسلة تنفسية

53. سلسلة تنفسية

54. سلسلة تنفسية

55. سلسلة تنفسية

56. سلسلة تنفسية

57. سلسلة تنفسية

58. سلسلة تنفسية

59. سلسلة تنفسية

60. سلسلة تنفسية

61. سلسلة تنفسية

62. سلسلة تنفسية

63. سلسلة تنفسية

64. سلسلة تنفسية

65. سلسلة تنفسية

66. سلسلة تنفسية

67. سلسلة تنفسية

68. سلسلة تنفسية

69. سلسلة تنفسية

70. سلسلة تنفسية

71. سلسلة تنفسية

72. سلسلة تنفسية

73. سلسلة تنفسية

74. سلسلة تنفسية

75. سلسلة تنفسية

76. سلسلة تنفسية

77. سلسلة تنفسية

78. سلسلة تنفسية

79. سلسلة تنفسية

80. سلسلة تنفسية

81. سلسلة تنفسية

82. سلسلة تنفسية

83. سلسلة تنفسية

84. سلسلة تنفسية

85. سلسلة تنفسية

86. سلسلة تنفسية

87. سلسلة تنفسية

88. سلسلة تنفسية

89. سلسلة تنفسية

90. سلسلة تنفسية

91. سلسلة تنفسية

92. سلسلة تنفسية

93. سلسلة تنفسية

94. سلسلة تنفسية

95. سلسلة تنفسية

96. سلسلة تنفسية

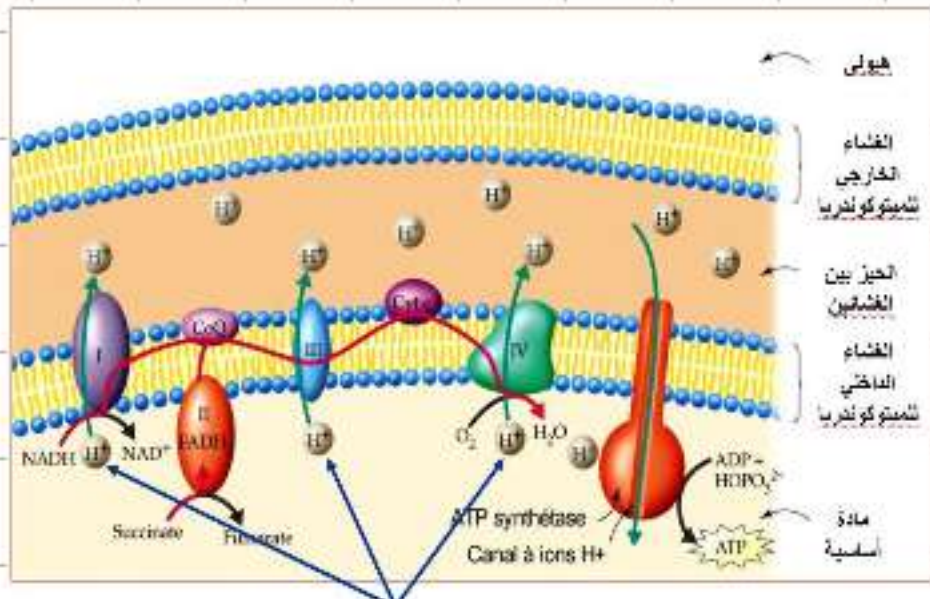
97. سلسلة تنفسية

98. سلسلة تنفسية

99. سلسلة تنفسية

100. سلسلة تنفسية

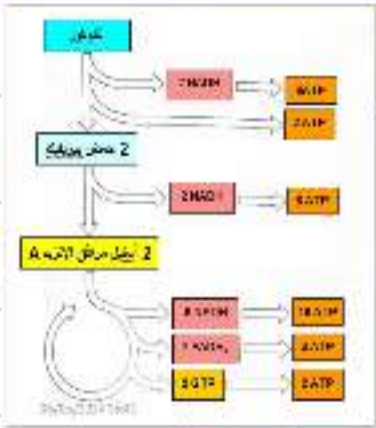




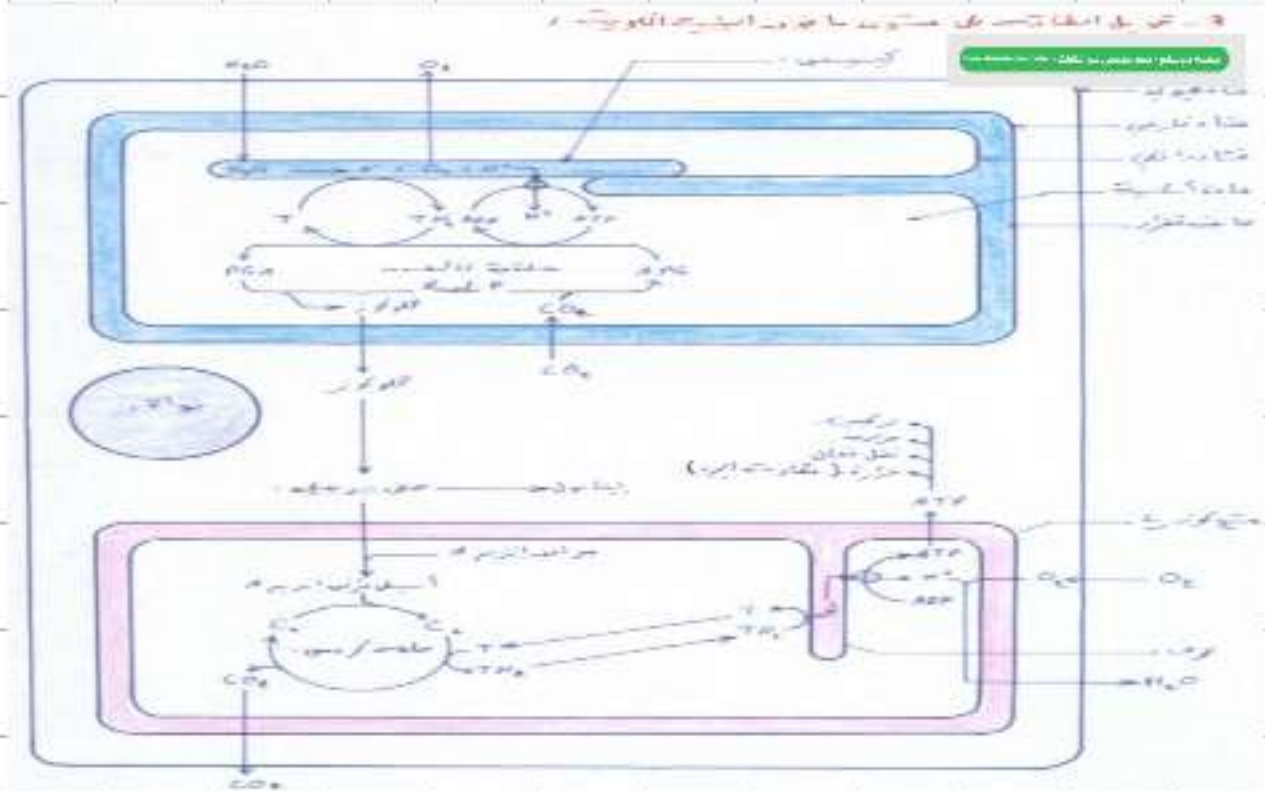
الطاقة الناتجة عن الإلكترونات المنقولة تدفق في ضخ بروتون  $H^+$  في الحيز بين الغشائين.

### الحصيلة الطاقوية لأكسدة مول من الغلوكوز :

#### حصيلة حلقه كريبس



كم ينتج أكسدة سكر العنب إلى  $2 CO_2$   
الأكسدة التامة لسكر العنب تعطي 38 ATP  
تحويل طاقة  $NADH, H^+$  و  $FADH_2$  إلى ATP يتم بعملية تسمى التأكسدية phosphorylation oxydative «



الموسم التعليمي 2020-2021  
الدرس رقم 2  
الطاقة  
1  
2  
3

مصدر: [www.youtube.com/watch?v=...](https://www.youtube.com/watch?v=...)