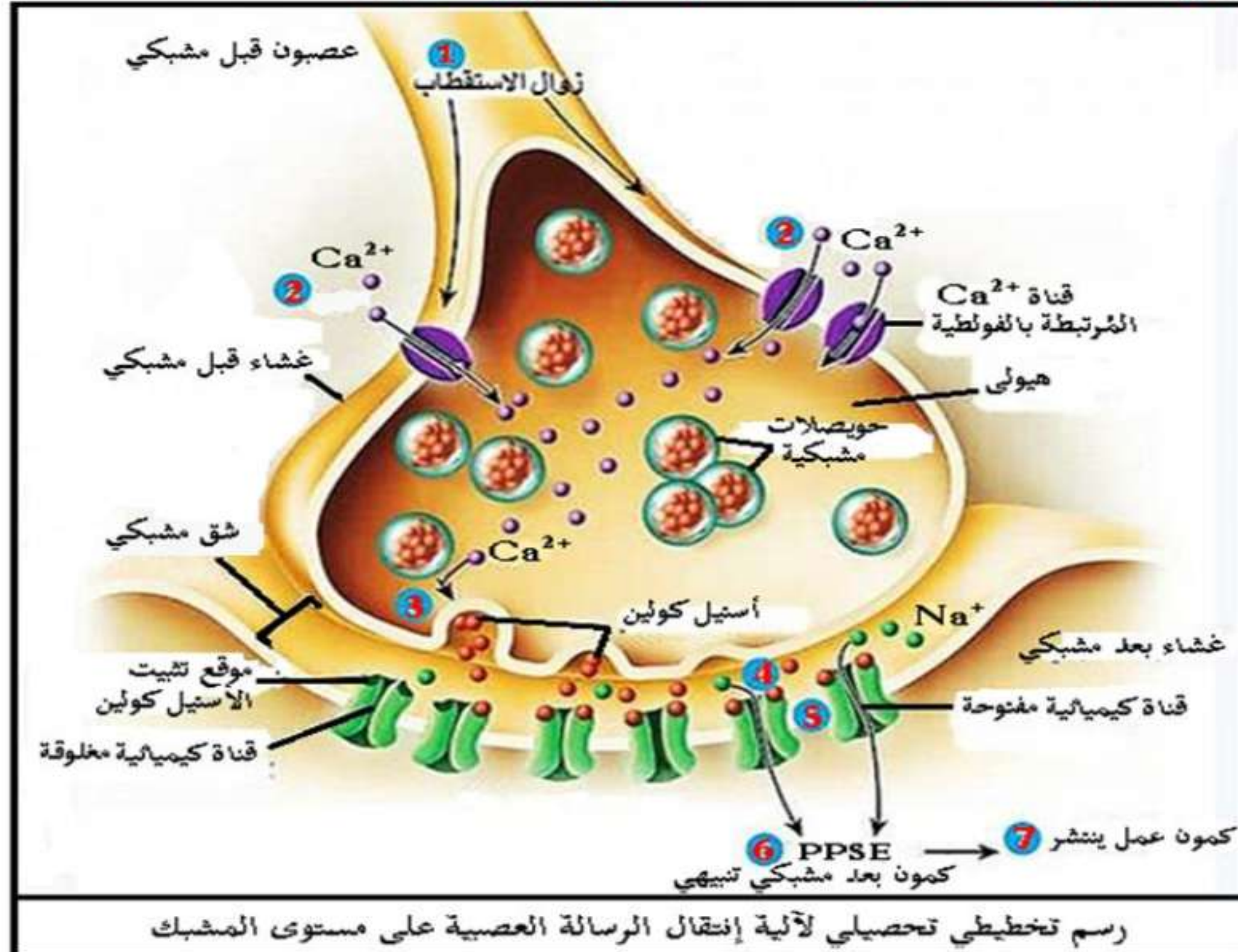


1. أنجز رسماً تخطيطياً تحصيلياً لآلية انتقال الرسالة العصبية على مستوى المشبك.
2. بين في نص علمي آلية انتقال الرسالة العصبية على مستوى المشبك.

الإجابة:

1. إنجاز رسم تخطيطي تحصيلي لآلية انتقال الرسالة العصبية على مستوى المشبك:



ملف الحصة المباشرة و المسجلة

1 حصص مباشرة

2 حصص مسجلة

3 دورات مكثفة

أحصل على بطاقة الإشتراك

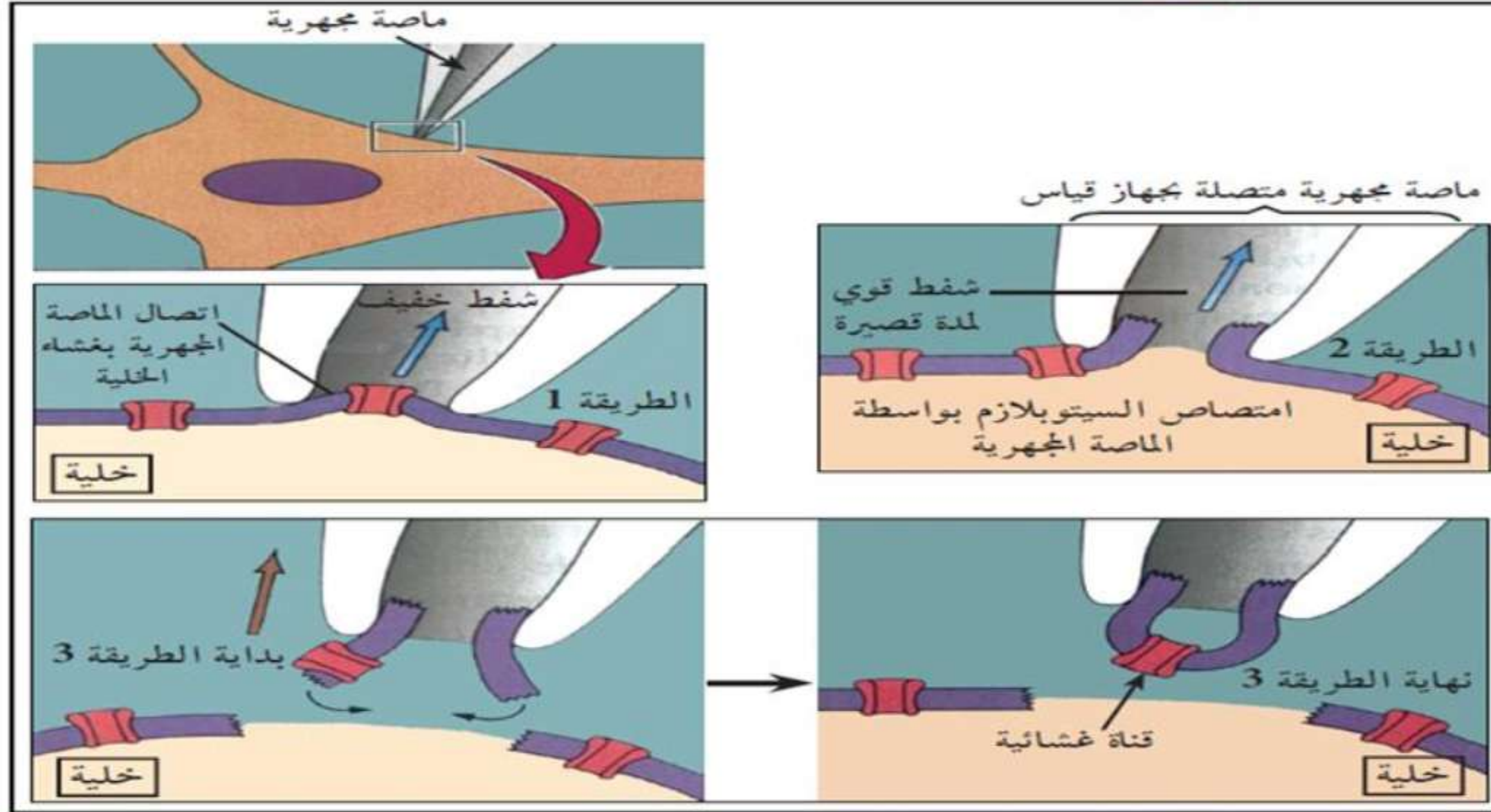


1 حصص مباشرة

2 حصص مسجلة

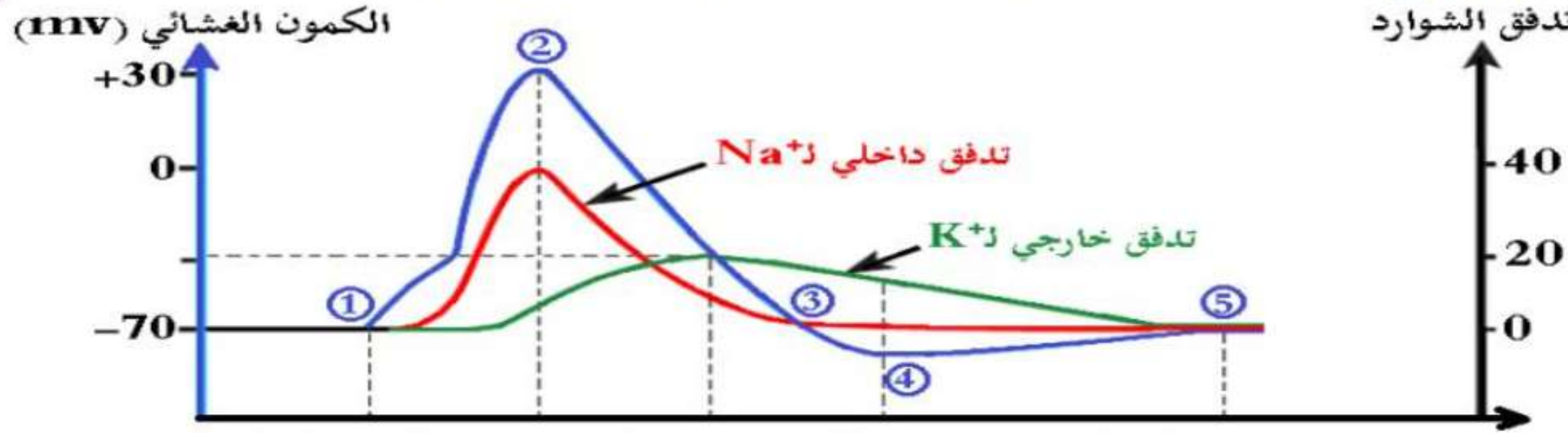
3 دورات مكثفة

أحصل على بطاقة الإشتراك





تمثل الوثيقة (3) العلاقة بين الظواهر الكهربائية المسجلة خلال كمن العمل وعمل القنوات الفولطية.



قنوات فولطية خاصة بـ Na^+



قنوات فولطية خاصة بـ K^+



الوثيقة (3)

التعليمة:

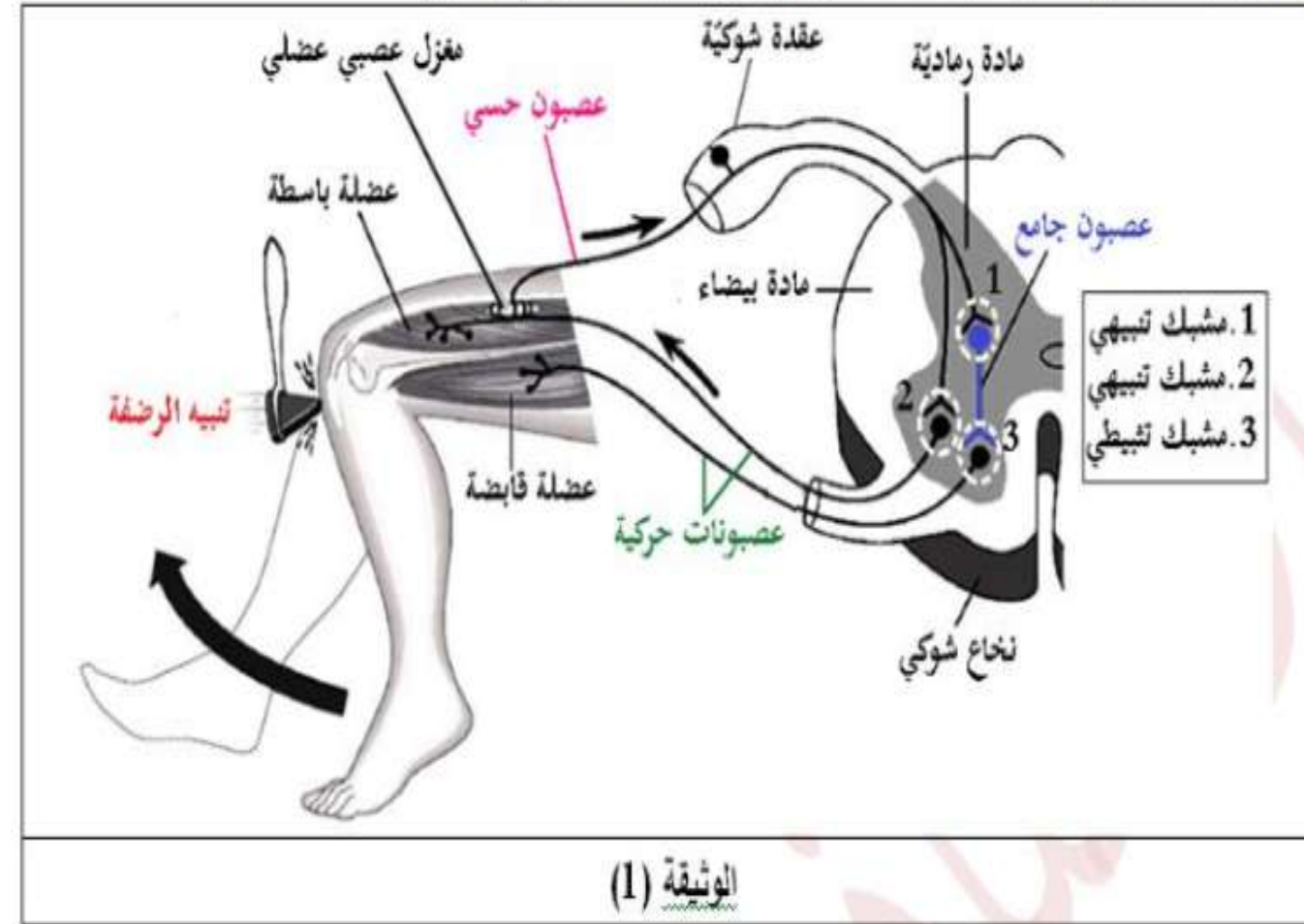
- أبرز دور البروتينات في توليد كمن العمل بإستغلالك للوثيقتين (2) و (3).



4- الإدماج العصبي

وضعية الإنطلاق: (التذكير بالمكتسبات)

تمثل الوثيقة (1) رسم تخطيطي لمسار الرسالة العصبية في المنعكس العضلي (الرضفي).



الوثيقة (1)

التعليمة:

- حدّد دور العصبون الجامع أثناء منعكس عضلي إعتماذًا على مكتسباتك من السنة 2 ثانوي والوثيقة (1).

الإجابة:

دور العصبون الجامع: هو تثبيط مرور الرسالة العصبية إلى العصبون الحركي للعضلة القابضة للساق مما يسمح بالتنسيق في عمل العضلات المتضادة حيث تنقلص العضلة الباسطة التي نُبّه ونرّها وتسترخي العضلة القابضة (في حالة المنعكس الرضفي).

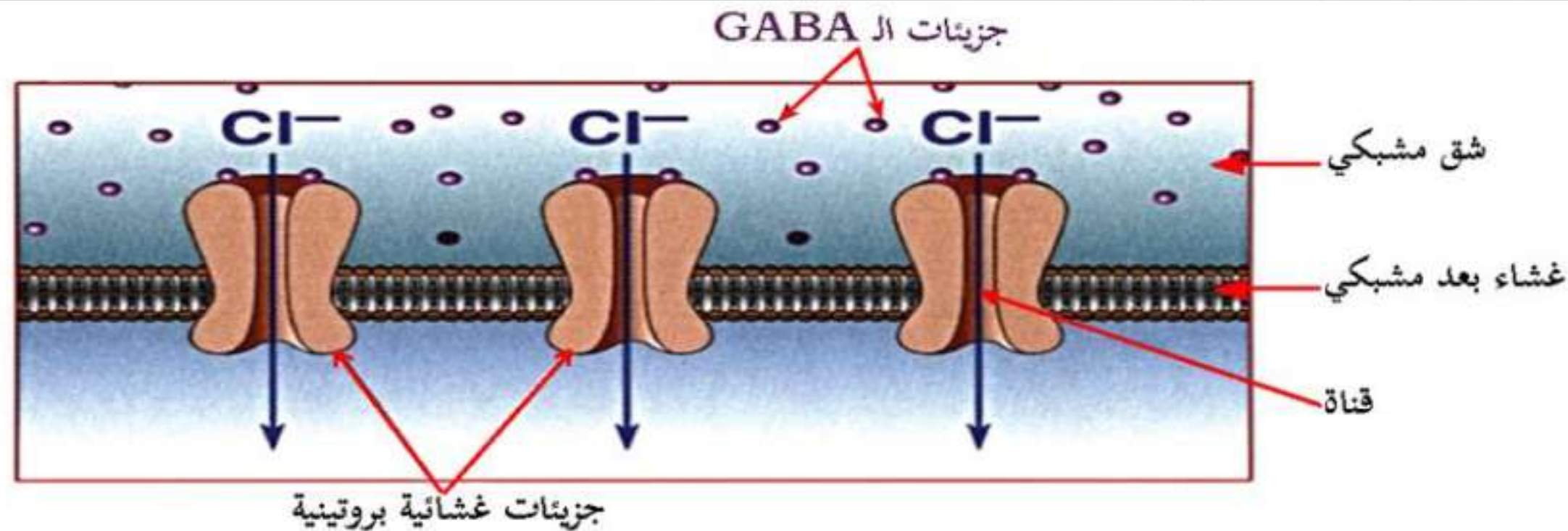
المشكلة: ما هي آلية الإدماج العصبي (كيف يُدمج العصبون بعد مشبكي مختلف الكمونات التي ترد إليه)؟

كما سمحت نتائج التحليل الكيميائي للشق المشبكي للمشبك 2 من الحصول على الوثيقة (3).

نتائج التحليل الكيميائي للشق المشبكي للمشبك 2	أثناء الراحة	بعد تنبيه فعال للنهاية العصبية I
GABA ال	-	+++
تركيز شوارد الكلور Cl^-	+++	+

الوثيقة (3)

تمثل الوثيقة (4) رسم تخطيطي لجزء من الغشاء بعد المشبكي للمشبك 2.



الوثيقة (4)

التعليمية:

- بيّن آلية عمل المشابك التثبيطية وذلك بإستغلالك للوثائق (2)، (3) و (4).

1 حصص مباشرة

2 حصص مسجلة

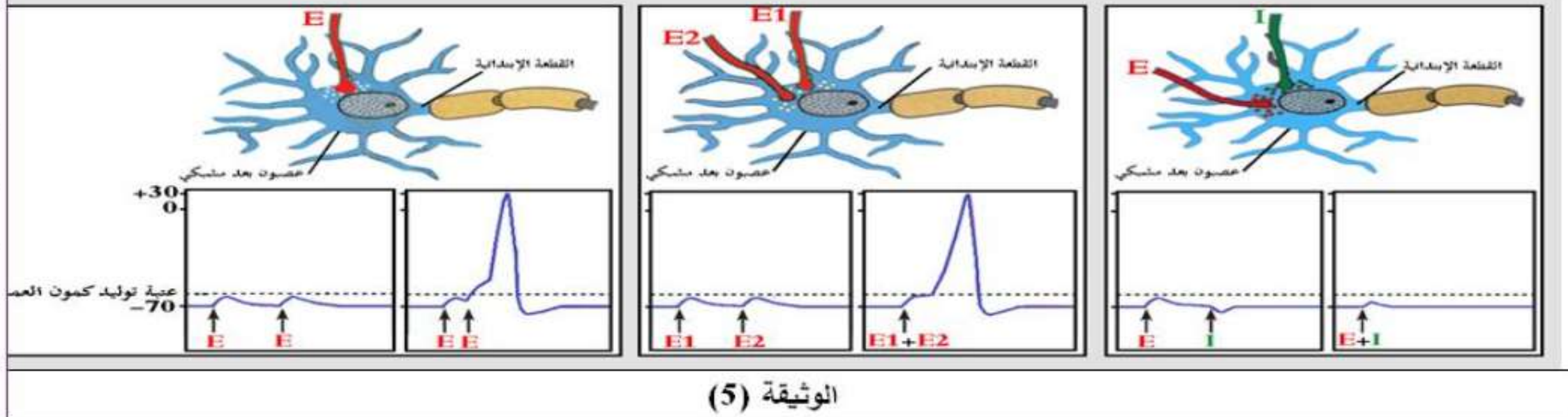
3 دورات مكثفة

أحصل على بطاقة الإشتراك



2. آلية إدماج المعلومة العصبية على مستوى العصبون بعد مشبكي:

لإستخراج آلية إدماج المعلومة العصبية على مستوى العصبون بعد مشبكي، تُقترح عليك الدراسات التالية:
تمثل الوثيقة (5) تسجيلات تم الحصول عليها على مستوى القطعة الابتدائية SI للعصبون المحرك بعد مشبكي إثر تنبيه نهايات عصبية قبل مشبكية.



التعليمية:

- يبيّن كيف يعمل العصبون المحرك على دمج الكمونات الواردة إليه (آلية الإدماج العصبي) وذلك بإستغلالك للوثيقة (5).

1 حصص مباشرة

2 حصص مسجلة

3 دورات مكثفة

أحصل على بطاقة الإشتراك

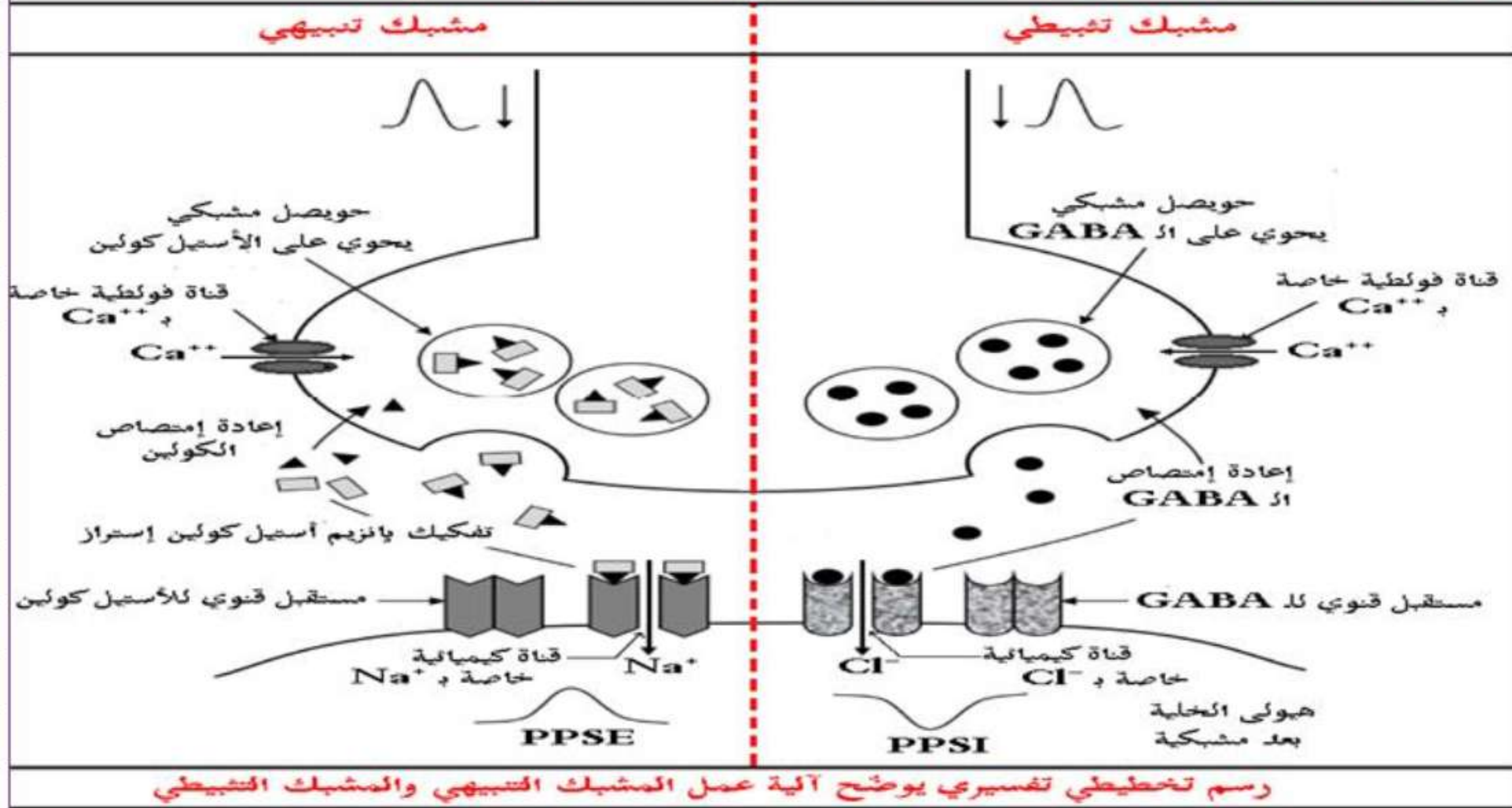




الخلاصة:

- ❖ يمكن أن يُترجم تأثير المبلغ العصبي على الغشاء بعد مشبكي Ca^{2+} :
- ~ زوال إستقطاب الغشاء بعد مشبكي الذي يتسبب في ظهور كمون بعد مشبكي تنبهي (PPSE)، مشبك تنبهي.
- ~ فرط في إستقطاب الغشاء بعد مشبكي الذي يتسبب في ظهور كمون بعد مشبكي تثبيطي (PPSI)، مشبك تثبيطي.
- ❖ مستقبلات قنوية التي تُنشط بالـ GABA لها وظيفة تثبيطية.
- ❖ يسمح إنفتاح هذه المستقبلات القنوية بدخول Cl^{-} للخلية بعد مشبكية مُحدثة فرطاً في إستقطاب الغشاء.
- آلية إدماج المعلومة العصبية على مستوى العصبون بعد المشبكي:
- ❖ يُدمج العصبون بعد مشبكي مختلف الكمونات بعد مشبكية وذلك بعملية تجميع يكون:
- ~ إمّا تجميع فضائي، إذا كانت الكمونات قبل مشبكية مصدرها مجموعة من النهايات العصبية والتي تصل في الوقت نفسه بمشبك العصبون بعد المشبكي.
- ~ إمّا تجميع زمني، إذا وصلت مجموعة من كمونات العمل المتقاربة من نفس الليف قبل مشبكي.
- ❖ نتحصّل على زوال إستقطاب الغشاء بعد مشبكي بمعنى تولّد كمون عمل في العنصر بعد مشبكي، إذا بلغ مجمل الكمونات التنبهية والتثبيطية عتبة توليد كمون العمل، وعلى عكس ذلك يبقى العصبون في حالة راحة.

2. إنجاز رسم تخطيطي تفسيري يوضح آلية عمل المشبك التنبيهي والمشبك التثبيطي:



ملف الحصة المباشرة و المسجلة

1 حصص مباشرة

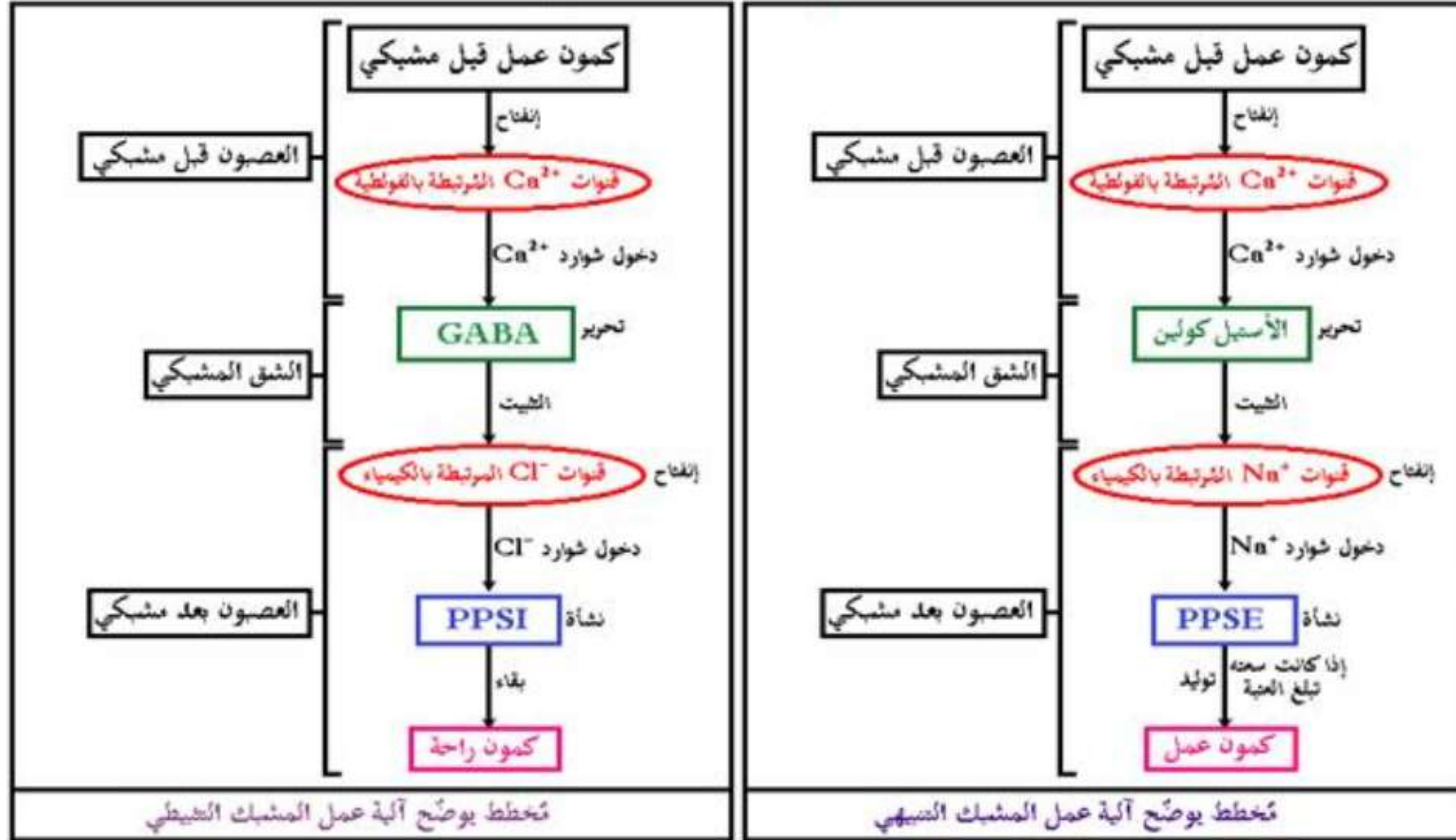
2 حصص مسجلة

3 دورات مكثفة

أحصل على بطاقة الإشتراك



3. إنجاز مخطط تفسيري يوضح آلية عمل المشبك التثبيطي والمشبك التثبيطي:



ملف الحصة المباشرة و المسجلة

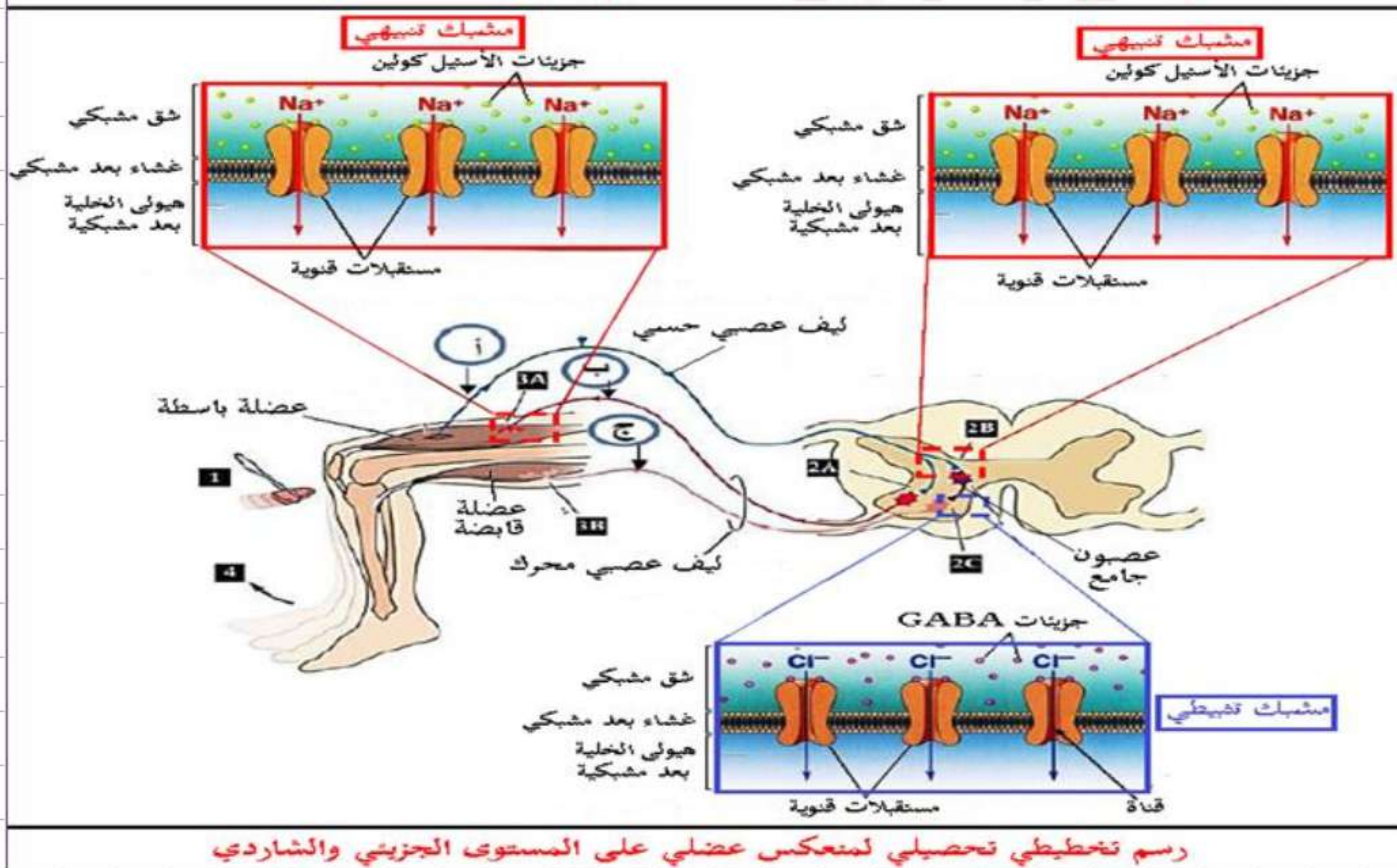
1 حصص مباشرة

2 حصص مسجلة

3 دورات مكثفة

أحصل على بطاقة الإشتراك

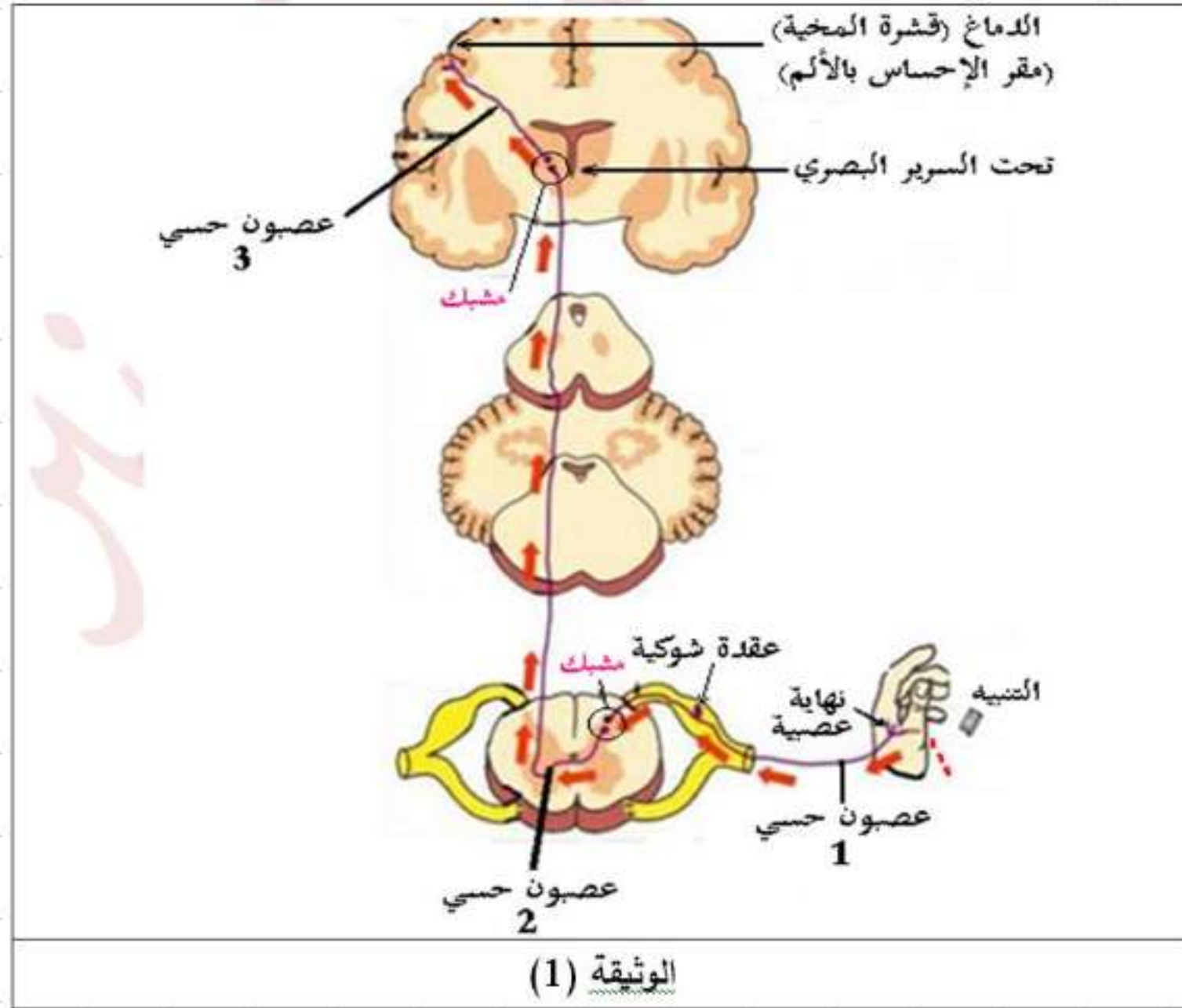




5- تأثير المخدرات

وضعية الإنطلاق: (التذكير بالمكتسبات)

تتدخل المراكز العصبية (القشرة المخية) في مختلف الإحساسات التي نشعر بها (مثل: التغير في درجة الحرارة، اللمس، الألم،...) حيث تلعب المشابك دورًا هامًا في إيصال هذه الإحساسات. تمثل الوثيقة (1) الطريق العصبي المسؤول عن نقل الإحساس بالألم.



إلا أنّ جزيئات كيميائية خارجية مثل **المخدرات** تتدخل في مستوى هذه المشابك لتحدث خللاً في عملها.

المشكلة: كيف تؤثر المخدرات في مستوى المشابك؟

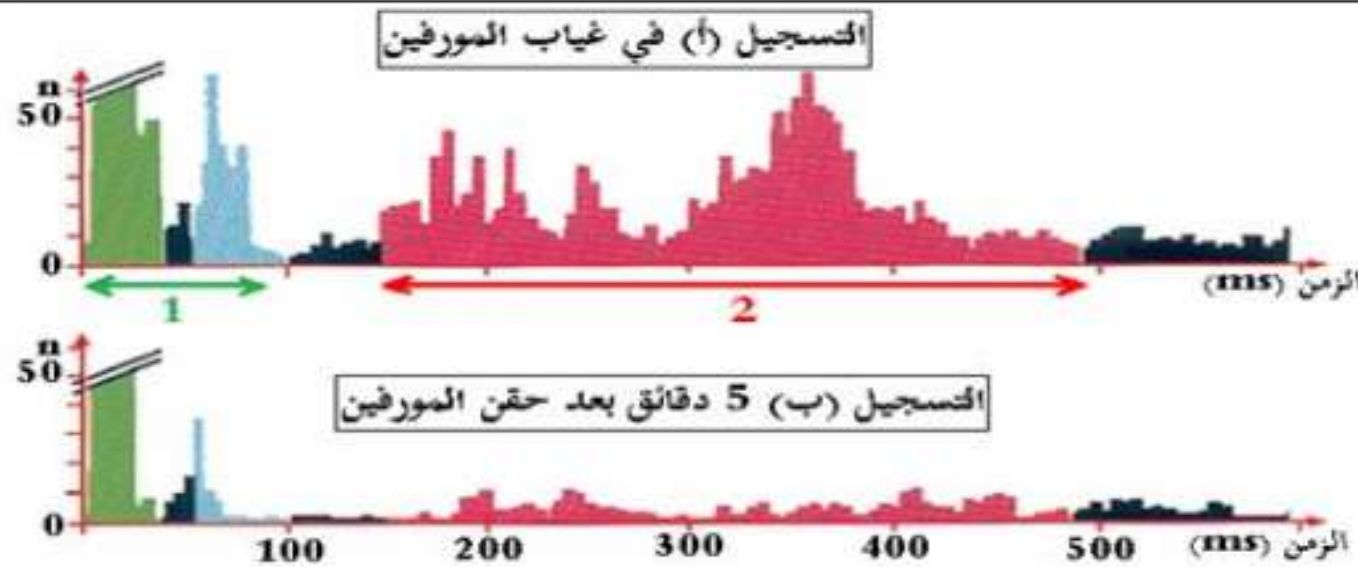


1. آلية تأثير المورفين على عمل المشبك:

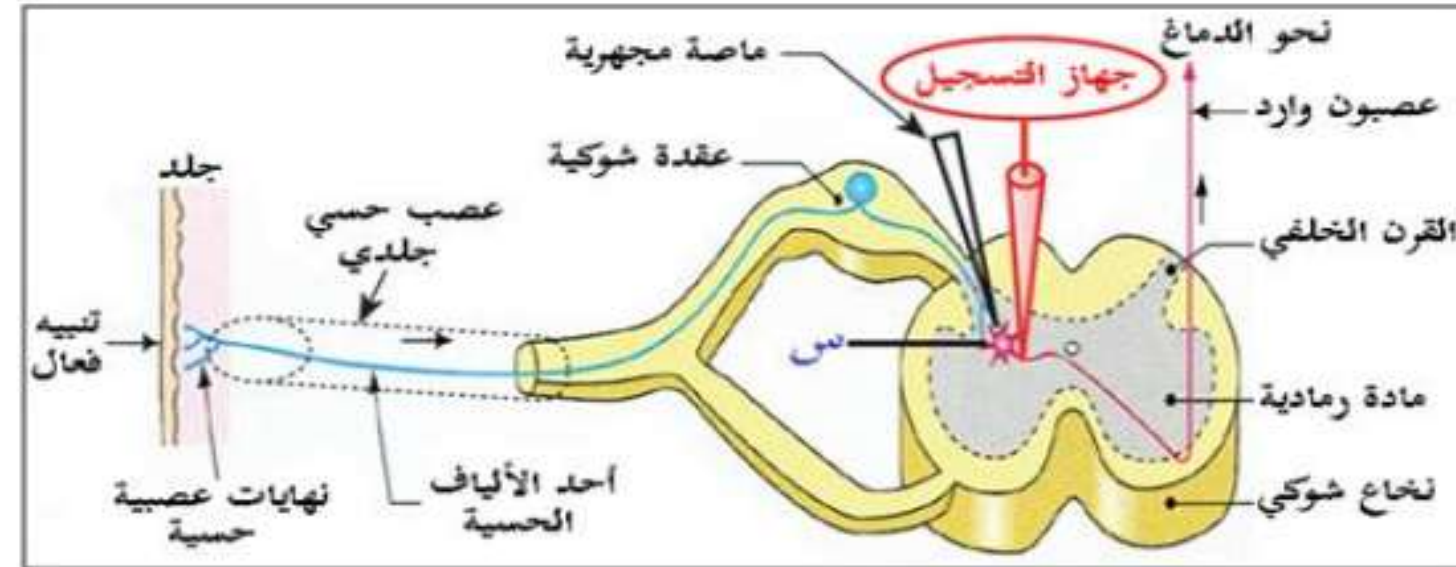
لإستخراج تأثير المورفين على عمل المشبك وآلية تأثيره، تُقترح عليك الدراسات التالية:

تمثل الوثيقة (2) رسمًا تخطيطيًا للتركيب التجريبي الذي يسمح بدراسة العناصر المتدخلة في الإحساس بالألم إلى جانب نتائج تجريبية متحصل عليها على مستوى العصبون الوارد إلى الدماغ، بحيث:

- التسجيل (أ): تم الحصول عليه بعد تنبيه قوي في الجلد أدى إلى إحساس بالألم خاطف متبوع بالألم متأخر ولفترة أطول.
- التسجيل (ب): تم الحصول عليه بعد نفس التنبيه السابق لكن بعد حقن مادة المورفين في المنطقة (س).



n: عدد كمونات العمل المسجلة في العصبونات الواردة إلى الدماغ.
 الألوان الخضراء، الزرقاء، والحمراء: تسجيلات في العصبون الوارد بعد وصول الرسالة العصبية إليه من مختلف الألياف العصبية للعصب الحسي الجلدي.
 اللون الأسود: النشاط التلقائي العادي للعصبون الوارد.
 1: التسجيلات المسؤولة عن الألم الخاطف.
 2: التسجيلات المسؤولة عن الألم المتأخر.



الوثيقة (2)

دورسكم
منصة التعليم الإلكتروني

ملف الحصة المباشرة و المسجلة

1 حصص مباشرة

2 حصص مسجلة

3 دورات مكثفة

أحصل على بطاقة الإشتراك





تمثل الوثيقة (3) رسماً تخطيطياً للبنيات المتواجدة على مستوى المنطقة (س) من الوثيقة (2) إلى جانب نتائج تجريبية لتبويضات أجريت على مختلف الألياف العصبية.

التجربة	النتيجة	التحليل الكيميائي في مستوى المشبك	النتيجة
1	تنبيه كهربائي في الألياف 1	ارتفاع تركيز المادة P في الشق المشبكي للمشبك (3-1)	الإحساس بالألم
2	تنبيه كهربائي في الألياف 2 وفي الألياف 1	ارتفاع تركيز الأنكيفالين في الشق المشبكي للمشبك (1-2) وانخفاض تركيز المادة P في الشق المشبكي للمشبك (3-1)	عدم الإحساس بالألم
3	حقن المورفين في الشق المشبكي للمشبك (1-2) + تنبيه كهربائي في الألياف 1	انخفاض تركيز المادة P في الشق المشبكي للمشبك (3-1)	عدم الإحساس بالألم

الوثيقة (3)

سمحت نتائج تجريبية تم فيها حقن حيوانات مخبرية بالمورفين المشع ثم إنجاز مقاطع عرضية على مستوى النخاع الشوكي وتعامل بتقنية التصوير الإشعاعي الذاتي حيث شدة اللون تدل على شدة تمركز الإشعاع من الحصول على الشكل (أ) من الوثيقة (4)، بينما الشكل (ب) من نفس الوثيقة فيمثل صور تركيبية للشكل الفراغي لكل من جزيئة المورفين وجزيئة الأنكيفالين وطريقة إرتباطهما على مستوى الغشاء بعد مشبكي في المشبك (1-2).

<p>جزيئة المورفين</p>	<p>جزيئة الأنكيفالين</p>	<p>مستقبل عشماني (بروتيني)</p>	<p>تمركز الإشعاع</p>
الشكل (ب)		الشكل (أ)	
الوثيقة (4)			

التعليمات:

1. إقترح فرضية حول آلية تأثير المورفين وذلك بإستغلالك للوثيقة (2).
2. بيّن آلية تأثير المورفين مُصادقًا على صحة الفرضية المقترحة وذلك بإستغلالك للوثقتين (3) و (4).

الإجابة:

1. اقتراح فرضية حول آلية تأثير المورفين:

إستغلال الوثيقة (2): تمثل الوثيقة (2) رسم تخطيطي للتركيب التجريبي الذي يسمح بدراسة العناصر المتدخلة في الإحساس بالألم إلى جانب نتائج تجريبية متحصل عليها على مستوى العصبون الوارد إلى الدماغ، حيث نلاحظ:

- التسجيل (أ) في غياب المورفين: زيادة عدد كمونات العمل المسجلة في العصبونات الواردة إلى الدماغ والخاصة بالإحساس بالألم الخاطف (بالأخضر) والألم المتأخر (بالأحمر) كما يتزايد النشاط التلقائي العادي للعصبون الوارد.
 - التسجيل (ب) بعد حقن المورفين في المنطقة (س): تناقص عدد الكمونات العمل المسجلة في العصبونات الواردة إلى الدماغ والخاصة بالإحساس بالألم الخاطف والألم المتأخر كما يتناقص النشاط التلقائي العادي للعصبون الوارد.
- الإستنتاج: المورفين يمنع حدوث الإحساس بالألم فهو يعمل على إلغاء كمونات العمل الصادرة من مكان الألم والواردة إلى الدماغ.

• الفرضية المقترحة هي: أن المورفين يُثبِّط (يمنع) تحرير المبلغ العصبي في الشق المشبكي للمشبك المسؤول عن نقل الرسالة العصبية الحسية المسؤولة عن الألم إلى الدماغ.

دروسكم
منصة التعليم الإلكتروني

ملف الحصة المباشرة و المسجلة

1 حصص مباشرة

2 حصص مسجلة

3 دورات مكثفة

أحصل على بطاقة الإشتراك





2. تبيان آلية تأثير المورفين والمصادقة على صحة الفرضية:

إستغلال الوثيقة (3): تمثل الوثيقة (3) رسم تخطيطي للبنيات المتواجدة على مستوى المنطقة (س) إلى جانب نتائج تجريبية لتنبيهات أُجريت على مختلف الألياف العصبية، حيث نلاحظ:

• **في التجربة 1 (عند تنبيه الليف العصبي الحسي 1):** إرتفاع تركيز المادة P في الشق المشبكي للمشبك (3-1) والإحساس بالألم.

• **في التجربة 2 (عند تنبيه الليفين العصبيين 1 و 2):** إرتفاع تركيز مادة الأنكيفالين في الشق المشبكي للمشبك (2-1) وتناقص تركيز المادة P في الشق المشبكي للمشبك (3-1) وعدم الإحساس بالألم.

من مقارنة نتائج التجربة 2 مع نتائج التجربة 1 يتبين أن: المشبك (2-1) مشبك تثبيطي مُبلغه العصبي هو الأنكيفالين الذي يُثبط عمل المشبك التثبيهي (3-1) الذي مبلغه العصبي هو المادة P المسؤولة عن الإحساس بالألم (يمنع إفراز المادة P).

• **في التجربة 3 (عند حقن المورفين في الشق المشبكي للمشبك (2-1) مع تنبيه الليف العصبي 1:** تناقص تركيز المادة P في الشق المشبكي للمشبك (3-1) وعدم الإحساس بالألم.

من مقارنة نتائج التجربة 3 مع نتائج التجربة 2 يتبين أن: للمورفين نفس تأثير الأنكيفالين.

الإستنتاج: للمورفين نفس تأثير الأنكيفالين على مستوى المشبك التثبيطي (2-1) وذلك بمنع (تثبيط) تحرير المادة P المسؤولة عن الإحساس بالألم في الشق المشبكي للمشبك التثبيهي (3-1)، فهو يُقلل الإحساس بالألم.



إستغلال الوثيقة (4):

يمثل الشكل (أ) نتائج التصوير الإشعاعي الذاتي لمقطع في النخاع الشوكي إثر حقن حيوان بالمورفين المشع، حيث نلاحظ:

• نلاحظ ظهور وتمركز الإشعاع بشدة عالية في منطقة القرن الخلفي للمادة الرمادية بالنخاع الشوكي، أي تأثير المورفين على هذه المنطقة وهي منطقة تموضع المشابك المدروسة سابقًا (المنطقة (س)).

الإستنتاج: مقرر تأثير المورفين هو القرن الخلفي للمادة الرمادية بالنخاع الشوكي.

يمثل الشكل (ب) صور تركيبية للشكل الفراغي لكل من جزيئة المورفين و جزيئة الأنكيفالين وطريقة إرتباطهما على مستوى الغشاء بعد مشبكي في المشبك (1-2)، حيث نلاحظ:

• وجود تشابه بنيوي بين جزيئة المورفين و جزيئة الأنكيفالين في الجزء الذي يتثبت على المستقبلات الغشائية للأنكيفالين.

الإستنتاج: يتثبت المورفين على المستقبلات الغشائية للأنكيفالين.

ومنه:

تتمثل آلية تأثير المورفين على عمل المشبك في:

• يتثبت المورفين على المستقبلات الغشائية للأنكيفالين في الغشاء بعد مشبكي (غشاء النهاية العصبية للعصبون الحسي 1) للمشبك التثبيطي (1-2) المتواجد في منطقة القرن الخلفي للمادة الرمادية بالنخاع الشوكي ويعمل عمل الأنكيفالين بتثبيط (بمنع) تحرير المادة P في الشق المشبكي للمشبك التثبيطي (1-3) وهذا ما يمنع توليد رسائل عصبية (كمونات عمل) في العصبون الوارد إلى الدماغ وبالتالي عدم تنبيهه وهذا ما يجعل المورفين مسكن قوي للألم ولذلك يُستعمل في المجال الطبي للأشخاص الذين يعانون من الألم المزمن.

• هذه النتائج تسمح بالمصادقة على صحة الفرضية المقترحة سابقًا.

ومنه:

تتمثل آلية تأثير المورفين على عمل المشبك في:

- يتثبت المورفين على المستقبلات الغشائية للأنكيفالين في الغشاء بعد مشبكي (غشاء النهاية العصبية للعصبون الحسي 1) للمشبك التثبيطي (2-1) المتواجد في منطقة القرن الخلفي للمادة الرمادية بالنخاع الشوكي ويعمل عمل الأنكيفالين بتثبيط (بمنع) تحرير المادة P في الشق المشبكي للمشبك التثبيطي (1-3) وهذا ما يمنع توليد رسائل عصبية (كمونات عمل) في العصبون الوارد إلى الدماغ وبالتالي عدم تنبيهه وهذا ما يجعل المورفين مُسكن قوي للألم ولذلك يُستعمل في المجال الطبي للأشخاص الذين يعانون من الألم المزمن.
- هذه النتائج تسمح بالمصادقة على صحة الفرضية المقترحة سابقاً.

دروسكم
منصة التعليم الإلكتروني

ملف الحصة المباشرة و المسجلة

1 حصص مباشرة

2 حصص مسجلة

3 دورات مكثفة

أحصل على بطاقة الإشتراك



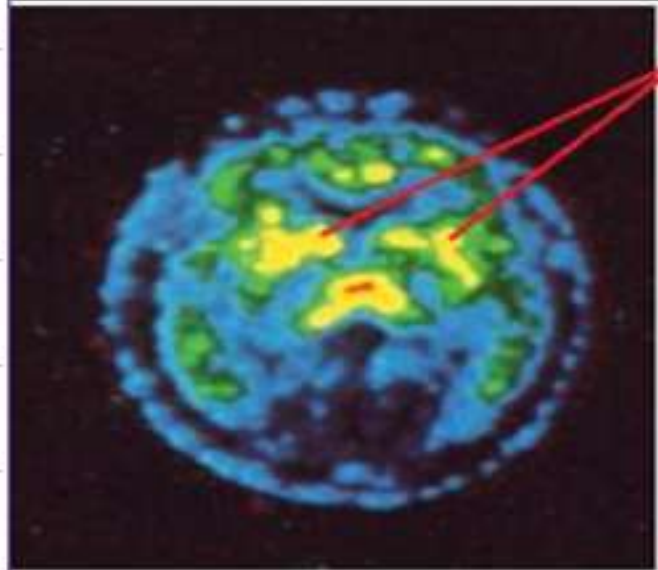


2. مخاطر الإدمان على المورفين:

يُستعمل المورفين في المجال الطبي للتخفيف من بعض الآلام إلا أنّ إستعمالاته تكون بكميات محدودة ومدرّوسة وهذا لتجنب تأثيراته الجانبية:

لمعرفة بعض هذه التأثيرات الجانبية، نُقترح عليك الدراسة التالية:

تمثل الوثيقة (5) مُعطيات طبية حول مخاطر الإدمان على المورفين.



مستقبلات الأنكيفالين (باللون الأصفر)

- للمورفين تأثير خطير لأن المدمن عليها يتطلب في كل مرة جرعات متزايدة للحصول على نفس المفعول عكس الأنكيفالين المبلغ الكيميائي الطبيعي الذي يفكك مباشرة بواسطة إنزيمات نوعية.
- الإدمان على المخدرات (منها المورفين) يجعل المدمن يشعر بالكآبة والألم في غيابها.

الوثيقة (5)

التعليمية:

- حدّد مخاطر الإدمان على المورفين وذلك بإستغلالك لمعطيات الوثيقة (5).



الإجابة:

مخاطر الإدمان على المورفين:

إستغلال الوثيقة (5): تمثل الوثيقة (5) مُعطيات طبية حول مخاطر الإدمان على المورفين..، حيث نلاحظ:

- أن الإدمان على المخدرات مثل المورفين يجعل المدمن يشعر بالكآبة والألم في غيابها بحيث يُلاحظ أن بعض المناطق في الجهاز العصبي غير طبيعية (ميتة) نتيجة الإدمان حيث تضرر المستقبلات الغشائية النوعية للأنكيفالين نتيجة التأثير المستمر للمورفين عليها أو الإدمان عليه وبالتالي تفقد هذه المناطق دورها خاصة التي تتحكم في الإرادة، التفكير، التوازن وفقدان الشخص بعض الأحاسيس نتيجة تأثير المخدرات على مساحات الإحساس الواعي والحركة الإرادية الموجودة على مستوى القشرة المخية مما يؤدي به إلى الإنهيار العصبي.
- كما تسبب المخدرات أخرى نتائج مماثلة ينتهي تأثيرها بالموت.

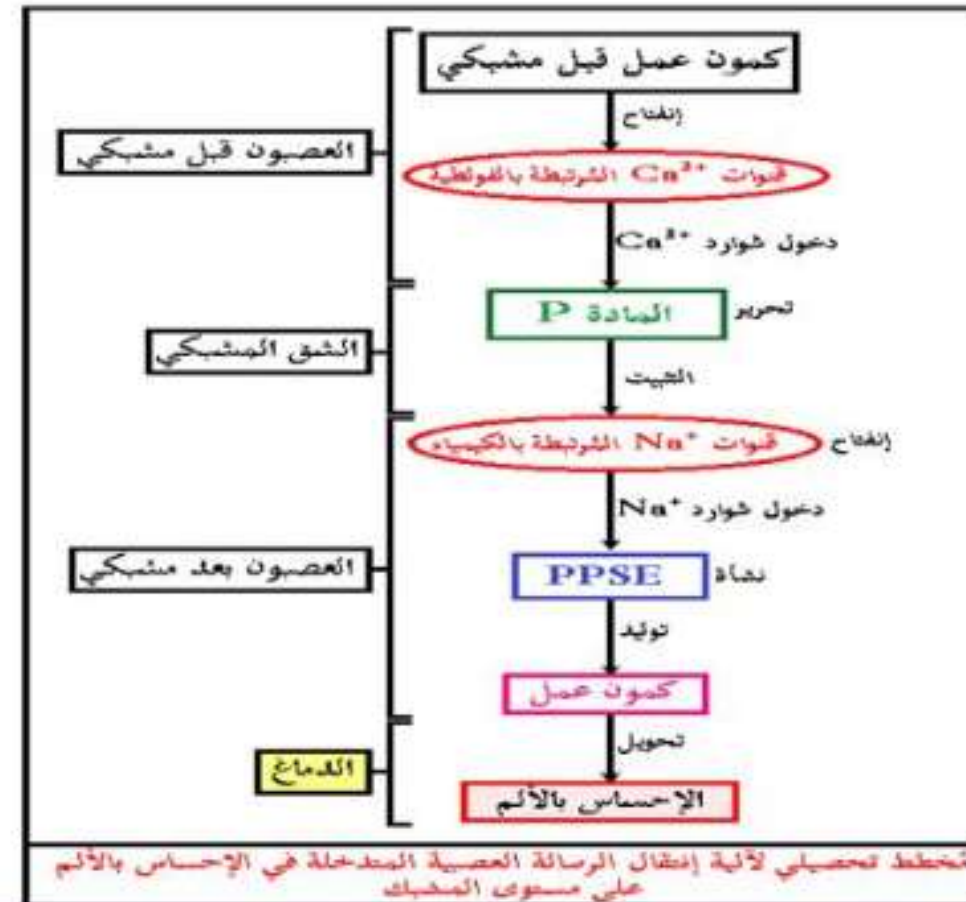
الإستنتاج: إستخدام المورفين بشكل عشوائي ومفرط خارج نطاق التوجيه الطبي يتسبب في الإدمان الذي قد ينتهي بالموت كما تسبب مخدرات أخرى نتائج مماثلة.



الخلاصة:

- يمكن للنقل المشبكي أن يختل بتدخل العديد من الجزيئات الخارجية المستعملة إما لأغراض طبية أو لغيرها، إنها **المخدرات**.
- يستخدم **المورفين** في المجال الطبي لعلاج كل من الألم الشديد الحاد والمزمن.
- إستخدام المورفين بشكل **عشوائي ومفرط** خارج نطاق التوجيه الطبي يتسبب في **الإدمان** الذي قد ينتهي بالموت كما تسبب مخدرات أخرى نتائج مماثلة.

التقويم: - أنجز مخططاً تحصيلياً لآلية إنتقال الرسالة العصبية المتدخلة في الإحساس بالألم على مستوى المشبك. **الإحاطة:**



يتحكّم المولود الجديد تدريجيا في حركاته نتيجة تغيّرات فيزيولوجية من بينها تلك التي تمسّ المشابك المثبطة خلال نضج الخلايا العصبية. لمعرفة كيف يتمّ ذلك تُقترح عليك الدراسة التالية:

الجزء الأول:

تمّ قياس تغيّرات التيار الأيوني والكمون الغشائي على مستوى الغشاء بعد مشبكي لمشبك مثبط بعد يوم من الولادة وبعد شهرين من الولادة. النتائج مبيّنة في الوثيقة (1).

الجزء الأول:

تمّ قياس تغيّرات التيار الأيوني والكمون الغشائي على مستوى الغشاء بعد مشبكي لمشبك مثبط بعد يوم من الولادة وبعد شهرين من الولادة. النتائج مبيّنة في الوثيقة (1).

1 حصص مباشرة

1

2 حصص مسجلة

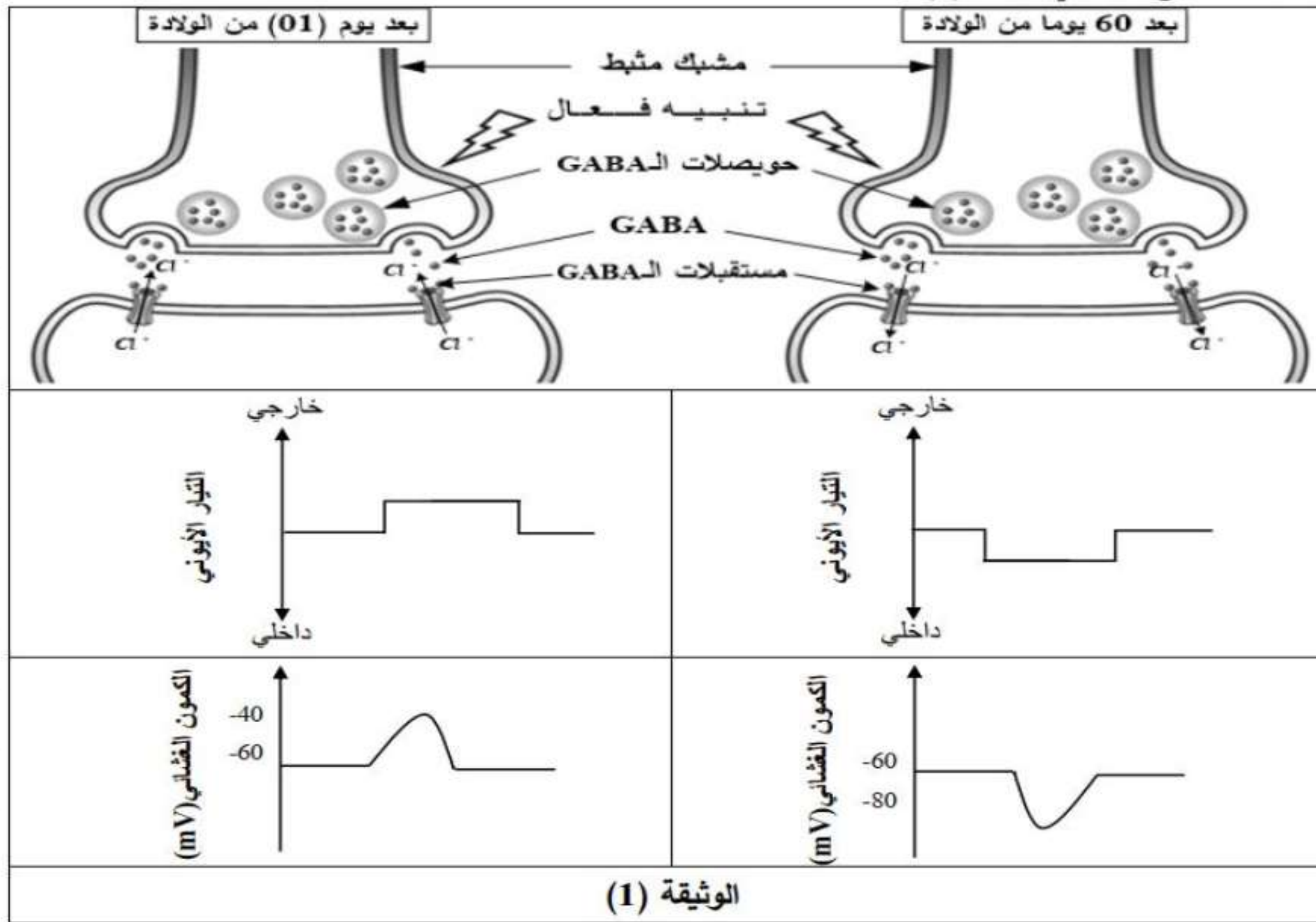
2

3 دورات مكثفة

3

أحصل على بطاقة الإشتراك





1. حلّ معطيات الوثيقة (1) مُحدِّدا المشكلة العلمية المطروحة.

2. اقترح فرضية لحل هذه المشكلة.

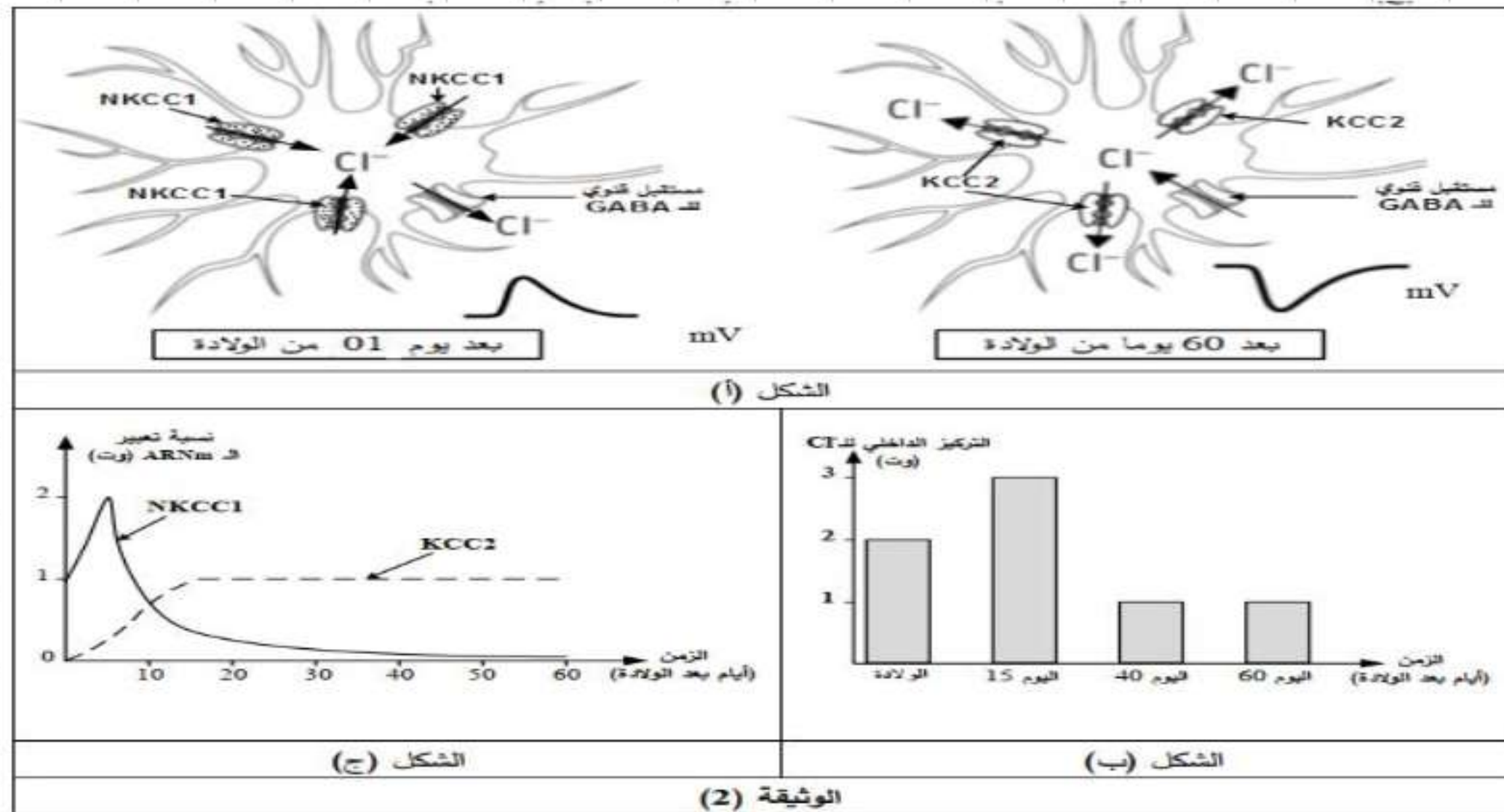
الجزء الثاني:

للتحقق من صحة الفرضية المقترحة أجريت الدراسة الممثلة في الوثيقة (2) حيث:

الشكل (أ): يُبين توزيع بعض البروتينات في الغشاء بعد مشبكي والمتمثلة في نوعين من مضخات شوارد الكلور (Cl^-) تُدعى ($NKCC1$) و ($KCC2$) بالإضافة إلى المستقبلات القنوية للـ GABA.

الشكل (ب): يُمثل تغيرات التركيز الداخلي لشوارد الكلور (Cl^-) خلال 60 يوما بعد الولادة.

الشكل (ج): يُمثل تطور كمية (ARNm) للبروتينات الغشائية ($NKCC1$) و ($KCC2$) خلال 60 يوما بعد الولادة.



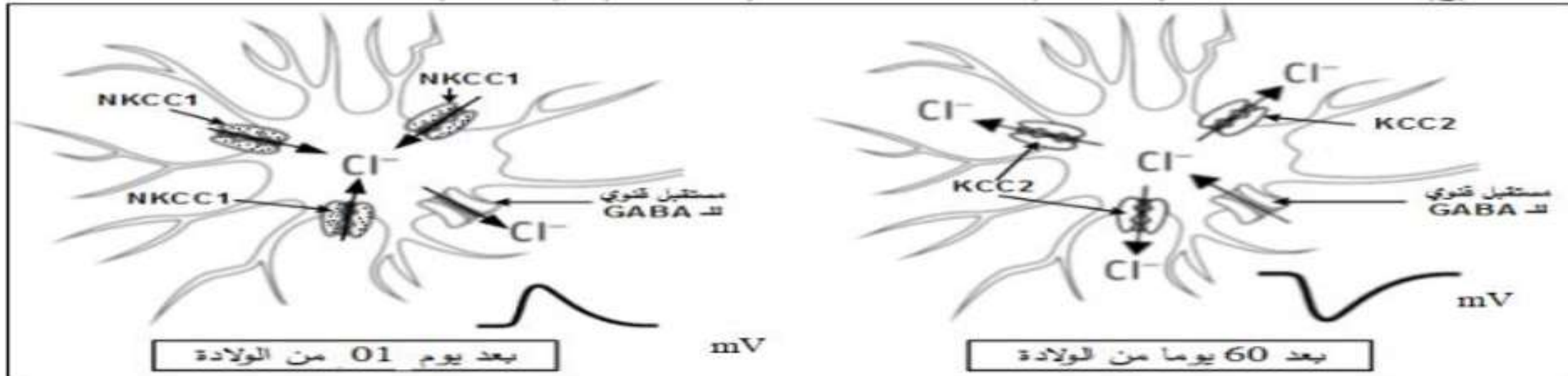
1 حصص مباشرة

2 حصص مسجلة

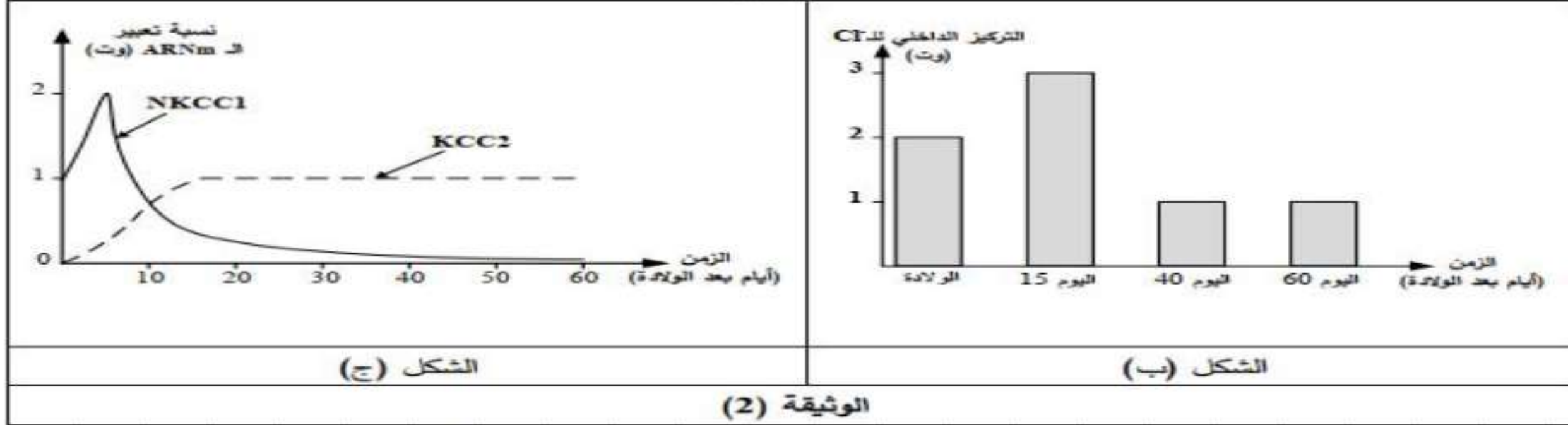
3 دورات مكثفة

أحصل على بطاقة الإشتراك





الشكل (أ)



الشكل (ج)

الشكل (ب)

الوثيقة (2)

1. استخراج أهم مميزات البروتينات الغشائية الممثلة في الشكل (أ) من الوثيقة (2).
2. تأكد من صحة الفرضية المقترحة باستغلالك لمعطيات الوثيقة (2).
3. قدم حلاً مبنياً على أسس علمية لعلاج أشخاص بالغين يعانون من اضطرابات عصبية ناتجة عن تراكم شوارد الـ (Cl⁻) في هيولى الخلية بعد مشبكية.

1 حصص مباشرة

2 حصص مسجلة

3 دورات مكثفة

أحصل على بطاقة الإشتراك



الجزء الثالث:

لخص في نص علمي دقيق آلية عمل المشبك المثبط عند شخص سليم بالغ مبرزاً دور مختلف البروتينات الغشائية في ذلك باستغلالك لنتائج الدراسة السابقة ومكتسباتك.

التمهيد الموضوع الثالث

دروسكم
منصة التعليم الإلكتروني



ملف الحصة المباشرة و المسجلة

1 حصص مباشرة

1

2 حصص مسجلة

2

3 دورات مكثفة

3

أحصل على بطاقة الإشتراك



الجزء الأول:

(1) تحليل الوثيقة (1):

تمثل الوثيقة رسومات تخطيطية لمشبك مثبط ونتائج قياس تغيرات التيار الأيوني والكمون الغشائي للغشاء بعد المشبكي في اليوم الأول وبعد 60 يوم من الولادة حيث:

. في اليوم الأول من الولادة: يؤدي تنبيه النهاية قبل المشبكية إلى تحرير الـ GABA وتثبته على المستقبلات القنوية فتتدفق شوارد الـ Cl^- نحو الخارج فنسجل تياراً أيونياً خارجاً يؤدي إلى زوال استقطاب الغشاء بعد المشبكي (توليد PPSE).

بعد 60 يوماً من الولادة: يؤدي تنبيه النهاية قبل المشبكية إلى تحرير الـ GABA وتثبته على المستقبلات القنوية مسبباً تدفق شوارد الـ Cl^- نحو الداخل فنسجل تياراً أيونياً داخلياً يؤدي إلى فرط في استقطاب الغشاء بعد المشبكي (توليد PPSI).

الاستنتاج: يطرأ على مشبك الـ GABA تحول فيزيولوجي من مشبك منبه إلى مشبك مثبط خلال المراحل الأولى من الولادة.

المشكلة العلمية: كيف يُفسر تغير اتجاه تدفق شوارد الـ Cl^- على مستوى المشبك قبل وبعد التغيرات الفيزيولوجية؟

ملاحظة: نُقبل صياغات أخرى للمشكلة العلمية تصب في نفس السياق.

مثال: كيف نفسر أثر الـ GABA على تدفق شوارد الكلور على مستوى المشبك قبل وبعد التغيرات الفيزيولوجية؟

1 حصص مباشرة

2 حصص مسجلة

3 دورات مكثفة

أحصل على بطاقة الإشتراك



(2) اقتراح فرضية:

. قبل النضج: تتدخل آلية تُحدث تراكم شوارد الـ Cl^- في الداخل، تثبيت GABA على المستقبلات المرتبطة بالكيمياء يسمح بتدفق لشوارد الـ Cl^- حسب تدرج التركيز نحو الخارج محدثا زوال الاستقطاب.

. بعد النضج: تتدخل آلية تُحدث تراكم شوارد الـ Cl^- في الخارج، تثبيت GABA على المستقبلات المرتبطة بالكيمياء يسمح بتدفق لشوارد الـ Cl^- حسب تدرج التركيز نحو الداخل محدثا افراط في الاستقطاب.

الجزء الثاني:

(1) استخراج أهم مميزات البروتينات الغشائية الممثلة في الشكل (أ) من الوثيقة (2):

- مستقبلات الـ GABA المنشطة بـ GABA تعمل وفق تدرج التركيز (ظاهرة الميز).

- NKCC1 بروتين ضمنى يلعب دور مضخة تعمل على إدخال شوارد (Cl^-) عكس تدرج التركيز بظاهرة النقل الفعال.

- KCC2 بروتين ضمنى يلعب دور مضخة تعمل على إخراج شوارد (Cl^-) عكس تدرج التركيز بظاهرة النقل الفعال.

1 حصص مباشرة

2 حصص مسجلة

3 دورات مكثفة

أحصل على بطاقة الإشتراك





2) التآكد من صحة الفرضية المقترحة باستغلال معطيات الوثيقة (2):

الشكل (أ):

- في اليوم الأول من الولادة يتميز الغشاء بعد المشبكي بتواجد مضخات الـ NKCC1 التي تضخ شوارد (Cl⁻) نحو الداخل، تنشيط مستقبلات القنوية للـ GABA يسمح بتدفق شوارد (Cl⁻) نحو الخارج.

- في اليوم 60 من الولادة يتميز الغشاء بعد المشبكي بتواجد مضخات الـ KCC2 التي تضخ شوارد (Cl⁻) نحو الخارج، تنشيط مستقبلات القنوية للـ GABA يسمح بتدفق شوارد (Cl⁻) نحو الداخل.

الشكل (ب): - من اليوم الأول إلى اليوم 15 بعد الولادة يتزايد التركيز الداخلي لشوارد (Cl⁻) من (2) وت) لتصل قيمة عظمى (3) وت).

- من اليوم 15 إلى اليوم 40 بعد الولادة ينخفض التركيز الداخلي لشوارد (Cl⁻) تدريجيا من (3) وت) ليصل قيمة دنيا (1) وت)،

- من اليوم 40 إلى اليوم 60 بعد الولادة ثبات التركيز الداخلي لشوارد (Cl⁻) عند القيمة (1) وت).

الشكل (ج): - عند الولادة: تقدر نسبة تعبير الـ ARN_m الخاص بـ NKCC1 بـ (1) وت) بينما تكون نسبة تعبير الـ ARN_m الخاص بـ KCC2 معدومة.

- من اليوم الأول إلى اليوم 5: تزايد نسبة تعبير الـ ARN_m الخاص بـ NKCC1 بمقدار الضعف لتصل إلى قيمة عظمى (2) وت) بينما يسجل تزايد ضئيل في نسبة تعبير الـ ARN_m الخاص بـ KCC2.



- من اليوم 5 إلى اليوم 15: انخفاض نسبة تعبير الـ ARN_m الخاص بـ NKCC1 من (2 وت) إلى (0,5 وت) بينما يستمر تزايد نسبة تعبير الـ ARN_m الخاص بـ KCC2 لتصل إلى قيمة عظمي تقدر بـ (1,5 وت).

- من اليوم 15 إلى اليوم 60: استمرار انخفاض نسبة تعبير الـ ARN_m الخاص بـ NKCC1 حتى تتعدم بينما تثبت نسبة تعبير الـ ARN_m الخاص بـ KCC2 عند القيمة الأعظمية (1,5 وت).

ومنه: خلال الأيام الأولى من الولادة يكون التعبير المورثي لـ NKCC1 عاليا مما يؤدي إلى تركيب مضخات NKCC1 المسؤولة عن ضخ شوارد (Cl^-) نحو الداخل فيرتفع تركيز (Cl^-) الداخلي، ولذا تثبت الـ GABA على المستقبلات القنوية بسبب خروج شوارد (Cl^-) عبرها محدثة زوال في الاستقطاب (تأثير تثبيهي).

في اليوم 60 بعد الولادة يكون التعبير المورثي لـ KCC2 عاليا مما يؤدي إلى تركيب مضخات KCC2 المسؤولة عن ضخ شوارد (Cl^-) نحو الخارج فينخفض تركيز (Cl^-) الداخلي، ولذا تثبت الـ GABA على المستقبلات القنوية بسبب دخول شوارد (Cl^-) عبرها محدثة فرط في الاستقطاب (تأثير تثبيطي) وبذلك ينضج المشبك التثبيطي. وهذا يؤكد صحة الفرضية المقترحة سابقا.

1 حصص مباشرة

2 حصص مسجلة

3 دورات مكثفة

أحصل على بطاقة الإشتراك



3) حل مبني على أسس علمية لعلاج أشخاص بالغين يعانون من اضطرابات عصبية ناتجة عن

تراكم شوارد الـ (CI) في هيولى الخلية بعد مشبكية:

. استعمال مواد كيميائية مثبطة عمل مضخات NKCC

. استعمال أدوية تنشط عمل مضخات الـ KCC2

الجزء الثالث: النص العلمي: تتضمن الإجابة تركيباً للمعلومات الأساسية التالية:

للمشابك التثبيطية دور كبير في العمل المنسق للجهاز العصبي خلال مراقبته لمختلف وظائف

الجسم وذلك بتدخل بروتينات غشائية عالية التخصص.

فكيف تتدخل البروتينات الغشائية في آلية عمل المشبك المثبط؟

. تخرج مضخات الـ KCC2 شوارد (CI) فتتراكم على سطح الخلايا العصبية

. وصول الرسالة العصبية إلى الزر المشبكي يؤدي إلى انفتاح القنوات الفولطية للكالسيوم.

. دخول الكالسيوم إلى هيولى الخلية قبل المشبكية يحفز تحرير الـ GABA في الشق المشبكي.

. تثبت الـ GABA على مستقبلاته القنوية النوعية يؤدي إلى انفتاحها ودخول شوارد (CI).

. يسبب التدفق الداخلي للـ (CI) فرطاً في استقطاب الخلية بعد المشبكية مولداً PPSI.

. تخرج مضخات الـ KCC2 من جديد شوارد (CI) لتعيد تراكيزها إلى حالتها الأصلية (تدرج

التركيز).

تحريرك:

يتطلب التنسيق على مستوى العضوية العمل المنظم لمشابك تنبيهية وتثبيطية بتدخل جزيئات بروتينية ومبلغات عصبية نوعية، قد يختل هذا العمل بفعل العديد من الجزيئات الخارجية مثل توكسين بكتيريا (Clostridium tetani) المسببة لمرض الكزاز (Tetanus) الذي من أعراضه نوبات من الألم الشديد والتقلص العضلي القوي.
توضح الوثيقة التالية عمل المشابك وتأثير توكسين الكزاز عليها.



مفعلة قوتها
تثبيطية

استرخاء العضلة
قوتها
تثبيطية

1. سمّ التسجيلين المتوقع الحصول عليهما في أجهزة راسم الاهتزاز المهبطي (أ) و (ب) وكذا البروتين الغشائي للخلية بعد المشبكية المسؤول عن كل تسجيل.
2. بيّن في نص علمي دور مختلف البروتينات الغشائية في عمل المشابك وتأثير توكسين الكزاز على ذلك انطلاقاً من معطيات الوثيقة ومعلوماتك. (النص العلمي مُهيكل بمقدمة وعرض وخاتمة)

ملف الحصة المباشرة و المسجلة

- 1 حصص مباشرة
- 2 حصص مسجلة
- 3 دورات مكثفة

أحصل على بطاقة الإشتراك



1. تسمية التسجيلين: (أ): كمون بعد مشبكي تثبيطي PPSI (تقبل: فرط استقطاب الغشاء بعد مشبكي)
(ب): كمون بعد مشبكي تثبيهي PPSE (تقبل: زوال استقطاب الغشاء بعد مشبكي)
تسمية البروتين الغشائي: المسؤول عن التسجيل (أ) هو مستقبل غشائي لمبلغ عصبي مثبط مثل GABA .
المسؤول عن التسجيل (ب) هو مستقبل غشائي لمبلغ عصبي منبه مثل الأستيل كولين .

1 حصص مباشرة

2 حصص مسجلة

3 دورات مكثفة

أحصل على بطاقة الإشتراك





2. النص العلمي:

مقدمة ذات علاقة بالمشكل العلمي: تقبل أي مقدمة لها علاقة بالمشكل العلمي.
ما هو دور مختلف البروتينات الغشائية في عمل المشابك وتأثير توكسين الكزاز على ذلك؟
العرض يتطرق الى المؤشرات التالية:

دور مختلف البروتينات الغشائية في عمل المشابك

- يتسبب وصول كمون العمل إلى نهاية العصبونين قبل المشبكيين في انفتاح القنوات البروتينية الخاصة بـ Ca^{2+} المرتبطة بالفولطية.
- دخول Ca^{2+} الى النهاية قبل مشبكية يسبب تحرير وسيط كيميائي (Ach) في المشبك المنبه و GABA في المشبك المثبط.
- تثبيت المبلغ العصبي المنبه (Ach) على المستقبلات الغشائية بعد المشبكية (مستقبلات قنوية بروتينية)، ثم دخول شوارد (Na^+) وظهور PPSE.
- تثبيت المبلغ المثبط (GABA) على المستقبلات الغشائية بعد المشبكية (مستقبلات قنوية بروتينية)، ثم نفاذية شوارد (Cl) وظهور PPSI.
- يدمج العصبون المحرك الكمونات التنبيهية والتثبيطية دمجاً فضائياً. محصلته PPSE دون العتبة فيبقى العصبون المحرك في حالة راحة مما يؤدي الى استرخاء العضلة.

في وجود توكسين الكزاز:

- تمنع جزيئات التوكسين الكزازي الإطار الخلوي للمبلغ العصبي المثبط (GABA) ما يؤدي إلى عدم توليد كمونات تثبيطية PPSI.
- بقاء تأثير الكمونات التنبيهية فقط.
- تنتج عدة كمونات عمل في العصبون المحرك مما يؤدي إلى التقلص الشديد للعضلة.

خاتمة: تسمح المشابك المنبهة والمثبطة عن طريق بروتيناتها الغشائية بتنظيم مرور الرسائل العصبية إلى العضلات وقد يختل هذا التنظيم بتدخل جزيئات خارجية تؤدي إلى ظهور حالات مرضية مثل الكزاز (التقلص الشديد للعضلات).

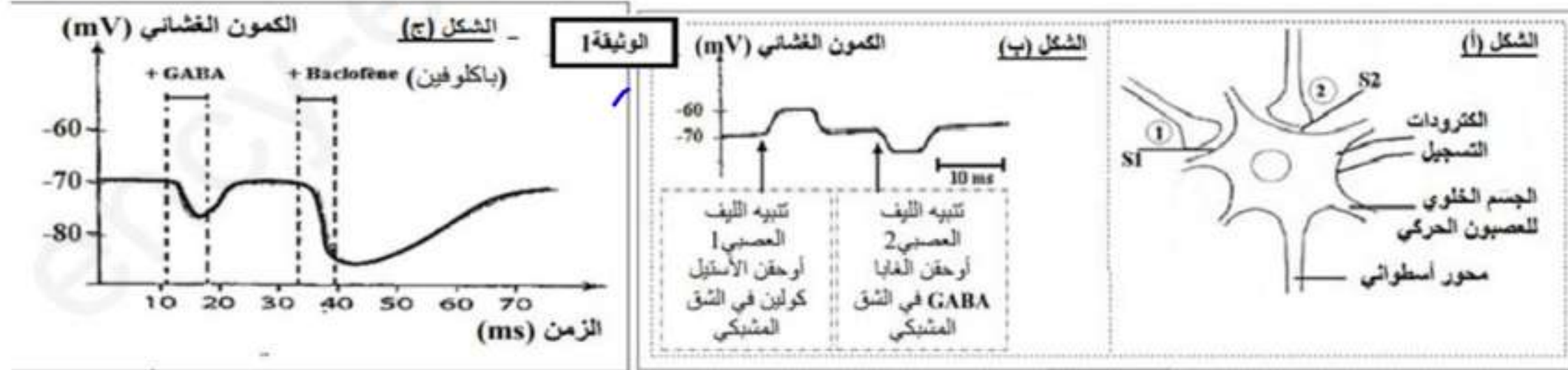


التمرين 04

باكليفين Baclofène دواء مرخ للعضلات، يعمل على الجهاز العصبي المركزي يخفف التشنجات، تقلصات وارتخاء العضلات الناتجة عن عدة أمراض مثل التصلب المتعدد myltiplesclerosis ويستعمل حديثا لعلاج الإدمان بغرض التعرف على طريقة عمل دواء الباكلوفين على مستوى الخلايا العصبية للنخاع الشوكي، نقترح عليك الدراسة التالية:

الجزء 1:

على مستوى بعض الخلايا العصبية تجرى تجارب باستخدام التركيب التجريبي الممثل في الشكل (أ) من الوثيقة 1 التجربة 1: يطبق تنبيه فعال على الليف العصبي 1 ثم على الليف العصبي 2، النتائج المسجلة على مستوى الجسم الخلوي للعصبون الحركي ممثلة في الشكل (ب) من الوثيقة 1. اذلتجربة 2: حقن نفس التركيز من GABA أو دواء الباكلوفين في S2 تغيرات الكمون الغشائي على مستوى الجسم الخلوي ممثلة في الشكل (ج) من الوثيقة 1.



باستغلالك لمعطيات الوثيقة 1 بين:

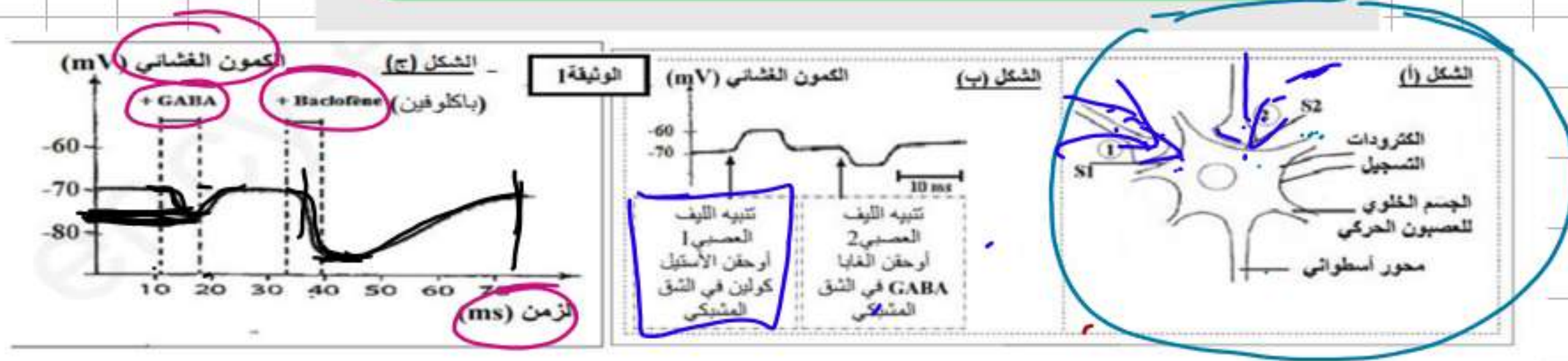
1. بالاعتماد على الشكلين (أ، ب) بين أن العصبون الحركي يمتلك أنواع مختلفة من المستقبلات الغشائية للمبلغات العصبية.
2. بالاعتماد على الشكل (ج) اقترح فرضيتين لتفسير آلية تأثير دواء باكليفين على الكمون الغشائي.

1 حصص مباشرة

2 حصص مسجلة

3 دورات مكثفة

أحصل على بطاقة الإشتراك



باستغلالك لمعطيات الوثيقة 1 بين :

1. بالاعتماد على الشكلين (أ ، ب) بين أن العصبون الحركي يمتلك أنواع مختلفة من المستقبلات الغشائية للمبلغات العصبية .
2. بالاعتماد على الشكل (ج) اقترح فرضيتين لتفسير آلية تأثير دواء باكوفين على الكمون الغشائي.

بسيار ان العصبون الحركي يمتلك مستقبلات استغلال المستقبلات

لبي العصبون الحركي للعصبون الحركي يتأثر بتأثير ACh و GABA وهو يمتلك مستقبلات ACh و GABA

و من هنا العصبون الحركي يمتلك مستقبلات عصبية مختلفة باختلاف أنواع المبلغات
التي تتصل به من العصبون الحركي

لبي العصبون الحركي يمتلك مستقبلات استغلال
و من هنا العصبون الحركي يمتلك مستقبلات عصبية مختلفة باختلاف أنواع المبلغات
التي تتصل به من العصبون الحركي

الجزء 2 :

للتحقق من صحة الفرضيتين المقترحتين نعيد التجربة 2 السابقة لكن يتم وضع العصبون الحركي في وسط خال من شوارد الكلور **الشكل (أ)** من الوثيقة 2 .

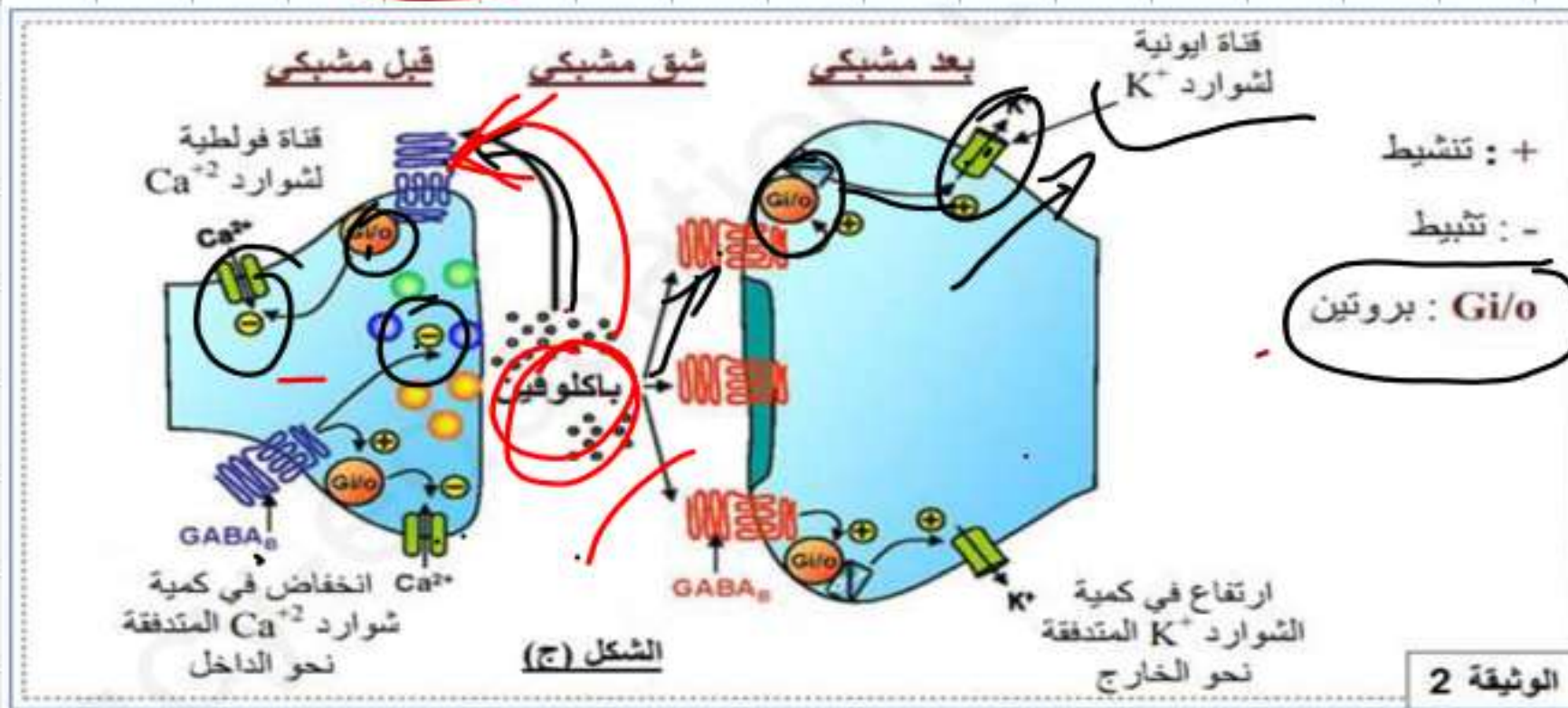
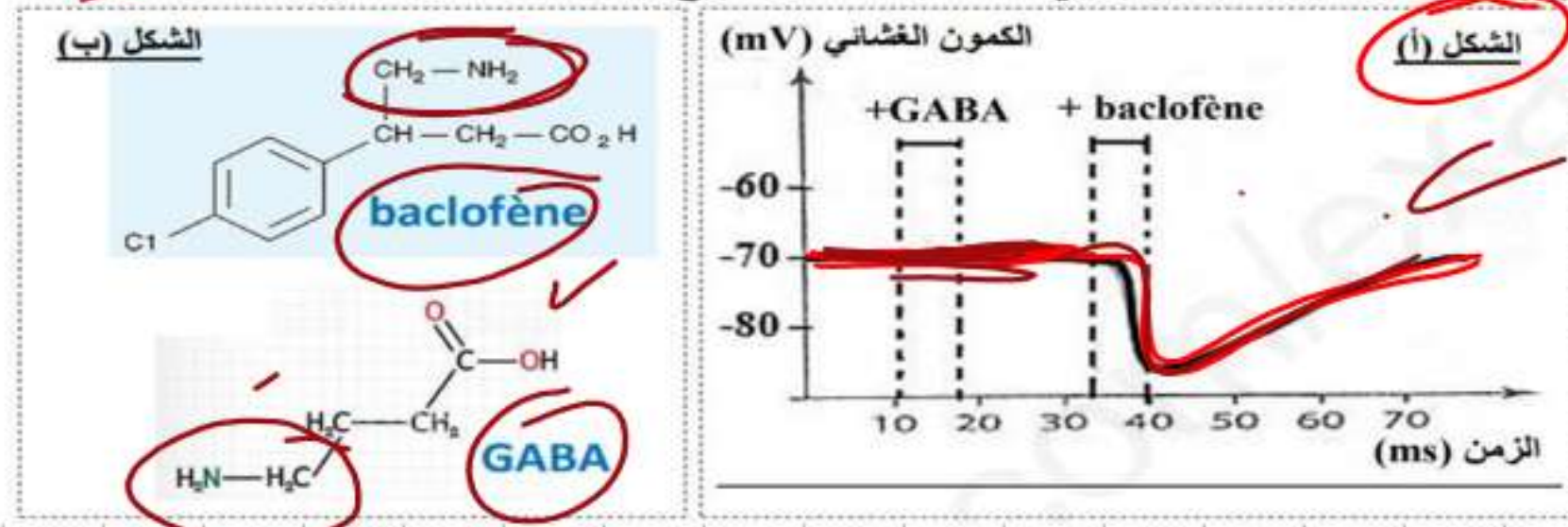
يمثل الشكل (ب) من نفس الوثيقة البنية الجزيئية لكل من GABA ودواء الباكلوفين.

يوجد نوعان من المستقبلات العشائية للـ GABA متشابهان من حيث البنية :

النوع الأول يدعى $GABA_A$ ينشط بواسطة المبلغ الكيميائي GABA ويتواجد على مستوى الغشاء بعد مشبكي.

النوع الثاني يدعى $GABA_B$ ، ينشط بواسطة الباكلوفين ويتواجد على مستوى الغشاء قبل مشبكي والغشاء بعد مشبكي

يمثل الشكل (ج) المقر والدور الفسيولوجي للمستقبلات من النوع $GABA_B$ على مستوى المشبك



1 حصص مباشرة

2 حصص مسجلة

3 دورات مكثفة

أحصل على بطاقة الإشتراك

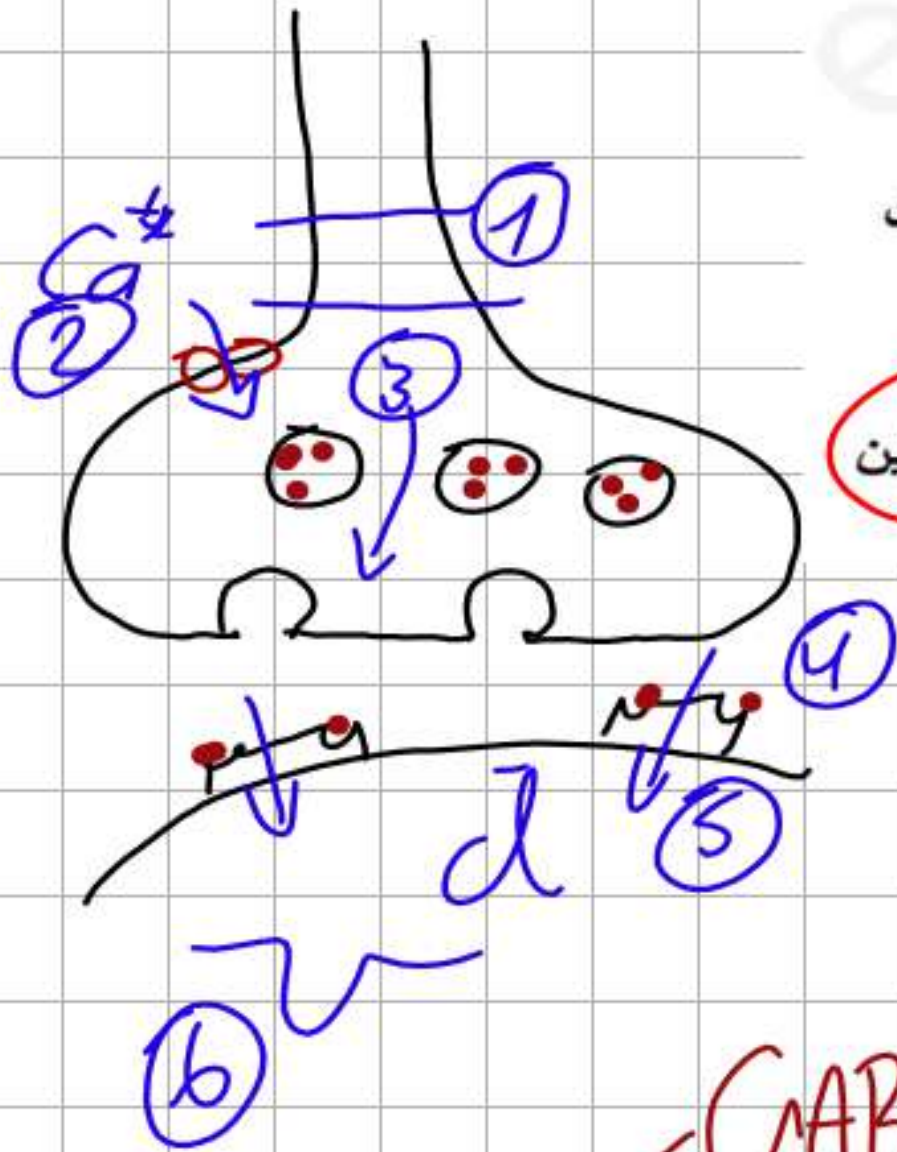




1. معتمدا على معارفك بين برسم تخطيطي وظيفي آلية عمل المشبك S2 الممثل بالوثيقة 1 (إثر تنبيه الليف العصبي 2).
2. استدل بمعطيات الوثيقة 2 للتأكد من صحة إحدى الفرضيتين المقترحتين.
3. ما هي المعلومة الإضافية التي يقدمها لك الشكل (ج) فيما يخص دور الباكلوفين في التخفيف من التشنجات العضلية.

الجزء 3:

مستعينا بالنتائج التي توصلت إليها من خلال هذه الدراسة لخص في نص علمي أهمية استعمال دواء الباكلوفين في علاج التشنجات العضلية.



التأثير العصبي - الفرضيتين
استعمال الوثيقة 2

الشكل أ - تأثير الباكلوفين في تثبيط ارتباط

الشكل ب - الباكلوفين يثبط ارتباط الناقل العصبي AChA

الشكل ج - الباكلوفين يثبط قنوات Ca^{2+} في الخلايا العصبية
ويؤثر على قنوات K^{+} لسطحها فتؤدي لحدوث انقباض

التثقيب: الباكلوفين يثبط ارتباط الناقل العصبي AChA في الخلايا العصبية
وهو مما يؤدي إلى تثبيط قنوات Ca^{2+} في سطحها فتؤدي لحدوث انقباض
وهو مما يؤدي إلى تثبيط قنوات K^{+} في سطحها فتؤدي لحدوث انقباض



ملف الحصة المباشرة و المسجلة

1 حصص مباشرة

1

2 حصص مسجلة

2

3 دورات مكثفة

3

أحصل على بطاقة الإشتراك



التمرين الثالث: (08 نقاط)

الألم الحاد مشكلة صحية حقيقية يضطر الأطباء لعلاجها إلى استعمال مواد مخدرة مثل المورفين لكن لها آثار جانبية خطيرة كالإدمان وعليه يضاعف الباحثون جهودهم لإيجاد علاجات مسكنة جديدة أكثر فعالية وأقل ضرر على الجسم. الدراسة التالية تسلط الضوء على أبحاث أنجزت على كيفية معالجة الألم بتدخل سم عنكبوت (Tarentule Paraphysa) الذي يرمز له بـ (Psp3TX1).

الجزء الأول:

تتقل بعض الخلايا العصبية رسائل الألم في العضوية، للتعرف على الجزيئات والآليات المتدخلة في ذلك تُقترح عليك الوثيقة (1) حيث:

الشكل (أ) يمثل رسماً تخطيطياً للعناصر المتدخلة في الرسالة العصبية الخاصة بالإحساس بالألم على مستوى القرن الخلفي للنخاع الشوكي.

الشكل (ب) يمثل تسجيلات نشاط العصبون الوارد إلى الدماغ بعد تنبيه العصبون (C) تم الحصول عليها في

حالتين: الحالة ① بعد تنبيه فعال للعصبون (C) (الشاهد)

الحالة ② بعد تنبيه فعال للعصبون (C) وحقن السم.



1 حصص مباشرة

2 حصص مسجلة

3 دورات مكثفة

أحصل على بطاقة الإشتراك

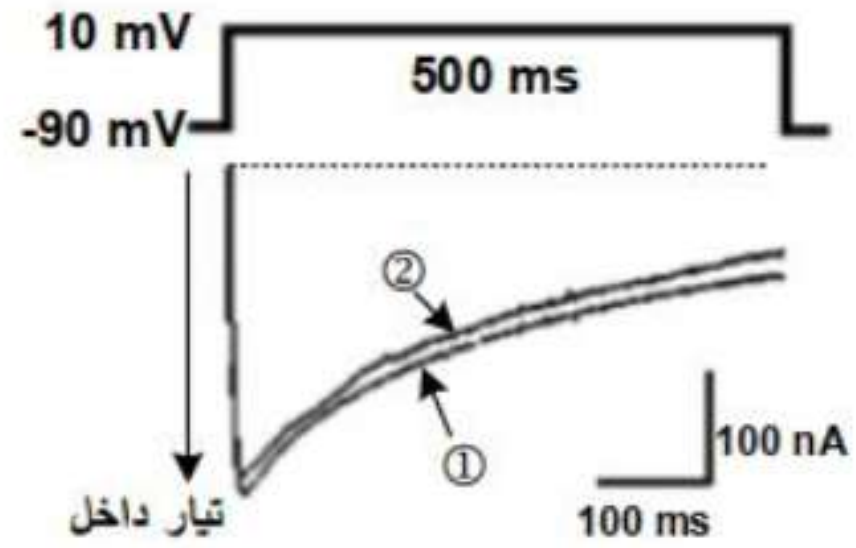


الجزء الثاني: لتفسير تأثير سم العنكبوت أنجزت سلسلة تجارب على قطع معزولة من أغشية عصبونات القرن الخلفي للنخاع الشوكي بتقنية (Patch-clamp) بإخضاعها لكمون مفروض، وتسجيل التيارات الأيونية التي تعبر الغشاء ضمن شروط محددة.

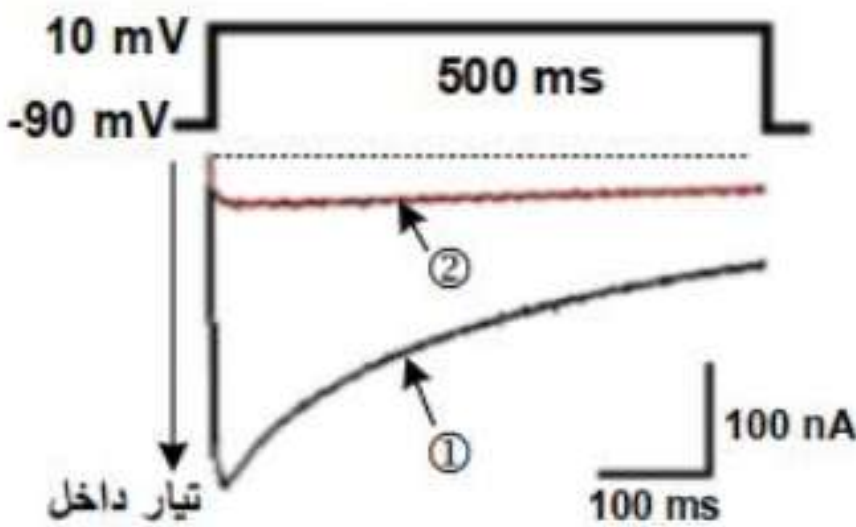
التجربة (1): تم عزل جزء من غشاء العصبون الحسي (C) قبل مشبكي يحتوي على قناتي (K^+ و Na^+) مرتبطين بالفولطية، نتائج التجربة ممثلة في الشكل (أ) من الوثيقة (2).

التجربة (2): تم عزل قطعة من الغشاء الهيولي للنهاية العصبية لعصبون آخر يتكون من قناة (Ca^{2+}) المرتبطة بالفولطية من النمط (N) والموجودة في جميع أنحاء الجهاز العصبي. نتائج التجربة ممثلة في الشكل (ب) من الوثيقة (2).

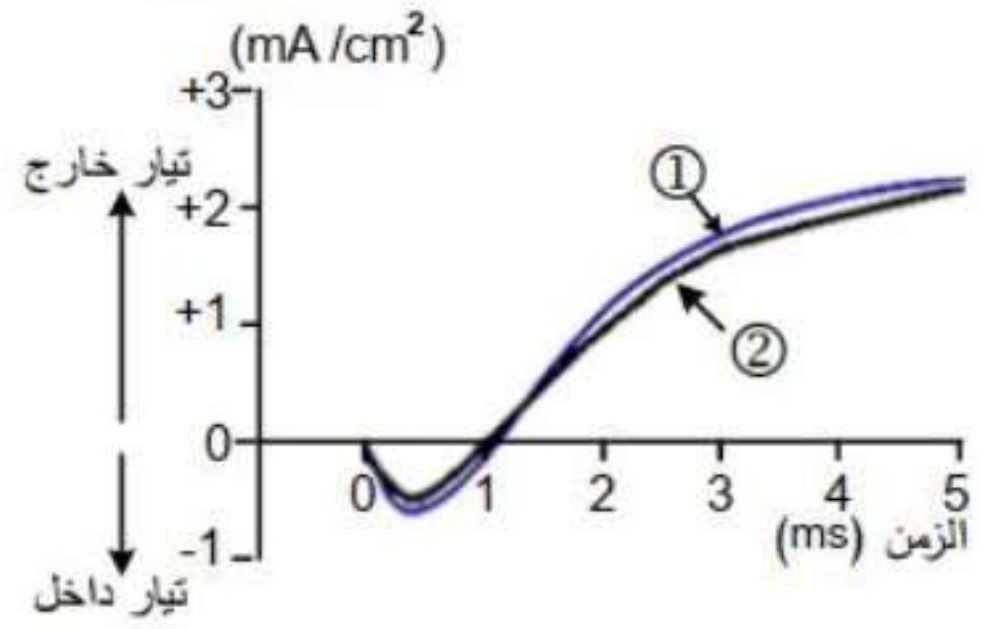
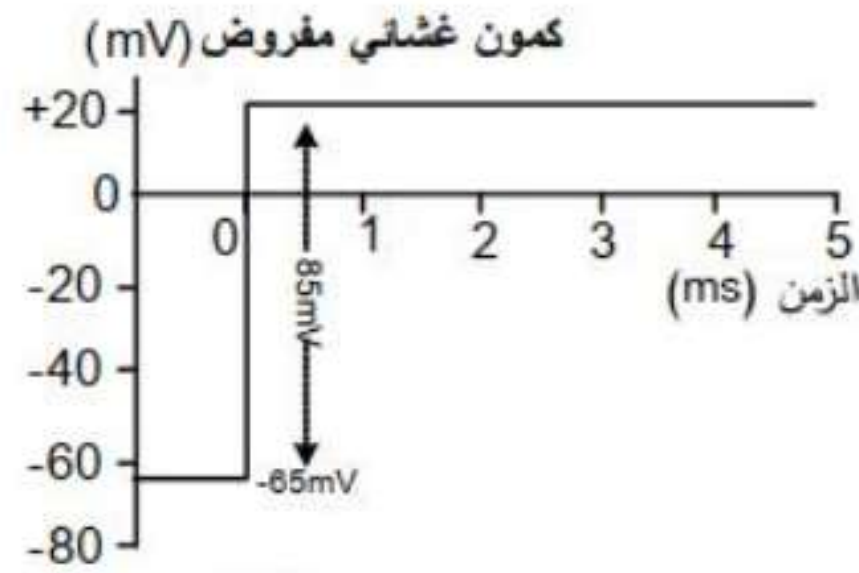
التجربة (3): تم عزل قطعة من الغشاء الهيولي للنهاية العصبية للعصبون الحسي (C) يتكون من قناة (Ca^{2+}) من النمط (T) مرتبطة بالفولطية. نتائج التجربة ممثلة في الشكل (ج) من الوثيقة (2).



الشكل (ب)



الشكل (ج)



الشكل (أ)

ملاحظات: - التسجيل ① في الحالة العادية، التسجيل ② عند إضافة السم بتركيز (1 μmol)

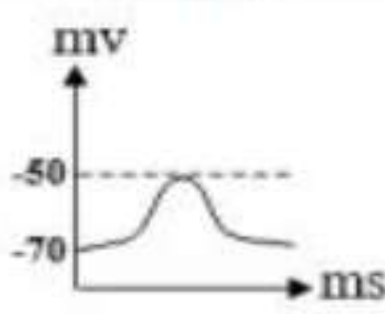
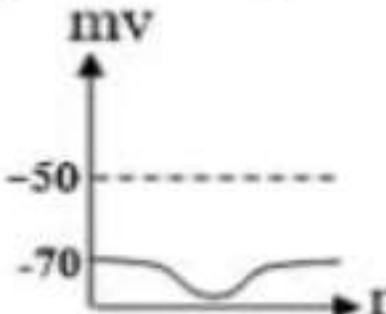
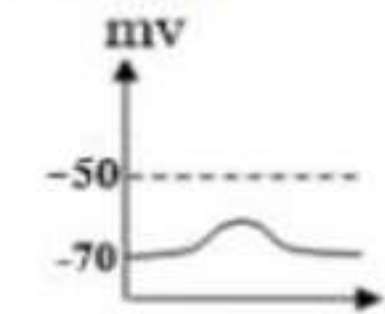
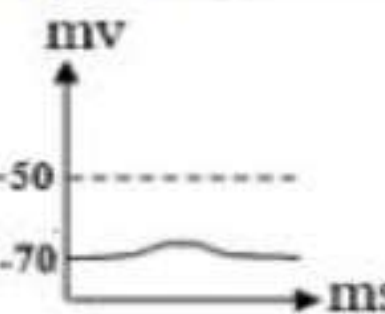
- تركيز الشوارد على جانبي الغشاء الخلوي: $[Na^+]_{\text{الخارجي}} > [Na^+]_{\text{الداخلي}}$

$[K^+]_{\text{الخارجي}} > [K^+]_{\text{الداخلي}}$

$[Ca^{2+}]_{\text{الخارجي}} > [Ca^{2+}]_{\text{الداخلي}}$

الوثيقة (2)

التجربة (4): حُقِنَت عدة مواد على مستوى الشق المشبكي بواسطة الماصة المجهرية المبيّنة في الوثيقة (1)، المراحل والتسجيلات المحصل عليها في (ر. ذ. م) موضحة في جدول الوثيقة (3).

مراحل التجربة	① حقن المادة (P) + سم العنكبوت	② حقن الأنكيفالين + سم العنكبوت	③ حقن الأنكيفالين + المادة (P)	④ حقن السم ثم تتببه كهربائي فعال للعصبون الحسي (C)
التسجيلات				
التحليل الكيميائي على مستوى المشبك	تناقص المادة (P) الحرة	تناقص الأنكيفالين الحرة	تناقص كل من المادة (P) والأنكيفالين الحرتين	تواجد كمية قليلة جدا من المادة (P)
النتيجة	الإحساس بالألم	عدم الإحساس بالألم	عدم الإحساس بالألم	عدم الإحساس بالألم

الوثيقة (3)

1- فُسر نتائج التجارب الموضحة في الوثيقتين (2) و (3) ثم تُحَقَّق من مدى صحة الفرضيات المقترحة.

2- استخلص أن استعمال سم العنكبوت بديلا للمورفين كعلاج مسكن للألم أكثر فعالية وأقل ضرر على الجسم.

الجزء الثالث:

لخص في مخطط نتائج تأثير سم العنكبوت على آلية نقل الرسالة العصبية المتدخلة في الإحساس بالألم على مستوى المشبك العصبي.

1 حصص مباشرة

2 حصص مسجلة

3 دورات مكثفة

أحصل على بطاقة الإشتراك





الجزء الأول:

1. تحديد مقر ودور الجزيئات الغشائية في النقل العصبي في جدول ثم استنتاج تأثير السم:
- تحديد مقر ودور الجزيئات الغشائية:

الجزيئات	مقر	الدور
قناة Na^+ المرتبطة بالفولطية	غشاء الليف العصبي	تسمح بدخول شوارد الصوديوم حسب تدرج التركيز محدثة زوال استقطاب.
قناة K^+ المرتبطة بالفولطية	غشاء الليف العصبي	تسمح بخروج شوارد البوتاسيوم حسب تدرج التركيز تساهم في عودة استقطاب.
قناة Ca^{2+} المرتبطة بالفولطية	الزر النهائي المشبكي	تسمح بدخول شوارد الكالسيوم حسب تدرج التركيز متسببة في تحرير المبلغ العصبي على مستوى الشق المشبكي.
قناة Na^+ المرتبطة بالكيمياء	الغشاء بعد المشبكي	تسمح بدخول شوارد الصوديوم حسب تدرج التركيز تساهم في زوال استقطاب بعد مشبكي PPSE.

- استنتاج تأثير السم: يخفف سم العنكبوت الإحساس بالألم.

2. اقتراح الفرضيات:

- ف1: يثبط السم عمل القنوات Na^+ أو K^+ المرتبطة بالفولطية فيمنع انتشار كمون العمل عبر العصبون C فيوقف انتقال الرسالة العصبية المتسببة في الإحساس بالألم.
- ف2: يثبط السم عمل القنوات Ca^{2+} المرتبطة بالفولطية فيمنع تحرير المبلغ العصبي P في الشق المشبكي فيوقف انتقال الرسالة العصبية المتسببة في الإحساس بالألم.
- ف3: يثبط السم عمل قنوات Na^+ المرتبطة بالكيمياء فيمنع دخول شوارد الصوديوم فلا يحدث زوال استقطاب في العصبون الوارد إلى الدماغ فلا تنتقل الرسالة العصبية المتسببة في الإحساس بالألم.
- ملاحظة: تقبل الفرضيات الأخرى شرط أن تكون وجيهة.

1 حصص مباشرة

2 حصص مسجلة

3 دورات مكثفة

أحصل على بطاقة الإشتراك



الجزء الثاني:

1. تفسير النتائج المحصل عليها:

التجربة (1): عند فرض كمون سعته (+85mv) على الليف العصبي C، في الحالتين العادية (1) وبوجود السم (2)، يسجل نفس التسجيل يتمثل في تيار داخل سريع يدوم 0.5ms ثم يتناقص ليتوقف عند 1ms نتيجة انفتاح قناة Na^+ ودخول شوارد Na^+ مع تدرج التركيز، ثم يسجل تيار خارج يدوم طيلة فترة الكمون المفروض نتيجة انفتاح قناة K^+ وخروج شوارد K^+ مع تدرج التركيز. ومنه فالسم لا يؤثر على قنوات Na^+ و K^+ المرتبطة بالفولطية.

التجربة (2): عند فرض كمون سعته (+100mv) على النهاية العصبية، في الحالتين العادية (1) وبوجود السم (2)، يسجل نفس التسجيل يتمثل في تيار داخل نتيجة انفتاح قناة Ca^{2+} من النمط (N) ودخول شوارد Ca^{2+} مع تدرج التركيز.

ومنه فالسم لا يؤثر على قنوات Ca^{2+} الفولطية من النمط (N).

التجربة (3): عند فرض كمون (+100mv) على النهاية العصبية للعصبون C في الحالة العادية (1) يسجل تيار داخل نتيجة انفتاح قناة Ca^{2+} من النمط (T) ودخول شوارد Ca^{2+} حسب تدرج التركيز، بينما في الحالة (2) في وجود السم، نسجل تيار داخل سعته ضعيفة جدا يدل على دخول كمية قليلة من شوارد Ca^{2+} .

ومنه فالسم يؤثر على قنوات Ca^{2+} الفولطية من النمط (T).

1 حصص مباشرة

2 حصص مسجلة

3 دورات مكثفة

أحصل على بطاقة الإشتراك



التجربة (4):

المرحلة ①: عند حقن (السم + المادة P) في الشق المشبكي يسجل زوال استقطاب قدره 20mv وتناقص تركيز المادة P الحرة في الشق المشبكي نتيجة تثبتها على المستقبلات القنوية النوعية لقنوات Na^+ المرتبطة بالكيمياء فتتفتح سامحة بدخول Na^+ مولدة كيون بعد مشبكي منبه (PPSE) يصل إلى عتبة توليد كيون عمل في المحور الأسطواني للعصبون الوارد إلى الدماغ فلا يتم الإحساس بالألم. ومنه السم لا يؤثر على قنوات Na^+ المرتبطة بالكيمياء.

المرحلة ②: عند حقن (السم + الأنكيفالين) في الشق المشبكي يسجل فرط في الاستقطاب وتناقص تركيز الأنكيفالين في الشق المشبكي نتيجة تثبته على المستقبلات القنوية النوعية لقنوات Cl^- المرتبطة بالكيمياء فتتفتح سامحة بدخول Cl^- مولدة كيون بعد مشبكي مثبط (PPSI) يثبط توليد كيون عمل في المحور الأسطواني للعصبون الوارد إلى الدماغ فلا يتم الإحساس بالألم. ومنه السم لا يؤثر على قنوات Cl^- المرتبطة بالكيمياء.

1 حصص مباشرة

2 حصص مسجلة

3 دورات مكثفة

أحصل على بطاقة الإشتراك



المرحلة ③: حقن (المادة P + الأنكيفالين) في الشق المشبكي يسجل زوال استقطاب قدره 10mv مع تناقص تركيزهما في الشق المشبكي يدل على تثبيتهما على المستقبلات الغشائية النوعية فتفتحان سامحة من جهة بدخول Na^+ مولدة كمون بعد مشبكي منبه (PPSE) ومن جهة أخرى بدخول Cl^- مولدة كمون بعد مشبكي مثبط (PPSI) فيتم ادماج عصبي على مستوى العصبون الوارد إلى الدماغ، محصلة التجميع الفضائي للـ (PPSE+PPSI) دون عتبة توليد كمون عمل، ومنه عدم الإحساس بالألم.

المرحلة ④: عند حقن السم ثم تنبيه العصبون C نسجل PPSE سعته لا تتجاوز 5mv مع وجود تركيز ضعيف للمادة P في الشق المشبكي يرجع ذلك لتثبيط قنوات Ca^{2+} من النمط (T) من طرف السم فتتخذ كمية قليلة من شوارد الكالسيوم داخل الزر المشبكي مؤديا إلى تحرير كمية قليلة من المادة P في الشق المشبكي التي بتثبيتها على عدد قليل من القنوات الكيميائية تسمح بدخول كمية قليلة من شوارد Na^+ مولدة PPSE لا يصل إلى عتبة توليد كمون عمل وبالتالي عدم الإحساس بالألم.

ومنه السم يؤثر على قنوات Ca^{2+} المرتبطة بالفولطية من النمط (T).
التحقق من مدى صحة الفرضيات:

الفرضية (1) خاطئة لأن السم لا يثبط عمل قنوات Na^+ أو K^+ الفولطية حسب نتائج التجربة (1).
الفرضية (3) خاطئة لأن السم لا يثبط عمل قنوات Na^+ المرتبطة بالكيمياء حسب نتائج المرحلة ① من التجربة (4).

الفرضية (2) صحيحة لأن السم يثبط عمل قنوات Ca^{2+} من النمط (T) لأن نتائج التجربة (3) والمرحلة ④ من التجربة (4) تؤكد ذلك.

2. استخلاص أن سم العنكبوت فعال وأقل ضررا:

من خلال النتائج المتوصل إليها نستخلص أن استعمال سم العنكبوت في معالجة الأكم الحاد فعال لكونه يؤثر على قنوات Ca^{2+} المرتبطة بالفولطية للنهايات العصبية للعصبون C دون أن يخلف آثار جانبية عكس المورفين المسبب للإدمان.

1 حصص مباشرة

2 حصص مسجلة

3 دورات مكثفة

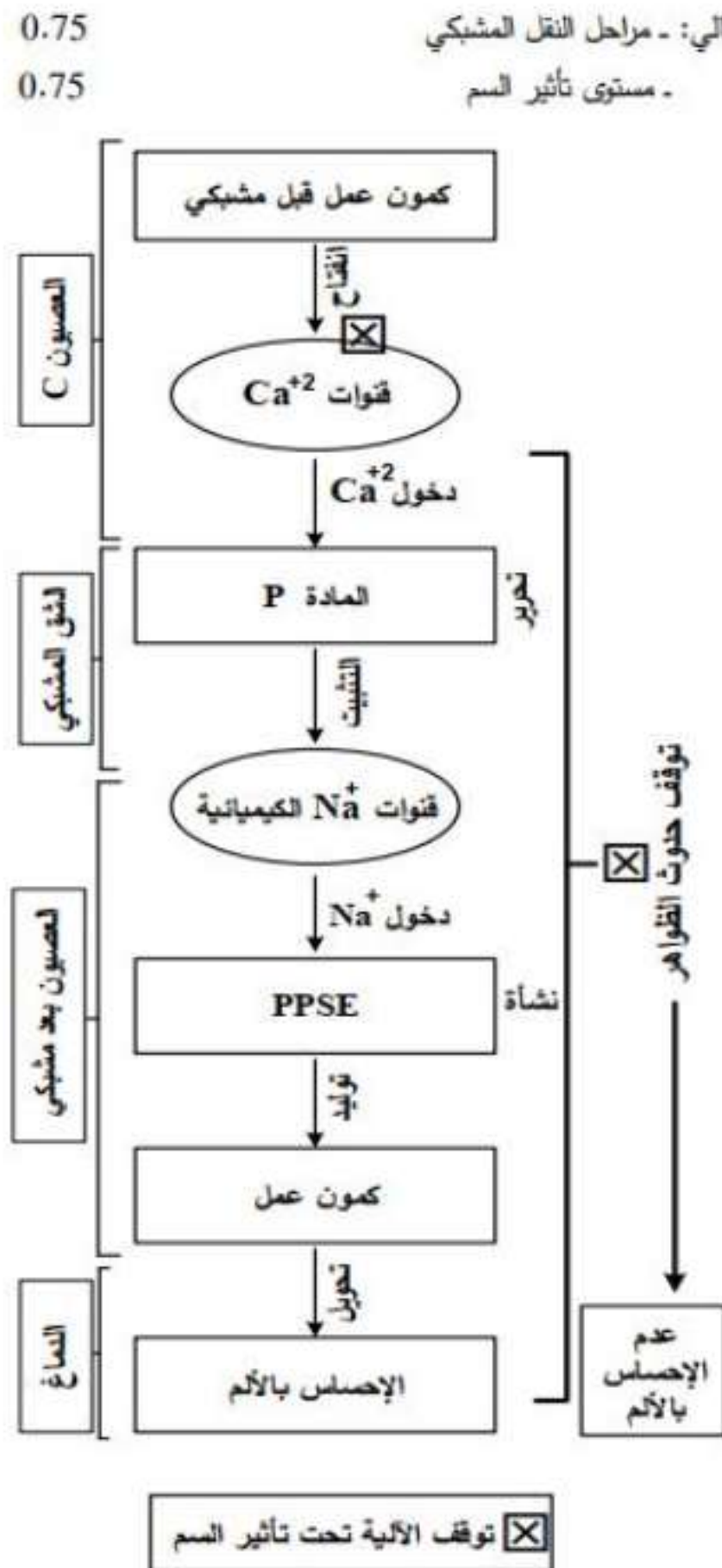
أحصل على بطاقة الإشتراك



الجزء الثالث: المخطط

- النقاط توزع كالتالي: - مراحل النقل المشبكي

- مستوى تأثير السم



ملف الحصة المباشرة و المسجلة



1 حصص مباشرة

2 حصص مسجلة

3 دورات مكثفة

أحصل على بطاقة الإشتراك





ملف الحصة المباشرة و المسجلة

1 حصص مباشرة

1

2 حصص مسجلة

2

3 دورات مكثفة

3

أحصل على بطاقة الإشتراك

