

شهادة استدرابية 2010:

المثلث ABC قائم في A حيث طول AB هو 4cm و طول AC هو 3cm ، ومحيط المثلث 12cm .  
- ارسم هذا المثلث .

شهادة استدرابية 2012 :

لديك قطعة المستقيم AB طولها 6cm و قطعة المستقيم AC طولها 8cm عمودية على قطعة  
المستقيم AB في النقطة A .

- مانوع المضلع ABC ؟

إذا علمت أن طول قطعة المستقيم BC هو 10 cm فما هو محيط المضلع ABC ؟.

وضعية ادماجية:

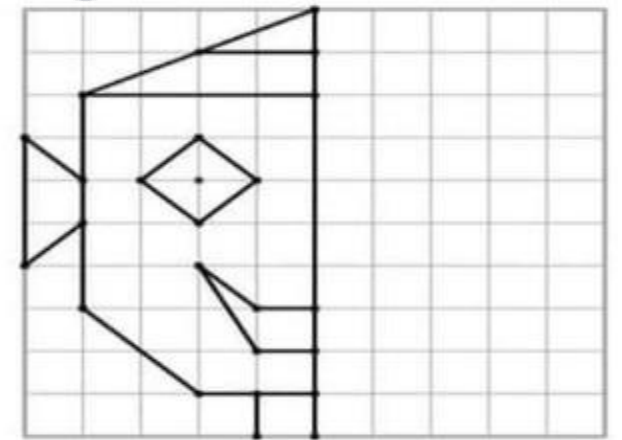
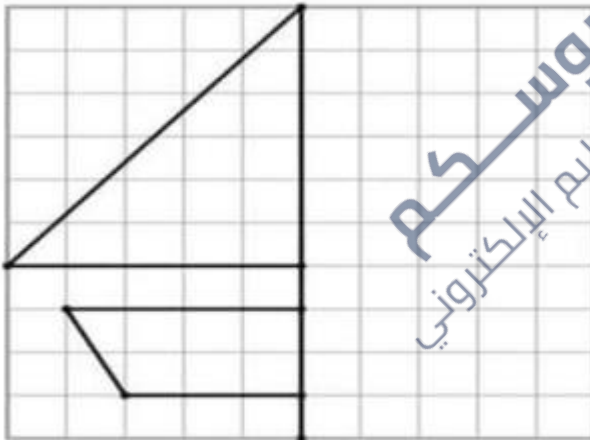
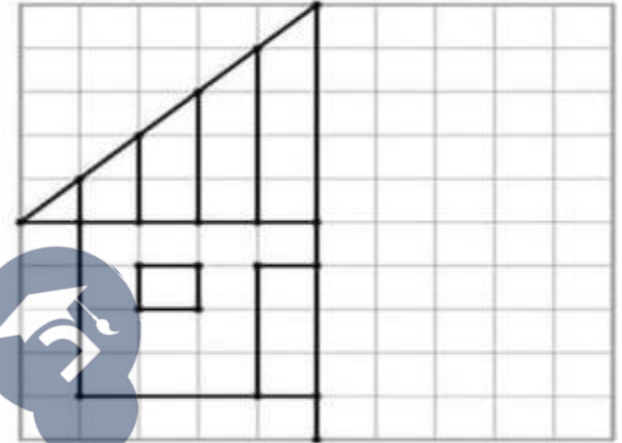
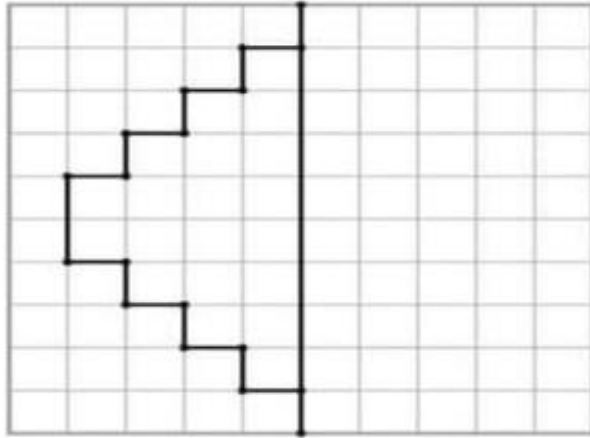
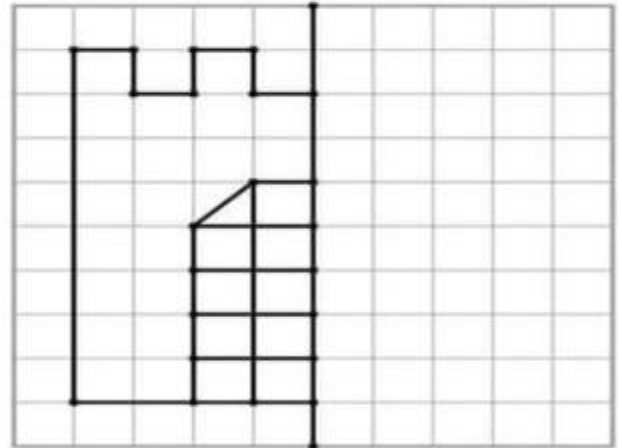
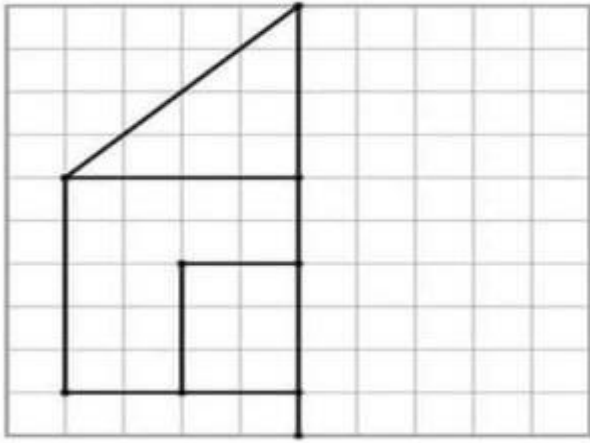
يملك فلاح قطعة أرض فلاحية، طولها 250 m و عرضها 110 m ، استغل الفلاح ربع

الأرض في غرس الطماطم و الباقي تركه للبطاطا و الجزر.

1- احسب محيط هذه الأرض ثم مساحتها.

2- احسب مساحة الجزء المخصص لغرس الطماطم.

3- استنتج مساحة الجزء الذي تركه للبطاطا و الجزر.



دروس حكم  
منصة التعليم الإلكتروني