

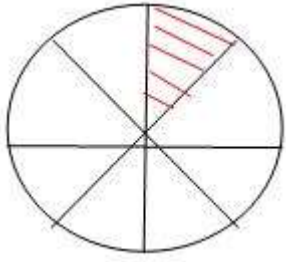
أنشطة تقييمية رقم 10

أنشطة حول الكسور

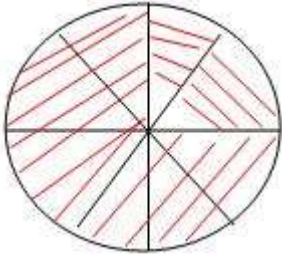
نشاط 1: املأ الجدول التالي:

الكتابة بالأرقام	الكتابة بالحروف
.	سدس
$\frac{7}{15}$.
.	ثلاثة أرباع
$\frac{5}{2}$.
.	جزءان من عشرة

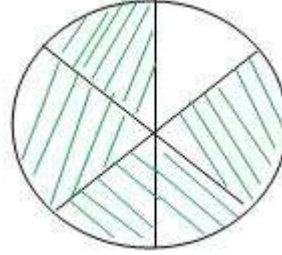
نشاط 2: عبر عن الجزء الملون بكسر:



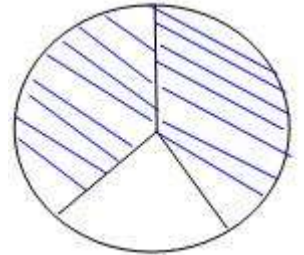
(3)



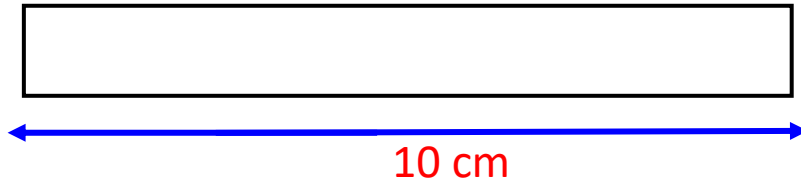
(2)



(1)



نشاط 3: جزء الشريط التالي و لون ثمانية أعشار منه:



- عبر عن الجزء غير الملون بكسر ثم اكتبه بالحروف

نشاط 4: مثل الكسور التالية بأشرطة:

$$\frac{4}{4} \quad \frac{3}{8} \quad \frac{10}{5} \quad \frac{5}{10}$$

نشاط 5: قطع دراج خمس أسداس الطريق:

مثل بكسر المسافة المتبقية.

نشاط 6: أ- اكتب على شكل مجموع عدد طبيعي و كسر أصغر من الوحدة

$$\frac{14}{3} =$$

$$\frac{47}{5} =$$

ب- اكتب المجموع على شكل كسر

$$3 + \frac{3}{5} =$$

$$9 + \frac{1}{5} =$$

ج- احصر الكسور بين عددين طبيعيين :

$$< \frac{17}{5} <$$

$$< \frac{4}{42} <$$

$$< \frac{65}{65} <$$

د- قارن بين كل كسرين :

$$\frac{1}{2} \quad \cdot \quad \frac{3}{4}$$

$$\frac{5}{6} \quad \cdot \quad \frac{6}{5}$$

$$\frac{7}{3} \quad \cdot \quad \frac{10}{3}$$