

وضعية 01

يوجد في مدرسة 9 أقسام ، في القسم الواحد 32 تلميذا.

1- ماهو عدد تلاميذ المدرسة ؟

2- ماهو عدد الإناث إذا كان عدد الذكور هو 136 تلميذا ؟

وضعية 02

اشترى رجل سيارة بـ 1 500 000 دينار، دفع في المرة الأولى 400 500 دينارا ، و دفع في المرة الثانية 890 800 دينار.

- ماهو المبلغ الباقي الذي عليه أن يدفعه ؟

وضعية 03:

يوجد في بستان 3 700 شجيرة منها 680 شجيرة تفاح و 2 790 شجيرة زيتون و الباقي شجيرات رمان.

- ماهو عدد شجيرات الرمان ؟

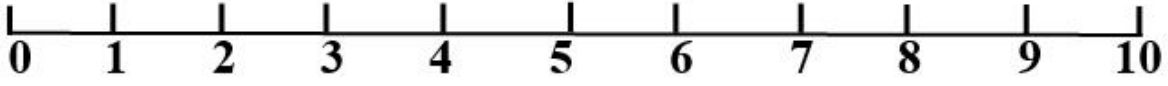
إذا كانت كل شجيرة تستهلك 30 لترا من الماء .

- فما هي كمية الماء المستعملة لسقي جميع الشجيرات في البستان ؟

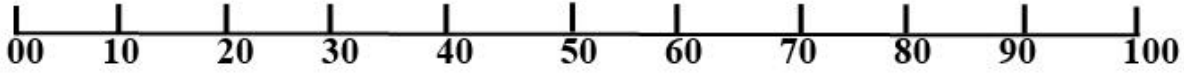
بعد مدة يبست 98 شجيرة تفاح .

- ماهو عدد شجيرات التفاح الباقية ؟

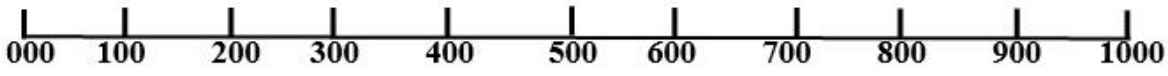
المستقيمات المدرجة الخاصة بالحصص



سلم الوحدات



سلم العشرات



سلم المئات



سلم الآلاف

