



ملف الحصة المباشرة و المسجلة

حل أنشطة تقييمية رقم 02

وضعية 01:

اشترى معلم ثلاثة كتب ، ثمن الأول: 460 DA ، والثاني يقل ثمنه

عن الأول بـ 60 DA ، والثالث يزيد ثمنه عن الثاني بـ 30 DA .

1- ماهو ثمن الكتاب الثاني؟ ك ع

- ماهو ثمن الكتاب الثالث؟ ك 3

- إذا علمت أنه كان بحوزة المعلم 2600 DA ، فكم بقي عنده؟

ك 1: 460 DA

ك 2: (460 - 60)؟

ك 3: (30 + ك 2)؟

الأجوبة

الحل

العمليات

$$460 - 60 = 400 \text{ DA}$$

ثمن الكتاب 2: 400 DA

$$\begin{array}{r} 460 \\ - 60 \\ \hline 400 \end{array}$$

$$400 + 30 = 430 \text{ DA}$$

ثمن الكتاب 3: 430 DA

$$\begin{array}{r} 400 \\ + 30 \\ \hline 430 \end{array}$$

$$460 + 400 + 430 = 1290 \text{ DA}$$

ثمن المشتريات 1290 DA

$$\begin{array}{r} 460 \\ + 400 \\ + 430 \\ \hline 1290 \end{array}$$

$$2600 - 1290 = 1310$$

بقي عنده: 1310 DA

$$\begin{array}{r} 2600 \\ - 1290 \\ \hline 1310 \end{array}$$



وضعية 01:

اشترى معلم ثلاثة كتب ، ثمن الأول : 460 DA ، والثاني يقل ثمنه

$$\begin{array}{r} 460 \\ - 60 \\ \hline 400 \end{array}$$

الأجوبة

$$460 - 60 = 400$$

ثمن الكتاب الثاني هو : 400 دج

عن الأول بـ 60 DA ، و الثالث يزيد ثمنه عن الثاني بـ 30 DA .

$$\begin{array}{r} 400 \\ + 30 \\ \hline 430 \end{array}$$

$$400 + 30 = 430$$

ثمن الكتاب الثالث هو : 430 دج

- ماهو ثمن الكتاب الثاني ؟

$$\begin{array}{r} 460 \\ + 400 \\ + 430 \\ \hline 1290 \end{array}$$

$$460 + 400 + 430 = 1290$$

ثمن الكتب الثلاثة : 1 290 دج

- ماهو ثمن الكتاب الثالث ؟

- إذا علمت أنه كان بحوزة المعلم 2600 DA ، فكم بقي عنده؟

$$\begin{array}{r} 2600 \\ - 1290 \\ \hline 1310 \end{array}$$

$$2600 - 1290 = 1310$$

بقي عند المعلم : 1 310 دج

1 حصص مباشرة

2 حصص مسجلة

3 دورات مكثفة

أحصل على بطاقة الإشتراك





وضعية 02:

عند وسيم 3 أوراق مالية من فئة 200 ديناراً

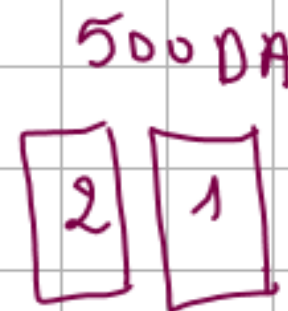
وورقتين من فئة 500 ديناراً

1- كم ديناراً يملكه وسيم؟

اشترى بالمبلغ لعبة ثمنها 950 ديناراً

1- كم ديناراً بقي معه؟

200 DA



600 DA

العمليات

$$\begin{array}{r} 200 \\ \times 3 \\ \hline 600 \\ \hline 500 \\ \times 2 \\ \hline 1000 \\ \hline 1000 \\ + 600 \\ \hline 1600 \end{array}$$

$$\begin{array}{r} 1600 \\ - 950 \\ \hline 650 \end{array}$$

الحل

الأجوبة

$$200 + 200 + 200 = 200 \times 3 = 600$$

$$500 + 500 = 500 \times 2 = 1000$$

$$600 + 1000 = 1600 \text{ DA}$$

بمبلغ وسيم 1600 DA

$$1600 - 950 = 650 \text{ DA}$$

المبلغ المتبقي هو 650 DA

الأجوبة

$$200 \times 3 = 600$$

$$500 \times 2 = 1000$$

$$600 + 1000 = 1600$$

المبلغ الذي يملكه وسيم هو: **1600** دج

الحل

$$\begin{array}{r} 200 \\ \times 3 \\ \hline 600 \end{array}$$

$$\begin{array}{r} 500 \quad 1000 \\ \times 2 \quad + 600 \\ \hline 1000 \quad 1600 \end{array}$$

$$1600 - 950 = 650$$

المبلغ المتبقي لوسيم هو: **650** دج

العمليات

وضعية 02:

عند وسيم 3 أوراق مالية من فئة 200 ديناراً وورقتين من فئة 500 ديناراً .

1- كم ديناراً يملكه وسيم ؟

اشترى بالمبلغ لعبة ثمنها 950 ديناراً .

1- كم ديناراً بقي معه ؟

دروسكم
ملصقة التعليم الإلكتروني

ملف الحصة المباشرة و المسجلة

1 حصص مباشرة

2 حصص مسجلة

3 دورات مكثفة

أحصل على بطاقة الإشتراك



الأجوبة

$$45 \times 7 = 315 \text{ DA}$$

ثمن الكرارييس هو 315 DA

$$35 \times 5 = 175$$

ثمن الأقلام هو 175 DA

$$1500 + 315 + 200 + 175 = 2190 \text{ DA}$$

ثمن كل المشتريات هو 2190 DA

الحل

العمليات

$$\begin{array}{r} 45 \\ \times 7 \\ \hline 315 \end{array}$$

$$\begin{array}{r} 35 \\ \times 5 \\ \hline 175 \end{array}$$

$$\begin{array}{r} 1500 \\ + 315 \\ + 200 \\ + 175 \\ \hline 2190 \end{array}$$

وضعية 03:

اشترى الأب من المكتبة 7 كرارييس 45 ديناراً للكراس الواحد، و 5 أقلام
بـ 35 ديناراً للقلم الواحد و مقلمة بـ 200 ديناراً، و محفظة بـ 1500 ديناراً.

1- احسب ثمن الكرارييس.

2- احسب ثمن الأقلام.

3- احسب ثمن كل المشتريات.

ملف الحصة المباشرة و المسجلة

حصى مباشرة

1

حصى مسجلة

2

دورات مكثفة

3

أحصل على بطاقة الإشتراك





ملف الحصة المباشرة و المسجلة

وضعية 03:

اشترى الأب من المكتبة 7 كراريس بـ 45 ديناراً للكراس الواحد، و 5 أقلام بـ 35 ديناراً للقلم الواحد و مقلمة بـ 200 ديناراً، و محفظة بـ 1500 ديناراً.

1- احسب ثمن الكراريس.

2- احسب ثمن الأقلام.

3- أحسب ثمن كل المشتريات.

العمليات

$$\begin{array}{r} 45 \\ \times 7 \\ \hline 315 \end{array}$$

$$\begin{array}{r} 35 \\ \times 5 \\ \hline 175 \end{array}$$

$$\begin{array}{r} 1500 \\ + 200 \\ + 315 \\ + 175 \\ \hline 2190 \end{array}$$

الحل

الأجوبة

$$45 \times 7 = 315$$

ثمن الكراريس هو : 315 دج

$$35 \times 5 = 175$$

ثمن الأقلام هو : 175 دج

$$1500 + 200 + 315 + 175 = 2190$$

ثمن كل المشتريات هو : 2190 دج

دروسكم
منصة التعليم الإلكتروني

1 حصص مباشرة

2 حصص مسجلة

3 دورات مكثفة

أحصل على بطاقة الاشتراك



كيفية حصر عدد

بين عشرين متتاليتين :

$$72640 < 72645 < 72650$$

بين مائتين متتاليتين :

$$72600 < 72645 < 72700$$

بين ألفين متتاليتين :

$$72000 < 72645 < 73000$$

حصر الأعداد إلى 999 999 (2):

تذكر:

لحصر عدد طبيعي أكتبه بين عدد أصغر منه و عدد أكبر منه

الطريقة (1)

الطريقة (2)

الحصر

دروسكم

منصة التعلم الإلكتروني

ملف الحصة المباشرة و المسجلة

1 حصص مباشرة

2 حصص مسجلة

3 دورات مكثفة

أحصل على بطاقة الإشتراك



مثال: 86 435

أحصر العدد بين مئتين
مئتين:

86 400 < 86 435 < 86 500
حافظاً +1

*الطريقة (1):

- 1- أكتب العدد في **الوسط** مع وضع **الرموز** بحيث يكون العدد **الصغير** جهة **اليسار** و **العدد الكبير** جهة **اليمين**.
- 2- **أحوظ** على **المرتبة** المطلوبة في السؤال.
- 3- **أحافظ** عليها ناحية **اليسار** (العدد الصغير) أما إذا كان **الحصر** بين **وحدتين** متتاليتين **فننقص** واحد ناحية **اليسار**.
- 4- **أضيف** لها **1** ناحية **اليمين** (العدد الكبير).
- 5- أكتب الأعداد التي تأتي **بعد** **المرتبة** المحددة كما هي و **لأغیرها** في **الجهتين**.
- 6- **أضع** **الأصفار** قبل **المرتبة** **بعد** **الأرقام** الموجودة.

دروسكم
ملصقة التعليم الإلكتروني

ملف الحصة المباشرة و المسجلة

1 حصص مباشرة

2 حصص مسجلة

3 دورات مكثفة

أحصل على بطاقة الإشتراك



مثال: 36 756

$$36\ 755 < 36\ 756 < 36\ 757$$

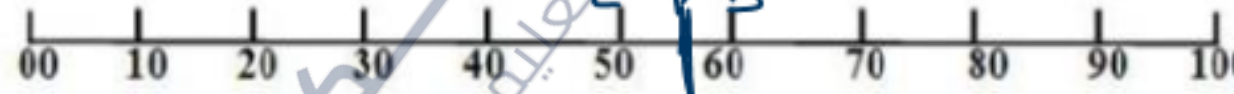
سلم الوحدات



1- احصر بين وحدتين متتاليتين

$$36\ 750 < 36\ 756 < 36\ 760$$

سلم العشرات



2- احصر بين عشرتين متتاليتين



ملف الحصة المباشرة و المسجلة

1 حصص مباشرة

2 حصص مسجلة

3 دورات مكثفة

أحصل على بطاقة الإشتراك



حصة مباشرة

1

حصة مسجلة

2

دورات مكثفة

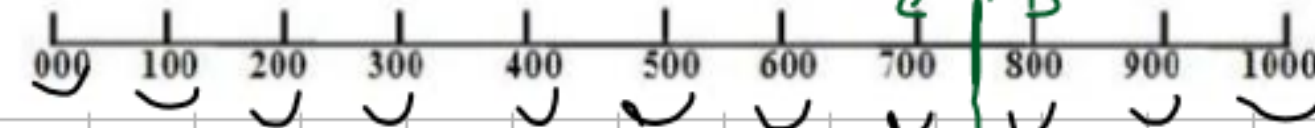
3

أحصل على بطاقة الإشتراك



3- احصر بين متين متاليتين

سلم المنات



مثال: 36 756

$$36\ 700 < 36\ 756 < 36\ 800$$

$$36\ 700 < 36\ 756 < 36\ 800$$

حافظا +1

4- احصر بين ألفين متاليتين

سلم الآلاف



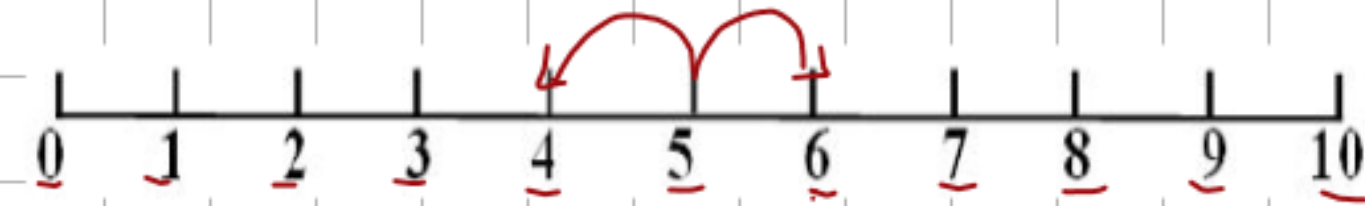
$$36\ 000 < 36\ 756 < 37\ 000$$

$$36\ 000 < 36\ 756 < 37\ 000$$

حافظا +1

دروسكم
منصة التعليم الإلكتروني

تدريب: احصر العدد : 86 435 بين :

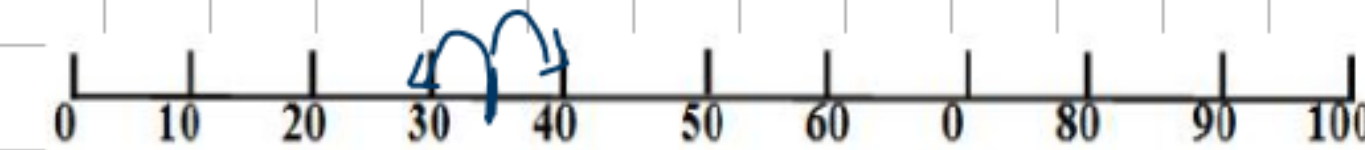


< 86 435 <

1- وحدتين متاليتين

$$86434 < 86435 < 86436 \quad | \quad 86434 < 86435 < 86436$$

Handwritten annotations: A red circle around the 5 in 86435, a red arrow from 4 to 5 labeled '-1', and a red arrow from 5 to 6 labeled '+1'.



< 86 435 <

2- عشرتين متاليتين

$$86430 < 86435 < 86440$$

$$86430 < 86435 < 86440$$

Handwritten annotations: A blue circle around the 35 in 86435, a blue arrow from 30 to 35 labeled 'حافظ', and a blue arrow from 35 to 40 labeled '+1'.

دروسكم
منصة التعليم الإلكتروني

ملف الحصة المباشرة و المسجلة

1 حصص مباشرة

2 حصص مسجلة


3 دورات مكثفة

أحصل على بطاقة الإشتراك





ملف الحصة المباشرة و المسجلة



< 86 435 <

3- مئتين متاليتين

$$86\ 400 < 86\ 435 < 86\ 500$$


$$86\ 400 < 86\ 435 < 86\ 500$$

حافظا +1

1 حصص مباشرة

2 حصص مسجلة

3 دورات مكثفة



< 86 435 <

4- ألفين متاليتين

أحصل على بطاقة الإشتراك



أنشطة تقييمية رقم 03

ج- أخصر كل عدد بين مائتين متتاليتين :

< 789 402 <

< 6 756 <

د- أخصر كل عدد بين ألفين متتاليتين :

< 838 920 <

< 96 262 <

نشاط: أ- أخصر كل عدد بين عددين طبيعيين متتاليتين:

< 14 378 <

< 789 402 <

< 4 937 <

< 217 388 <

وحددتين متتاليتين
ما هو العدد الذي يسبق
والذي يلي هذا العدد

ب- أخصر كل عدد بين عشرين متتاليتين :



واجب



ملف الحصة المباشرة و المسجلة

1 حصص مباشرة

2 حصص مسجلة

3 دورات مكثفة

أحصل على بطاقة الإشتراك



واجب 😊

الوضعية 01:

- أراد سليم وهاجر شراء هدية لأمهاتهما 2435 DA فدفَعَ سليم 1450 DA .
- كم دفعت هاجر؟

الوضعية 02:

- يتسع خزان محطة بنزين لـ 5000 L ، باع منه صاحب المحطة 2456 L في اليوم الأول و 780 L في اليوم التالي.
- أحسب كمية البنزين المباعة في اليومين.
- ماهي كمية البنزين المتبقية في الخزان؟

دروسكم
منصة التعليم الإلكتروني

ملف الحصة المباشرة و المسجلة

1 حصص مباشرة

2 حصص مسجلة

3 دورات مكثفة

أحصل على بطاقة الإشتراك

